

### جغرافیہ صنف ۹





## سرود ملی

دا عزت د هر افغان دی  
هر بچی یې قهرمان دی  
د بلوڅو د ازبکو  
د ترکمنو د تاجکو  
پامیریان، نورستانیان  
هم ایماق، هم پشه یان  
لکه لمر پر شنه آسمان  
لکه زره وي جاویدان  
وایو الله اکبر وایو الله اکبر

دا وطن افغانستان دی  
کور د سولې کور د تورې  
دا وطن د ټولو کور دی  
د پښتون او هزاره وو  
ورسره عرب، گوجر دي  
براهوي دي، قزلباش دي  
دا هېواد به تل ځلیري  
په سینه کې د آسیا به  
نوم د حق مودی رهبر

بِسْمِ اللّٰهِ الرَّحْمٰنِ الرَّحِیْمِ



# جغرافیه

## صنف نهم

۱۳۹۹ ه.ش

## مشخصات کتاب

مضمون: جغرافیه

مؤلفان: گروه مؤلفان کتاب‌های درسی دیپارتمنت جغرافیة نصاب تعلیمی

ویراستاران: اعضای دیپارتمنت ویراستاری و ایدیت زبان دری

صنف: نهم

زبان متن: دری

انکشاف دهنده: ریاست عمومی انکشاف نصاب تعلیمی و تألیف کتب درسی

ناشر: ریاست ارتباط و آگاهی عامه وزارت معارف

سال چاپ: ۱۳۹۹ هجری شمسی

ایمیل آدرس: curriculum@moe.gov.af

حق طبع، توزیع و فروش کتاب‌های درسی برای وزارت معارف جمهوری اسلامی افغانستان محفوظ است. خرید و فروش آن در بازار ممنوع بوده و با متخلفان برخورد قانونی صورت می‌گیرد.

## پیام وزیر معارف

اقراً باسم ربك

سپاس و حمد بیکران آفریدگار یکتایی را که بر ما هستی بخشید و ما را از نعمت بزرگ خواندن و نوشتن برخوردار ساخت، و درود بی پایان بر رسول خاتم - حضرت محمد مصطفی ﷺ که نخستین پیام الهی بر ایشان «خواندن» است.

چنانچه بر همه گان هویدا است، سال ۱۳۹۷ خورشیدی، به نام سال معارف مسمی گردید. بدین ملحوظ نظام تعلیم و تربیت در کشور عزیز ما شاهد تحولات و تغییرات بنیادینی در عرصه های مختلف خواهد بود؛ معلم، متعلم، کتاب، مکتب، اداره و شوراهای والدین، از عناصر شش گانه و اساسی نظام معارف افغانستان به شمار می روند که در توسعه و انکشاف آموزش و پرورش کشور نقش مهمی را ایفا می نمایند. در چنین برهه سرنوشت ساز، رهبری و خانواده بزرگ معارف افغانستان، متعهد به ایجاد تحول بنیادی در روند رشد و توسعه نظام معاصر تعلیم و تربیت کشور می باشد.

از همین رو، اصلاح و انکشاف نصاب تعلیمی از اولویت های مهم وزارت معارف پنداشته می شود. در همین راستا، توجه به کیفیت، محتوا و فرایند توزیع کتاب های درسی در مکاتب، مدارس و سایر نهادهای تعلیمی دولتی و خصوصی در صدر برنامه های وزارت معارف قرار دارد. ما باور داریم، بدون داشتن کتاب درسی با کیفیت، به اهداف پایدار تعلیمی در کشور دست نخواهیم یافت.

برای دستیابی به اهداف ذکر شده و نیل به یک نظام آموزشی کارآمد، از آموزگاران و مدرسان دلسوز و مدیران فرهیخته به عنوان تربیت کننده گان نسل آینده، در سراسر کشور احترامانه تقاضا می گردد تا در روند آموزش این کتاب درسی و انتقال محتوای آن به فرزندان عزیز ما، از هیچ نوع تلاشی دریغ نورزیده و در تربیت و پرورش نسل فعال و آگاه با ارزش های دینی، ملی و تفکر انتقادی بکوشند. هر روز علاوه بر تجدید تعهد و حس مسؤولیت پذیری، با این نیت تدریس را آغاز کنند، که در آینده نزدیک شاگردان عزیز، شهروندان مؤثر، متمدن و معماران افغانستان توسعه یافته و شکوفا خواهند شد.

همچنین از دانش آموزان خوب و دوست داشتنی به مثابه ارزشمندترین سرمایه های فردای کشور می خواهیم تا از فرصت ها غافل نبوده و در کمال ادب، احترام و البته کنجکاوی علمی از درس معلمان گرامی استفاده بهتر کنند و خوشه چین دانش و علم استادان گرامی خود باشند.

در پایان، از تمام کارشناسان آموزشی، دانشمندان تعلیم و تربیت و همکاران فنی بخش نصاب تعلیمی کشور که در تهیه و تدوین این کتاب درسی مجدانه شبانه روز تلاش نمودند، ابراز قدردانی کرده و از بارگاه الهی برای آن ها در این راه مقدس و انسان ساز موفقیت استدعا دارم. با آرزوی دستیابی به یک نظام معارف معیاری و توسعه یافته، و نیل به یک افغانستان آباد و مرفعی دارای شهروندان آزاد، آگاه و مرفه.

دکتور محمد میرویس بلخی

وزیر معارف



صفحات	عنوان	فصل اول
۴-۳	موقعیت و حدود اربعه قاره افریقا	درس اول
۶-۵	جغرافیای طبیعی - کوها	درس دوم
۱۰-۷	دریاها	درس سوم
۱۴-۱۱	حوزهٔ کانگو	درس چهارم
۱۶-۱۵	جهیل‌ها	درس پنجم
۲۰-۱۷	بحیره‌ها	درس ششم
۲۲-۲۱	خلیج‌ها	درس هفتم
۲۴-۲۳	اقلیم	درس هشتم
۲۸-۲۵	ساحات مختلف اقلیمی	درس نهم
۳۲-۲۹	جغرافیای سیاسی	درس دهم
۳۶-۳۳	جغرافیای بشری	درس یازدهم
۳۸-۳۷	دین و زبان	درس دوازدهم
۴۰-۳۹	جغرافیای اقتصادی، الف - زراعت و مالداری	درس سیزدهم
۴۲-۴۱	ب ( معادن و صنایع	درس چهاردهم
۴۴-۴۳	جغرافیای مواصلاتی	درس پانزدهم
۴۶-۴۵	حمل و نقل از طریق آب‌ها	درس شانزدهم
۴۷		خلاصهٔ فصل اول
۴۹-۴۸	جدول بعضی مشخصات جغرافیایی کشورهای مستقل قارهٔ افریقا	

## فصل دوم

.....	آسترالیا	۵۰
.....	درس هفدهم ..... موقعیت، الف، حدود اربعه	۵۱
.....	ب - کشف آسترالیا	۵۴-۵۱
.....	درس هژدهم ..... جغرافیای طبیعی، الف) کوه‌ها	۵۸-۵۵
.....	درس نوزدهم ..... ب) دریاها	۶۰-۵۹
.....	درس بیستم ..... ج) جهیل‌ها	۶۲-۶۱
.....	درس بیست و یکم ..... د) اقلیم	۶۴-۶۳
.....	درس بیست و دوم ..... جغرافیای سیاسی آسترالیا	۶۶-۶۵
.....	درس بیست و سوم ..... جغرافیای بشری	۶۸-۶۷
.....	درس بیست و چهارم ..... دین و زبان	۷۰-۶۹
.....	درس بیست و پنجم ..... جغرافیای اقتصادی	۷۴-۷۱
.....	درس بیست و ششم ..... معادن و صنایع	۷۶-۷۵
.....	درس بیست و هفتم ..... جغرافیای مواصلاتی	۷۸-۷۷
.....	درس بیست و هشتم ..... اقیانوسیه	۸۰-۷۹
.....	درس بیست و نهم ..... وضع اقتصادی	۸۲-۸۱
.....	درس سی ام ..... نیوزیلاند	۸۶-۸۳
.....	درس سی و یکم ..... انتارکتیکا (قطب جنوب)	۸۸-۸۷
.....	خلاصه فصل دوم	۸۹
.....	اصطلاحات	۹۱-۹۰

# افریقا



موقعیت قاره افریقا در نقشه جهان

در نقشه براعظم افریقا را مشاهده می‌نمایید.

**در این فصل می‌خوانیم:**

- موقعیت و حدود اربعه قاره افریقا
- جغرافیای طبیعی
- کوه‌ها
- دریاها
- جهیل‌ها
- بحیره‌ها
- خلیج‌ها
- اقلیم
- جغرافیای سیاسی
- جغرافیای بشری
- جغرافیای اقتصادی
- جغرافیای مواصلاتی



## اهداف عمومی فصل

توقع می‌رود تا شاگردان عزیز به اهداف علمی ذیل در این فصل نایل آیند:

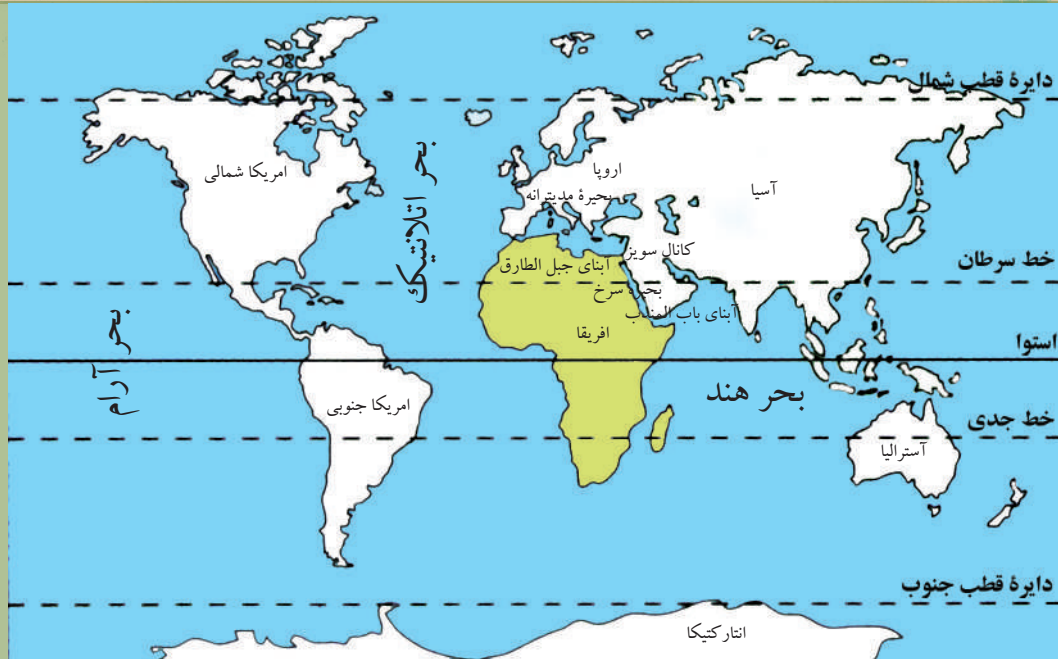
- آشنایی با موقعیت جغرافیایی قاره آفریقا
- آشنایی با مهمترین‌کوه‌ها در قاره آفریقا
- آشنایی با مهمترین دریاها، جهیل‌ها و بحیره‌های آفریقا
- آشنایی با جغرافیای سیاسی قاره آفریقا
- آشنایی با جغرافیای بشری قاره آفریقا
- آشنایی با جغرافیای اقتصادی (زراعت و مالداری، معادن، صنعت و تجارت) قاره آفریقا
- آشنایی با جغرافیای مواصلاتی قاره آفریقا

شاگردان عزیز می‌توانند

مهارت‌های ذیل را در این فصل کسب نموده و بیاموزند:

- موقعیت جغرافیایی قاره آفریقا را روی نقشه تعیین نمایند
- موقعیت جغرافیایی ممالک آفریقایی را روی نقشه نشان دهند
- ترکیب قومی و اجتماعی نفوس قاره آفریقا را بیان کنند
- وضعیت اقتصادی قاره آفریقا را بیان کنند.

## موقعیت و حدود اربعه قاره آفریقا



موقعیت قاره آفریقا

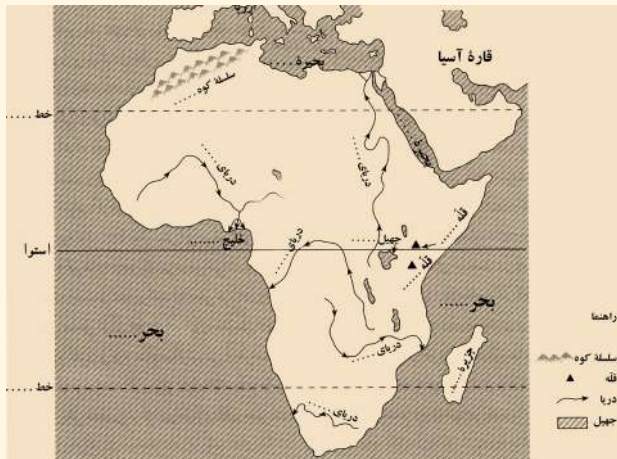
آیا می‌توانید که نژاد سیاه‌وست بیشتر در کدام قاره جهان زنده‌گی می‌کنند؟

به شکل بالا نگاه کنید. قاره آفریقا در جنوب براعظم اروپا و غرب براعظم آسیا بین بحر هند، اقیانوس اطلس (اتلانتیک) و بحیره مدیترانه، میان ۳۶ درجه عرض‌البلد شمالی، ۳۴ درجه عرض‌البلد جنوبی ۱۸ درجه طول‌البلد غربی و ۵۳ درجه طول‌البلد شرقی واقع شده است که در حدود بیش از یک پنجم کل مساحت جهان را در بر می‌گیرد، حال آن‌که تمام مساحت زمین (خشکه و آب‌های روی زمین) ۵۱۰,۱۰۰,۰۰۰ کیلومتر مربع تخمین نموده‌اند. از این ساحه، حدود یک سوم آن، یعنی ۱۴۸,۶ میلیون کیلومتر مربع را خشکه و حدود ۳۶۱,۵ میلیون کیلومتر مربع را آب تشکیل می‌دهند.

قاره آفریقا از لحاظ مساحت بعد از آسیا و امریکا به درجه سوم قرار دارد که مساحت آن ۳۰ میلیون کیلومتر مربع است. نفوس براعظم آفریقا در سال ۲۰۱۷ میلادی بیش از ۱,۲۵ میلیارد نفر می‌رسید.

موقعیت براعظم آفریقا را در روی نقشه نشان داده و حدود اربعه آن را بیان کنید.  
براعظم آفریقا از شمال به بحیره مدیترانه، از شرق به اقیانوس هند و بحیره سرخ و از جنوب به

آب‌های مشترک اقیانوس اطلس (اتلانتیک) و بحر هند محدود است. به طرف غرب آن اقیانوس اطلس موقعیت دارد. حفر کانال سویز ارتباط آبی میان بحیره مدیترانه و بحیره سرخ را به وجود آورده است. براعظم افریقا از چهار طرف توسط اقیانوس‌ها و بحیره‌ها محصور شده و به صورت یک جزیره در آمده است. این قاره از ناحیه شمال‌غربی توسط آبنای باریک جبل الطارق از قاره اروپا جدا شده است و آبنای باب‌المنذب و بحیره سرخ در شمال‌شرق آن را از آسیا جدا می‌سازد.



نقشه سفید قاره افریقا

### فعالیت داخل صنف

شاگردان در صنف به گروه‌ها تقسیم شوند و هر گروه از روی نقشه حدود اربعه و موقعیت جغرافیایی افریقا را طی سوال و جواب به دیگران ارائه نمایند.

### سوال‌ها

- ۱- حفر کانال سویز ارتباط آبی را میان کدام بحیره‌ها به وجود آورده است؟
- ۲- کانال سویز در کدام قسمت افریقا موقعیت دارد؟
- ۳- قاره آسیا از افریقا توسط کدام آبنای جدا شده است؟ جواب درست آن را در کتابچه‌های تان حلقه کنید.

(ب) آبنای باب‌المنذب  
(د) آبنای درانیل

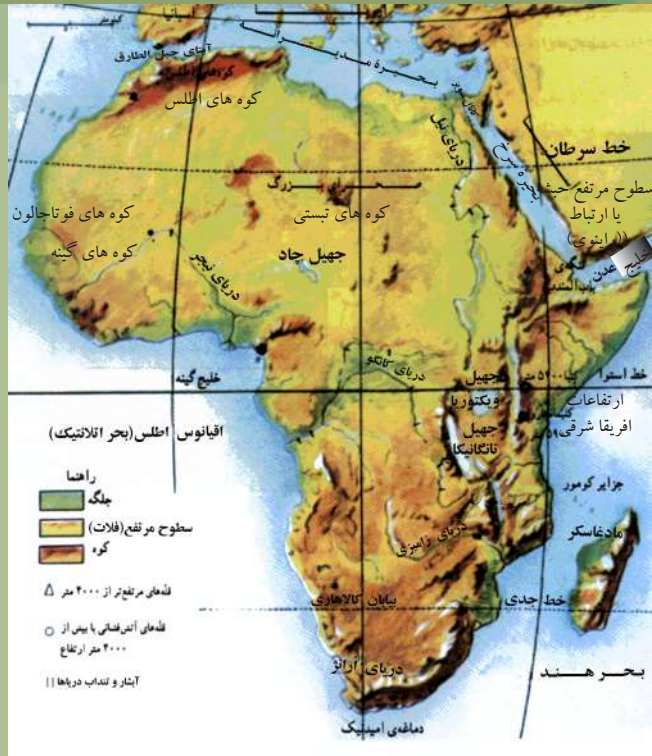
(الف) آبنای جبل الطارق  
(ج) آبنای بیرینگ

### فعالیت خارج از صنف

شاگردان نقشه افریقا را در کتابچه‌های خود ترسیم نموده و در ضمن بگویند که کدام آبنای افریقا را از اروپا و آسیا جدا می‌سازد.



نمایی از صحرای اعظم آفریقا



نقشه طبیعی قاره آفریقا

کدام کوه‌های مشهور در آفریقا وجود دارند؟

به شکل بالای صفحه نگاه کنید. قاره آفریقا از لحاظ ساختار جغرافیایی دارای کناره‌های صاف و بدون بریده‌گی‌های زیاد است و از این سبب است که در این شبه‌جزیره‌ها و خلیج‌های بزرگ آن طوری که در آسیا و امریکای شمالی وجود دارد دیده نمی‌شود؛ اما داخل این قاره از فلات‌های وسیعی تشکیل گردیده که اطراف آن را کوه‌های بلند به خصوص از طرف شرق محاصره کرده است؛ ولی روی هم رفته کوه‌ها و چین خورده‌گی‌ها در این قاره کم است.

### کوه‌ها

کوه‌های مهم قاره آفریقا عبارت‌اند از: کوه‌های اطلس در شمال غرب آفریقا با ارتفاع بیش از ۴۰۰۰ متر با سلسله‌های متوازی ساحلی که دنباله کوه‌های آپنین در ایتالیا محسوب می‌شوند و در میان بحیره مدیترانه و صحرای بزرگ واقع شده‌اند. این سلسله از تونس شروع شده به استقامت غرب امتداد دارد و به نام کوه‌های اطلس مرکزی، اطلس ساحلی و اطلس کوچک یاد می‌شود. کوه‌های گینه در شمال غرب

خلیج گینه موازی به ساحل قرار گرفته اند. بلندترین ارتفاعات این سلسله کوی‌ها (فوتاجالون) در غرب است که بیش از ۱۵۰۰ متر ارتفاع دارد. همچنین در شرق آفریقا، اراضی مرتفع وجود دارد که به نام سطوح مرتفع حبشه یاد می‌گردد؛ همچنین در شرق جهیل و یکتوریا ارتفاعات آفریقای شرقی قرار داشته که ارتفاع کینیا به ۵۱۹۹ متر و کلیمانجارو به ۵۸۹۵ متر می‌رسد.

کوه‌های تبستی از کوه‌های دیگر آفریقا است که در نواحی صحرائی واقع شده، بلندترین قلّه آن‌های به نام امی قوسی یاد می‌شود و از سطح بحر در حدود ۳۵۰۰ متر ارتفاع دارد.

- صحرای بزرگ براعظم آفریقا در کدام قسمت این قاره قرار دارد؟

نقاط صحرائی که در شمال آفریقا موقعیت دارد به نام صحرای اعظم یاد می‌شود. ریگستان‌های بزرگ جهان را تشکیل می‌دهد که اکثر نقاط آن قابل زراعت نمی‌باشد. نقاط ساحلی آفریقا به دلیل نزدیکی به بحر ساحات زراعتی را تشکیل می‌دهد؛ مثلاً: شمال مصر، شمال لیبیا، شمال الجزایر و همچنان سواحل جنوب شرق آن نقاط حاصلخیز زراعتی را به وجود آورده است. سواحل شرقی آن در امتداد کشور سومالی و موزمبیق ساحات زراعتی مهمی را تشکیل می‌دهد.

### فعالیت داخل صنف

شاگردان به گروه‌ها تقسیم شوند و هر گروه روی مطالب عمده درس با هم بحث و گفتگو کنند و نتیجه را پیش روی صنف ارائه دارند.

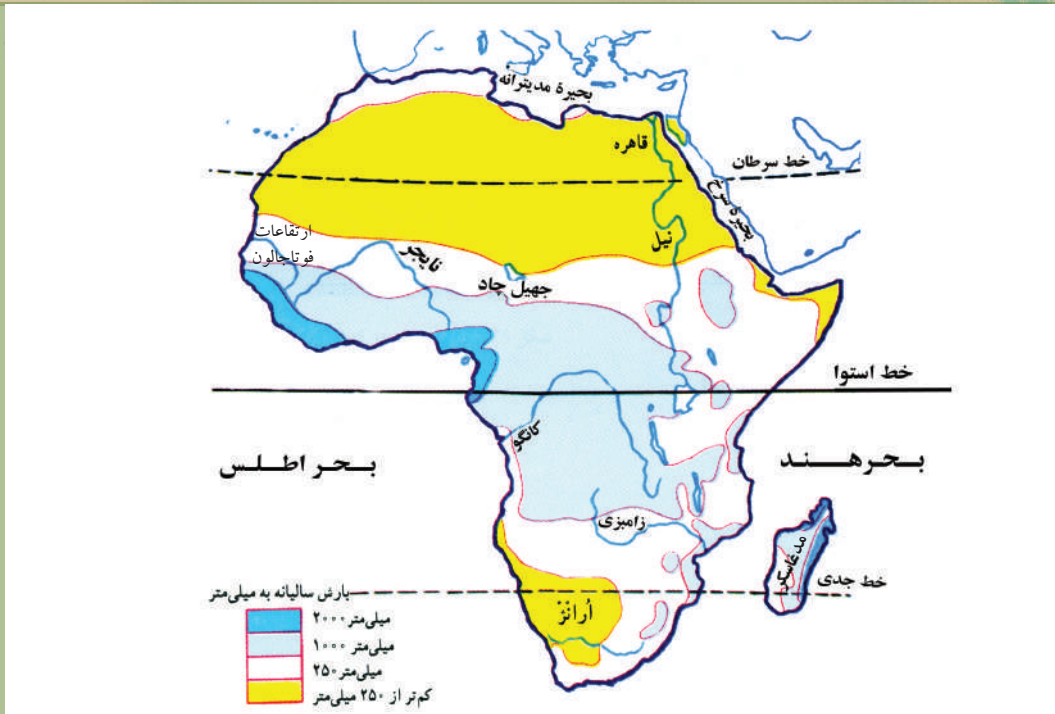
### سوال‌ها

- ۱- بلندترین ارتفاعات خلیج گینه در غرب چه نام دارد؟
- ۲- کوهستان اطلس در کجا موقعیت دارد؟
- ۳- در شرق قاره آفریقا کدام سطح مرتفع قرار دارد؟
- ۴- کوه‌های تبستی در کجای آفریقا موقعیت دارد؟

### فعالیت خارج از صنف

نقشه سفید قاره آفریقا در درس اول را در کتابچه‌های تان تکمیل کنید و به سؤالات زیر جواب دهید.

- ۱- سلسله کوهی که در شمال غرب آفریقا قرار گرفته است چه نام دارد؟
- ۲- نام قلّه‌های بلند آفریقا را بنویسید.



دریاهای مشهور آفریقا

دریاهای آفریقا در کدام حوزه‌ها موقعیت داشته و در حیات اقتصادی و زراعتی آن براعظم چه اهمیت دارد؟

نقشه دریاهای آفریقا را نگاه کنید؛ چون خط استوا از وسط براعظم آفریقا می‌گذرد بنابراین بارندگی در ساحت استوایی آن خیلی زیاد است. از این جهت دریاهای زیادی در براعظم آفریقا جریان دارد که همه پر از آب و طولانی هستند اما بنابر جریان تند و عمق کم آب، دریاهای آن قابل کشتی‌رانی نیستند.

حوزه‌های آبگیر آفریقا کدام‌ها اند؟

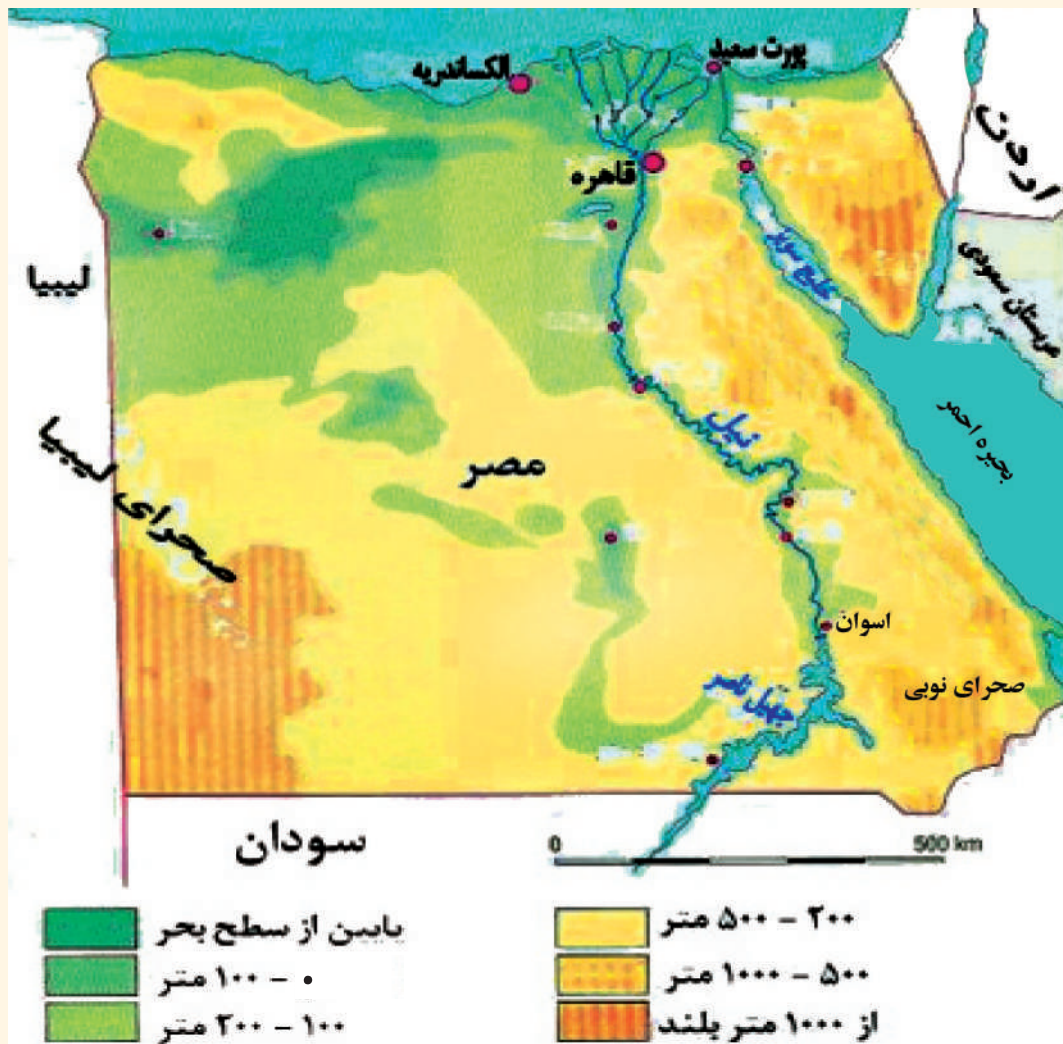
حوزه‌های آبگیر آفریقا را می‌توان به طور ذیل دسته‌بندی کرد:

- ۱- دریاهای حوزه مدیترانه؛ مانند: دریای نیل.
- ۲- دریاهای حوزه اقیانوس اطلس مانند: دریای کانگو، نایجیر، سینگال و ارنژ.
- ۳- دریاهای اقیانوس هند؛ مانند: زامبزی.
- ۴- دریاهای حوزه بسته که در ریگستان‌های صحرای بزرگ جذب می‌شوند؛ مانند: شاری.

## دریای نیل

از معروف‌ترین دریا‌های آفریقا است که کشور مصر را در قطار کهن‌ترین کشورهای جهان قرار داده است. هیرو دوت مؤرخ یونانی می‌نویسد: که «مصر تحفه نیل است.» وادی دریای نیل ساحه وسیعی است که از جانب شرق و غرب به واسطه دشت‌ها محدود شده است. قسمت اعظم تراکم نفوس در وادی دریای نیل و دلتای آن تمرکز یافته است. دریای نیل که ۶۶۹۵ کیلومتر طول دارد از جهیل ویکتوریا والبرت سرچشمه گرفته به استقامت شمال جریان دارد و تنها در ساحه قاهره و ساحه اسوان، سرزمین‌های زراعتی را آبیاری می‌کند.

نقشه دریای نیل



نیل در مصب خود در حصه اسکندریه در بحیره مدیترانه دلتاهای (Deltas) بزرگی را نیز می‌سازد. خاک رسوبی وادی نیل در زراعت و پایه‌گذاری تمدن بشری، مردم آن حوزه را یاری نموده است. در مصر تقریباً باران هیچ نمی‌بارد؛ اما به خاطر این که مواد غذایی کافی از طریق زراعت به دست آید به آب زیاد ضرورت است؛ پس برای نایل شدن به این هدف، بالای دریای نیل بندهایی اعمار گردیده است؛ چنان که در ساحة اسوان، بند اسوان در سال ۱۹۷۱م. ساخته شده که بزرگ‌ترین جهیل مصنوعی جهان را تشکیل داده است.

نقشه سفید دریاهای افریقا





از آب بند متذکره در آبیاری زمین‌های زراعتی استفاده خوب صورت می‌گیرد. علاوه بر آن جلوی آب‌خیزی‌های خطرناک گرفته شده و سبب تولید برق نیز گردیده است؛ همچنان فایده اقتصادی دریای نیل این است که هم بند بالای آن ساخته شده و هم کشور مصر و سودان هر دو از آب آن برای آبیاری استفاده می‌نمایند.

معاونین دریای نیل به نام‌های نیل سفید و نیل آبی یاد می‌شوند. این دریا تا مرکز کشور سودان به نام نیل سفید یاد می‌شود. در اینجا با معاون دومی خود به نام نیل آبی که از کوه‌های حبشه سرچشمه گرفته است، یکجا می‌شود. آب نیل سفید در طول جریان خود به بخارات تبدیل شده و آب آن کم می‌شود بنابراین آب نیل آبی در حجم آب دریای نیل رول عمده‌ی دارد.

### فعالیت داخل صنف

شاگردان به گروه‌ها تقسیم شوند و هر گروه بالای موضوعات زیر با هم بحث نموده بعداً نماینده هر گروه نتیجه بحث را به دیگران تشریح نماید.  
«حوزه‌های آبخیز براعظم افریقا، دریای نیل و معاونین آن و اهمیت اقتصادی دریای نیل.»

### سوال‌ها

- ۱- تراکم نفوس در کدام قسمت دریای نیل زیاد است؟
- ۲- کدام بند بر روی دریای نیل اعمار شده است؟ آن را نام ببرید.
- ۳- دریای نیل چه مفاد اقتصادی دارد؟

### فعالیت خارج از صنف

از روی نقشه سفید دریاهاى افریقا، در کتابچه‌های خود نقشه را رسم نموده و نام دریاهاى مهم افریقا و موقعیت آن‌ها را بنویسید.



منظره جنگل‌های استوایی

چرا ساحة حوزه کانگو را افریقای سبز نیز می‌گویند؟

حوزه بزرگ دیگر افریقا عبارت از حوزه کانگو است که جنگلات بزرگ استوایی در آنجا به طور طبیعی وجود دارد. گرمای شدید و باران‌های فراوان، جنگل‌های انبوهی را در آن به وجود آورده است و ساحة رشد گیاهان آن هرگز متوقف نمی‌شود. به این قسمت افریقا، سبز می‌گویند و رشد درختان در آنجا در حدی است که گاهی ارتفاع آن‌ها به ۵۰ متر می‌رسد. دریای کانگو که از شرق به استقامت غرب جریان دارد ساحة افریقای استوایی را در بر می‌گیرد و از طریق بستر باریکی به اقیانوس اطلس می‌ریزد.

نواحی مرکزی و شمالی آن از جنگل‌های بارانی پوشیده شده و تراکم نفوس در آن‌ها به طور پراکنده و دور از هم قرار دارد و مردم محل به کشاورزی محدود و کوچک مصروف‌اند. دریای کانگو از جنوب شرق کشور زایر سرچشمه گرفته و به طول ۴۳۷۰ کیلومتر ابتدا به طرف شمال و بعد به سمت غرب جریان داشته، با آب زیاد به اقیانوس اطلس می‌ریزد. این دریا در ابتدای جریان خود به نام لوالابا (Lualaba) یاد شده و با معاونین خود ۱,۸ حصه خاک افریقا را در بر گرفته است.

طول دریای کانگو از دریای نیل کمتر، اما حجم آب آن زیادتر است. از این که حوزه آبرگیر آن

در مناطق استوایی قرار دارد، در تمام سال باران می بارد و از آب پر می باشد. در قسمت فوقانی جریان خود آبشارها را نیز به وجود آورده است.

– دریای کانگو از لحاظ طول و حجم آب با دریای نیل چه تفاوت دارد؟

### **دریای نایجیر**

یکی از پرآب ترین دریاهاى آفریقا محسوب می گردد. دریای نایجیر در جنوب غرب، باعث سرسبزی کشورهای گینه و ساحل عاج گردیده است.

دلتای عظیم رود نایجیر بخش عمده نفت خیز را تشکیل می دهد که در ساحه «Port Harcourt» پورت هارکورت) متمرکز شده است.

بخش غربی دریای نایجیر که به طول ۴۰۰۰ کیلومتر از ارتفاعات سیرالیون سرچشمه گرفته بعد از عبور از کشور مالی وارد کشور نایجیر یا شده و در خلیج گینه به اقیانوس اطلس می ریزد.

### **دریای زامبزی**

دریای زامبزی که بیش از ۲۵۰۰ کیلومتر طول دارد از شمال غرب زامبیا سرچشمه گرفته، به طرف جنوب جریان می یابد.

قسمت اعظم این حوزه را فلات مرتفعی که بیشتر پوشیده از علفزار است فرا گرفته است. این دریا از شمال به جنوب جریان دارد و بالاخره به اقیانوس هند می ریزد.

دریای زامبزی در خطالسیر خود آبشارهایی را به وجود آورده است که مهمترین آنها را آبشار ویکتوریا گویند.

### **دریای سنیگال**

این دریا در کشور سنیگال در آفریقای غربی و در شرق اقیانوس اطلس موقعیت دارد و به اقیانوس اطلس می ریزد.

دریای سنیگال ۱۲۰۰ کیلومتر طول دارد.

دره سنیگال نیز از مراکز عمده مسکونی می باشد.

موجودیت دریاها در براعظم آفریقا سبب رطوبت، سرسبزی، شادابی و حاصل خیزی زمین های زراعتی گردیده است.

همچنان وجود این دریاها باعث جذب و جا دادن تعداد زیادی از نفوس در اطراف خود گردیده

که این نیز سبب پیدایش تمدن های باشکوه و کهن در طول تاریخ شده است.

دریاهای آفریقا در فصل بهار طغیانی می‌شوند؛ اما خوشبختانه اکنون مسیر سیلابی آنها تا حدودی تحت کنترل در آمده است.

دریای سنیگال



پل بالای دریای زامبزی میان کشورهای زامبیا و زمبابوی



### فعالیت داخل صنف

شاگردان به گروه‌ها تقسیم شوند؛ سپس هر گروه راجع به این که چرا دریا‌های براعظم افریقا در طول سال پر از آب و سیلابی می‌باشند بحث نموده نتیجه بحث خود را به دیگران ارائه نمایند.

### سوال‌ها

- ۱- تاثیرات دریا‌های افریقا را بر آب و هوا و اقتصاد این قاره توضیح دهید.
- ۲- اهمیت دریای کانگو را در چه می‌بینید؟
- ۳- دریای سنگال از چه اهمیت عمده‌ی برخوردار است؟
- ۵- دریای نایجیر چه اهمیت اقتصادی دارد؟

### فعالیت خارج از صنف

معلومات تان را در باره دریا‌های افریقا به طور مختصر نوشته و در صنف ارائه نمایید.



منظری از یک جهیل آفریقایی راجع به جهیل چه می‌دانید و از جهیل چه استفاده می‌شود؟

در براعظم آفریقا جهیل‌های خُرد و بزرگ زیادی وجود دارد، که بزرگ‌ترین آن‌ها عبارت از جهیل ویکتوریا می‌باشد که حد فاصل را میان کشورهای تانزانیا و یوگندا تشکیل می‌دهد و کوچک‌ترین آن‌ها جهیل نگامی می‌باشد که در کشور بوتسوانا قرار دارد.

از آب جهیل‌ها برای نوشیدن و غذای حیوانات استفاده می‌شود. بعضی از جهیل‌ها نمک‌ساز است و وقتی که آب جهیل تبخیر شد نمک آن ته‌نشین می‌شود؛ همچنان زمانی که پرندگان از یک منطقه به منطقه دیگر مهاجرت می‌کند، در مسیر راه از همین جهیل‌ها و آب آن استفاده می‌کند. این واترپمپ‌های بزرگ از آب جهیل‌ها در سرسبزی مناطق ساحل آن‌ها استفاده به عمل می‌آید. این جهیل‌ها در براعظم آفریقا باعث به وجود آمدن رطوبت محلی منطقه نیز می‌شوند که آن منطقه را تا حدی از حالت خشکی، نجات می‌دهند. این جهیل‌ها اکثراً در جنوب شرق آفریقا موقعیت دارند که ساحةٔ تکتونیکي این براعظم را وانمود می‌سازند.

همان طوری که گفته شد مهم‌ترین جهیل‌های براعظم آفریقا عبارت از جهیل ویکتوریا (Victoria) می‌باشد که این جهیل حد فاصل بین کشور تانزانیا و یوگندا را تشکیل می‌دهد و شهرهای بزرگ نیز

در طراف همین جهیل ساخته شده اند.

در نقشهٔ طبیعی می‌بینید که جهیل نیاسا Naysa و مالای در شمال کشور موزمبیق و در شرق کشور مالای، جهیل تانگانیکا، در غرب کشور تانزانیا، جهیل البرت (Albert) در غرب کشور یوگندا، جهیل رودولف (Rudolf) در شمال غرب کینیا، جهیل چاد (Chad) در کشور چاد، جهیل تانا (Tana) در ایتوپیا و جهیل نگامی (Ngami) در کشور بوتسوانا موقعیت دارد.

### فعالیت داخل صنف

شاگردان به گروه‌ها تقسیم شوند و هر گروه راجع به اهمیت اقتصادی جهیل‌ها بحث نموده، نتیجهٔ مباحثهٔ خود را به سایر هم‌صنفان ارائه نمایند.

### سوال‌ها

- ۱- بزرگترین و کوچکترین جهیل‌های افریقا را نام بگیرید.
- ۲- موجودیت جهیل‌ها در براعظم افریقا چه فایده دارد؟
- ۳- جهیل نگامی در کدام کشور موقعیت دارد؟ جواب درست آن را در کتابچه‌های تان وصل نمایید.

ایتوپیا	جهیل نگامی
سومالی	
بوتسوانا	
ساحل عاج	

### فعالیت خارج از صنف

شاگردان نقشهٔ براعظم افریقا را رسم نمایند و تمام جهیل‌ها را روی آن نشان داده، رنگ‌آمیزی نمایند.



تصویری از بحیره مدیترانه

راجع به بحیره‌های افریقا چه می‌دانید و مردم افریقا از بحیره چه استفاده می‌کنند؟

براعظم افریقا نظر به ساختمان اراضی و سواحلی که دارد، دارای بحیره‌های زیاد نمی‌باشد. این براعظم دارای دو بحیره مهم است که از آن‌ها برای عبور و مرور کشتی‌های تجارتي استفاده به عمل می‌آید، همچنان از موقعیت بحیره‌ها پرنده‌گان مهاجری که در فصل‌های مختلف سال از یک‌جا به جای دیگر مهاجرت می‌کند به حیث منطقه مشخص استفاده به عمل می‌آورند و علاوه بر آن از حیواناتی که بر روی آب قرار دارند تغذیه می‌کند. مردمانی که در سواحل بحیره‌ها زنده‌گی دارند باماهی‌گیری معیشت خود را تأمین می‌نمایند.

### ۱- بحیره مدیترانه

در شمال براعظم افریقا بحیره مدیترانه موقعیت دارد که بزرگ‌ترین بحیره جهان می‌باشد. مساحت آن ۲,۹۶۶,۰۰۰ کیلومتر مربع و عمیق‌ترین نقطه آن ۴۳۳۰ متر می‌باشد.

این بحیره از طرف جنوب شرق توسط کانال سویز به بحیره احمر (سرخ) وصل گردیده است و از طرف غرب توسط آبناي جبل الطارق به بحر اطلس (اتلانتیک) پیوست بوده و راه بزرگ تجارتي را تشکیل می‌دهد. کشورهایی که در اطراف بحیره مدیترانه موقعیت دارند، دارای اقلیم مدیترانه‌یی و هوای گوارا می‌باشند.



## ۲- بحیره احمر (سرخ)

بحیره احمر (سرخ) در شمال شرق افریقا موقعیت دارد که از قسمت شمال توسط کانال سویز به بحیره مدیترانه متصل است و از قسمت جنوب شرق توسط آبناهی باب المندب به خلیج عدن پیوست می باشد. مساحت این بحیره ۴۳۸,۰۰۰ کیلومتر مربع است. این بحیره آب بسیار شور دارد که قابل نوشیدن نمی باشد؛ همچنان شدت تبخیر در آنجا به حد اعظمی می باشد؛ زیرا در دو سمت توسط صحراهای بزرگ محاط است.

تصویری از بحیره احمر (سرخ)



## معلومات اضافی

**کانال سویز:** فردیناند دولیسیس مهندس فرانسوی کندن کانال سویز را طرح نمود. کار احداث این کانال در سال ۱۸۵۶م. شروع و در سال ۱۸۶۹م. پایان یافت و در ماه نوامبر ۱۸۶۹م افتتاح گردید. امتیاز ۹۹ ساله آن به یک شرکت بین المللی که در آن فرانسه، انگلستان و بعضی از ممالک دیگر اروپایی سهم بودند داده شد که مرکز آن در پاریس بود. طول کانال سویز از پورت سعید در کنار بحیره مدیترانه تا سویز، یعنی کنار بحیره سرخ ۱۶۱ کیلومتر، عرض قابل استفاده آن ۶۰ متر و عمق آن ۱۲ متر است.

از کانال سویز کشتی‌هایی تا به ظرفیت ۶۰ هزار تن شب و روز عبور کرده می‌تواند. ۸۰ فیصد تبادلۀ اموال و کالاهای تجارتي بین آسیا و اروپا از کانال سویز صورت می‌گیرد که ۱۵ فیصد تجارت بین المللی جهان را احتوا می‌کند. کانال سویز در کشور مصر حفر گردیده است. و در سال ۱۹۵۶م. از طرف دولت مصر ملی اعلان شد.

نمایی از کانال سویز



نمایی دیگر از کانال سویز



### فعالیت داخل صنف

شاگردان به گروه‌ها تقسیم شوند و هر گروه راجع به اهمیت اقتصادی بحیره‌ها مباحثه نموده و نتیجه بحث خود را به دیگران ارائه نمایند.

### سوال‌ها

- ۱- بحیره مدیترانه در کدام قسمت براعظم افریقا موقعیت دارد؟
- ۲- بحیره سرخ (احمر) در شمال توسط کدام کانال به بحیره مدیترانه وصل شده است؟

### فعالیت خارج از صنف

شاگردان نقشه افریقا را در کتابچه‌های خود رسم نموده و بحیره‌ها را روی آن نشان دهند.



نقشه خلیج‌های آفریقا

کدام خلیج‌ها در اطراف براعظم آفریقا وجود دارد؟

در براعظم آفریقا به سبب عدم وجود بریده‌گی‌های زیاد، تعداد خلیج‌ها زیاد نیست. مهم‌ترین خلیج‌های آفریقا عبارت‌اند از:

- خلیج عدن (Aden) در شمال شرق آفریقا که جزء خلیج‌های آسیا نیز می‌باشد.
- خلیج فول (Foul) در شمال شرق آفریقا که در بحیره سرخ (احمر) موقعیت دارد.
- خلیج سویز (Suez) که در جنوب کانال سویز موقعیت دارد.

چرا در براعظم آفریقا خلیج‌های زیاد وجود ندارد؟

خلیج‌های شمال آفریقا عبارت‌اند از:

خلیج سلوم (Salum)، خلیج بمبه (Bamba)، خلیج سدرا (Sidra)، خلیج قابس (Qabis) و خلیج تونس (Tunis) که در شمال آفریقا در بحیره مدیترانه موقعیت دارند.

خلیج‌هایی که در جنوب غرب آفریقا موقعیت دارند عبارت‌اند از:

خلیج گینه (Guinea)، خلیج والویس (Walvis)، خلیج لودریٹس (Luderits) و خلیج سنت هلنا (Saint Helena) که از جمله، خلیج گینه بزرگ‌ترین خلیج قاره آفریقا است و کوچک‌ترین خلیج براعظم آفریقا عبارت از خلیج سویز می‌باشد که در جنوب کانال سویز موقعیت دارد.

خلیج‌هایی که در اطراف جزیره مدغاسکر موقعیت دارند عبارت‌اند از:

خلیج سنت اگوستین در جنوب غرب جزیره مدغاسکر و خلیج آنتون ژیل (Anton gil) در شمال شرق جزیره مدغاسکر.



### فعالیت داخل صنف

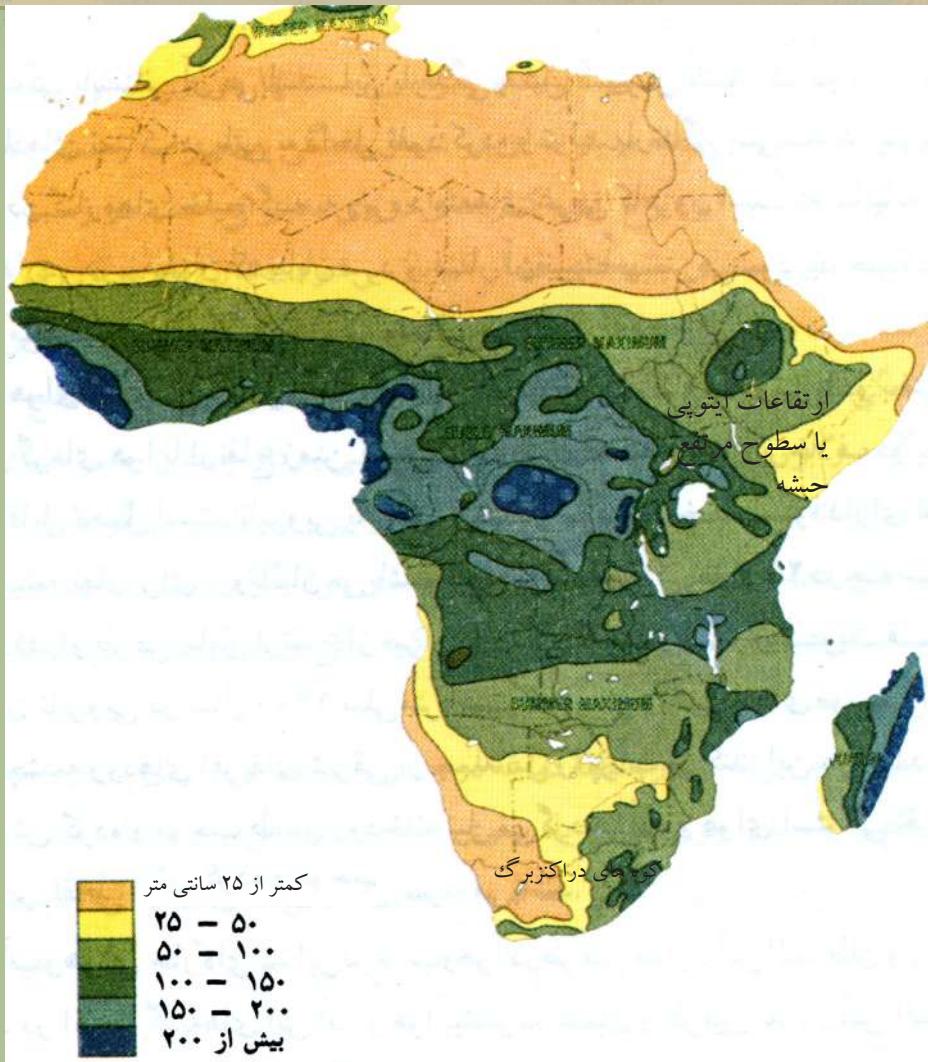
شاگردان به گروه‌ها تقسیم شوند و هر گروه از روی نقشه، خلیج‌ها را به دیگران نشان دهند.

### سوال‌ها

- ۱- خلیج‌های شمال شرقی براعظم افریقا را در روی نقشه نشان دهید.
- ۲- خلیج سویز در کدام قسمت قاره افریقا موقعیت دارد؟
- ۳- خلیج‌های جنوب غرب افریقا را نام گرفته و در روی نقشه نشان دهید.
- ۴- بزرگ‌ترین و کوچک‌ترین خلیج‌های قاره افریقا را نام بگیرید.
- ۵- خلیج سنت اگوستین و خلیج آنتون ژیل را در روی نقشه نشان دهید.

### فعالیت خارج از صنف

شاگردان در کتابچه‌های خود نقشه براعظم افریقا را رسم کرده و نام خلیج‌ها را روی نقشه بنویسند.



نقشه بارنده‌گی قاره آفریقا

چرا براعظم آفریقا دارای اقلیم متفاوت می‌باشد؟

براعظم آفریقا نظر به موقعیتی که در کره زمین اتخاذ کرده است گرم‌ترین قاره جهان به شمار می‌رود. اگر به نقشه دقت نماییم، دیده می‌شود که یک‌هشتم آن در محیط استوایی قرار داشته و اقلیم این مناطق گرم، سوزان و نسبتاً مرطوب می‌باشد. شمال و جنوب خشک آفریقا در منطقه تحت استوایی گسترش یافته، اقلیم آن به طور نسبی معتدل و رطوبت آن بسیار ناچیز است؛ زیرا کوه‌های اطلس در شمال غرب و سطوح مرتفع حبه در شرق و هم‌کوه‌های دراکنزبرگ در جنوب مانع ورود هوای مرطوب بحری به داخل خشک می‌گردند.

قسمت شرقی آفریقا در منطقه بادهای غیر منظم مونسونی اقیانوس هند موقعیت دارد؛ در حالی که باقی حصص آن از وزش منظم بادهای تجارتنی بر خوردار می‌باشند. در صحراها و دشت‌های سوزان آفریقا طوفان‌های گرم و خشکی می‌وزند که به نام خمسین معروف اند. اقلیم مناطق استوایی گرم و مرطوب بوده، اوسط حرارت سالانه آن‌ها در حدود ۳۰ درجه سانتی‌گراد اندازه می‌شود. گرم‌ترین منطقه در آفریقا، که در حقیقت ریکارد جهانی دارد به نام عزیزیه (Azizia) در شمال غرب لیبیا موقعیت دارد که حرارت اعظمی آن تا ۵۸ درجه سانتی‌گراد ثبت گردیده است. موجودیت کوه‌های اطلس، سطوح مرتفع حبشه و کوه‌های دراکنزبرگ در اقلیم براعظم آفریقا چه تأثیر دارند؟

آفریقا دارای بارنده‌گی کمتری می‌باشد. تنها در حوالی خط استوا، بارنده‌گی‌هایی در طول سال صورت می‌گیرد. از خط استوا به طرف شمال و جنوب به تدریج رطوبت هوا کم شده و بارنده‌گی کمتری وجود دارد.

برف فقط منحصر به مناطق بسیار مرتفع کوهستانی آن بوده و برف‌های دایمی در قله بلندتر به مشاهده می‌رسند.

### فعالیت داخل صنف

شاگردان به گروه‌ها تقسیم شوند و هر گروه با استفاده از نقشه‌های اقلیمی و متن درس راجع به رطوبت، حرارت و بادهای در آفریقا معلومات جمع‌آوری نموده و ارائه نمایند.

### سوال‌ها

- ۱- در کدام مناطق براعظم آفریقا برف می‌بارد؟
- ۲- گرم‌ترین منطقه در آفریقا که ریکارد جهانی دارد در کدام کشور موقعیت دارد و به نام چه یاد می‌شود؟

### فعالیت خارج از صنف

اگر از خط استوا به طرف شمال و جنوب قاره آفریقا حرکت کنیم در مسیر خود به ترتیب با چه نوع آب و هوایی رو به رو می‌شویم.



ساحه‌یی از اقلیم صحرایی

آیا می‌دانید چه نوع نباتاتی در مناطق مختلف اقلیمی افریقا دیده می‌شوند؟

بر اعظم افریقا را نظر به اقلیم متفاوت به مناطق اقلیمی ذیل تقسیم نموده اند:


### ۱- اقلیم ساحه جنگلات استوایی

این مناطق دارای آب و هوای بسیار گرم استوایی توأم با بارنده‌گی‌های مداوم می‌باشد که حوزه کانگو و سواحل جنوب غرب افریقا در آن شامل است. در این ساحه جنگلات بلند قامت چترنمای استوایی زیادی می‌روید؛ همچنان درخت را بر و کاک در این جا به وفرت می‌روید. به طور مشخص حوزه کنشاسا مرکز کانگو و قسمتی از گابون، لایریا، سیرالیون و کانگو براز اوایل شامل حوزه جنگلات استوایی می‌باشند. - مشخصات اقلیم استوایی را بیان کنید.

### ۲- اقلیم ساحه تحت استوایی (Savana)

این ساحه در شمال و جنوب جنگلات استوایی موقعیت دارد. در جنوب تا زامبیا و در شمال، افریقای مرکزی، نایجیریا و جنوب مالی را در بر می‌گیرد.





### ۳- اقلیم ساحه ستپ

اقلیم منطقه ستپ که مربوط یک نوار در شمال افریقا از شرق به غرب امتداد یافته چراگاه‌های خوبی را برای مالداران این منطقه تشکیل می‌دهد، که بین منطقه تحت استوایی و صحرای اعظم واقع شده است آب و هوای این مناطق به طور نسبی گرم، معتدل و بارانی می‌باشد. در جنوب افریقا این منطقه شامل بوتسوانا، قسمتی از نامیبیا و شمال شرق افریقای جنوبی می‌باشد که آن هم برای چراگاه‌های مالداران و زرع حبوبات مساعد می‌باشد.



اقلیم ستپ

#### ۴- اقلیم ساحة صحرايي

منطقه صحرايي در شمال براعظم افريقا خيلى وسيع بوده، تمام صحراي اعظم را در بر مي گيرد كه اين منطقه از سودان و مصر شروع شده تا انتهاي موريتانيا امتداد دارد و از بزرگ ترين صحراهاي جهان محسوب مي شود. آب و هواي اين منطقه خشك و صحرايي بوده و داراي بارنده گي هاي كم دوام مي باشد. به سبب موجوديت ريگستان هاي وسيع و لامزروع، در آن زمينه زراعت مساعد نيست.

در افريقاي جنوبي انتهاي ساحة جنوب غربي را در بر مي گيرد و در ساحل جنوب غربي افريقا به شكل يك نوار كوچك الي عرض البلد ۱۰ درجه امتداد يافته است. در اين منطقه صحراي ناميبيا و كالاھاري نيز شامل مي باشند.

#### ۵- اقلیم ساحة مدیترانه‌یی

در شمال افريقا اقلیم مدیترانه‌یی را كناره هاي ساحلي تشكيل داده كه از اسكندريه الي سواحل مراکش امتداد يافته است. پيداوار مهم اين منطقه را انگور، ميوه هاي خاندان ستروس مانند: كينو، نارنج، مالت، ليمو و سنتره، خرما و نيشكر تشكيل مي دهد.

اما در افريقاي جنوبي اقلیم مدیترانه‌یی را قسمت جنوب شرق آن در بر مي گيرد كه كشور كوچك

لسوتو و ساحات جنوب شرقی افریقای جنوبی در آن شامل می‌باشد؛ علاوه بر آن منطقه کیپ تاون که از جمله بندرگاه‌های مهم افریقای جنوبی می‌باشد دارای اقلیم مدیترانه‌یی است.

### فعالیت داخل صنف

شاگردان به گروه‌ها تقسیم شوند و هر گروه بالای مناطق اقلیمی افریقا بحث نمایند؛ بعد نماینده هر گروه در پیش روی صنف نتیجه بحث گروه خود را به دیگران بیان کند.

### سوال‌ها

شاگردان جدول زیر را با استفاده از مثال داده شده در کتابچه‌های شان تکمیل نمایند.

نوع اقلیم	خصوصیات اقلیم
۱- اقلیم ساحه جنگلات استوایی	۱- این مناطق دارای آب و هوای بسیار گرم استوایی و توأم با بارنده‌گی‌های مداوم می‌باشند. که در آن جنگلات بلند قامت چترنمای استوایی به کثرت دیده می‌شوند.
۲- اقلیم ساحه ستپ	۲-
۳- اقلیم ساحه صحرائی	۳-
۴- اقلیم ساحه مدیترانه‌یی	۴-

### فعالیت خارج از صنف

شاگردان نقشه افریقا را در کتابچه‌های خود رسم نمایند و مناطق اقلیمی براعظم افریقا را روی آن با رنگ‌های مرغوب نشان دهند.



راجع به جغرافیای سیاسی قاره آفریقا چه می دانید؟

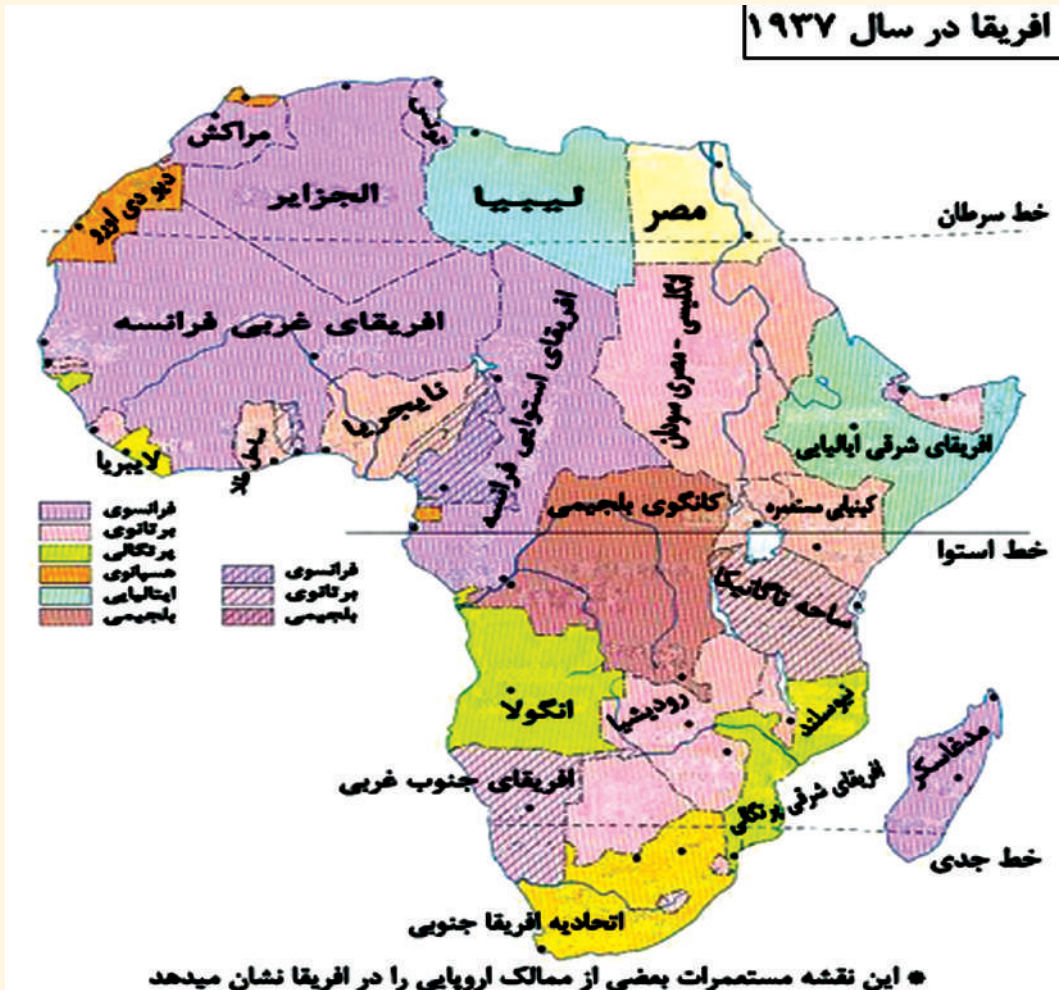
آفریقا قاره‌یی است که در آن تغییرات زیاد دیده می‌شود. به این حقیقت وقتی آشنا می‌شوید که به سیل مهاجرین آفریقایی که در جهان جای گرفته توجه کنید. بسیاری مردم آن به علت شرایط ناگوار سیاسی و اقتصادی در حالت فرار هستند؛ اما آفریقا به طور مثبت هم در حالت تغییر است، به این معنی که برای رفع مشکلات راه‌حل‌های مناسب را نیز در یافته‌اند؛ به طور مثال: به خاطر جلوگیری و مبارزه با صحرایی شدن بعضی مناطق کارهای خوب را انجام داده‌اند و در سرسبز نگاه داشتن آن کوشش می‌نمایند.

اما مردمان این قاره در ساحة انکشاف سیاسی، اقتصادی و اجتماعی خویش نظر به قاره‌های دیگر جهان بعدتر قدم گذارده‌اند؛ لذا نسبتاً عقب مانده‌اند. اکثر مردمان این قاره در قسمتی از مناطق سوانا به صورت پراکنده به سر برده و یا در عمق جنگلات زیست دارند و یا این که هنوز هم به قسم کوچی‌ها حیات خانه به دوشی را سپری می‌نمایند. این‌ها معیشت و زنده‌گی خویش را از طریق زراعت ابتدایی چاره‌سازی می‌کنند.

بعضی از محققین و نویسندگان در قسمت انکشاف و پیشرفت بطنی آفریقاییان عقیده دارند که اصل حقیقت عقب‌مانده‌گی آن‌ها در پهلوی عوامل دیگر یکی هم استثمار آن‌ها توسط

اروپای غربی بوده است، و نه قبل از استعمار در قرن ۱۲ الی ۱۵ میلادی بعضی از مردم سیاه‌پوست آفریقایی در غرب منطقه سودان از خود کلتورهایی داشته و ممالک متمدنی را تشکیل داده بودند که نام‌های ممالک گانا و مالی نیز از همان اقوام گذشته نماینده‌گی می‌کند. حتی امروز می‌بینیم بعضی از ممالکی که تازه به استقلال می‌رسند نام کشورهای شان و یا نام شهرها و دیگر مواضع سرزمین‌شان را که در دوران اسارت تغییر تحول یافته است دوباره به همان نام‌های اصلی سابقه برگشته‌اند و یا به نام رادمردان و جنگ‌جویان سابقه‌شان مسما می‌سازند. هنگامی که سرمایه‌داران کشورهای اروپایی به اساس موقعیت سوق‌الجیشی مناسب و به خاطر منابع طبیعی فراوان و قوای بشری ارزان، آفریقا را هدف قرار داده و در آنجا بازار گرمی را برای عرضه مواد و تولیدات صنعتی خویش جستجو کرده بودند، بر استعمار آن‌ها هر چه بیشتر کوشیدند.

### افریقا در سال ۱۹۳۷



در نتیجه جنگ‌هایی که مردم آفریقا بر دشمن غلبه حاصل نمودند، جبهات آزادی‌خواهی مناطق مختلف آفریقا را بیشتر تشویق نموده و آن‌ها را به حصول آزادی شان از استعمارگران، امیدوار ساخت.

آفریقا تا سال ۱۹۵۱م. دارای چهار مملکت مستقل (حبشه، لایبیریا، مصر و آفریقای جنوبی) بود و در سال‌های ۱۹۵۲ تا ۱۹۹۶م. تعداد آن‌ها به ۳۷ مملکت رسید و بالاخره امروز در نقشه سیاسی براعظم آفریقا ۵۵ کشور مستقل را مشاهده کرده می‌توانیم.

تصویری از برده‌های آفریقایی در دوران استعمار



در جنوب آفریقا برای مدت طولانی اقلیت سفیدپوست کشورهای غربی در قدرت بودند و بالای اکثریت مردم سیاه‌پوست آن منطقه حکومت می‌کردند. این تبعیض نژادی (اپارتاید) سبب مهاجرت مردم سیاه‌پوست از آنجا شد که بعد از پایان اپارتاید وقتی که در سال ۱۹۹۴م. انتخابات آزاد در آفریقای جنوبی صورت گرفت مردم آن کشور دوباره به مناطق اصلی‌شان برگشتند.

### فعالیت داخل صنف



شاگردان به گروه‌ها تقسیم شوند و روی تبعیض نژادی آفریقای جنوبی بحث نموده و نتیجه بحث خود را به دیگران ارائه نمایند.

### سوال‌ها

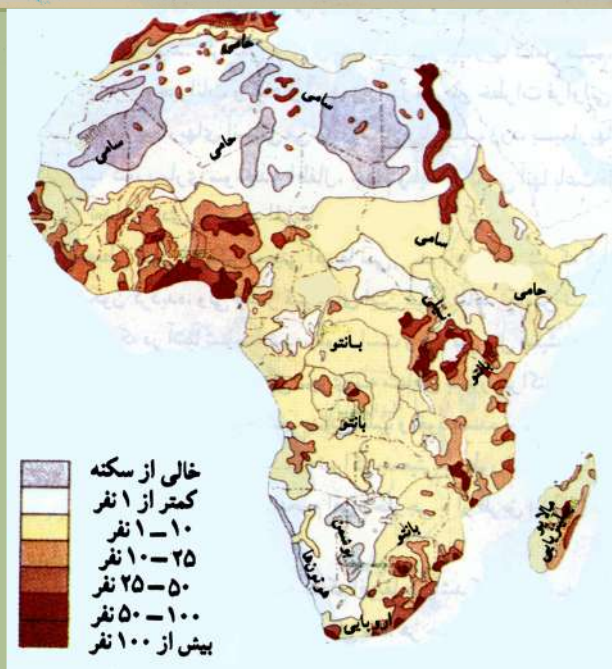


- ۱- تبعیض نژادی در کدام سال در آفریقای جنوبی به پایان رسید؟
- ۲- در روی نقشه جهان، آفریقا فعلاً دارای چند کشور مستقل است؟ روی نقشه نشان دهید.
- ۳- محققین در باره پیشرفت بطنی آفریقایی‌ها چه نظریه داشتند؟
- ۴- در سال ۱۹۵۱م. آفریقا چند مملکت مستقل داشت؟ آن‌ها را نام بگیرید.

### فعالیت خارج از صنف



راجع به علت پسمانی قاره آفریقا یک مطلب یک صفحه‌ی خارج از درس تحقیق و نوشته نموده در ساعت آینده به هم‌صنفان خود ارائه نماید.



نقشه توزیع جغرافیایی نفوس در قاره آفریقا

### ۱- در کدام مناطق براعظم آفریقا، تراکم نفوس زیاد است و چرا؟

جغرافیای بشری براعظم آفریقا را به طور مفصل در سه بخش که عبارت از نفوس، نژاد و زبان و دین می‌باشد مطالعه می‌نماییم:

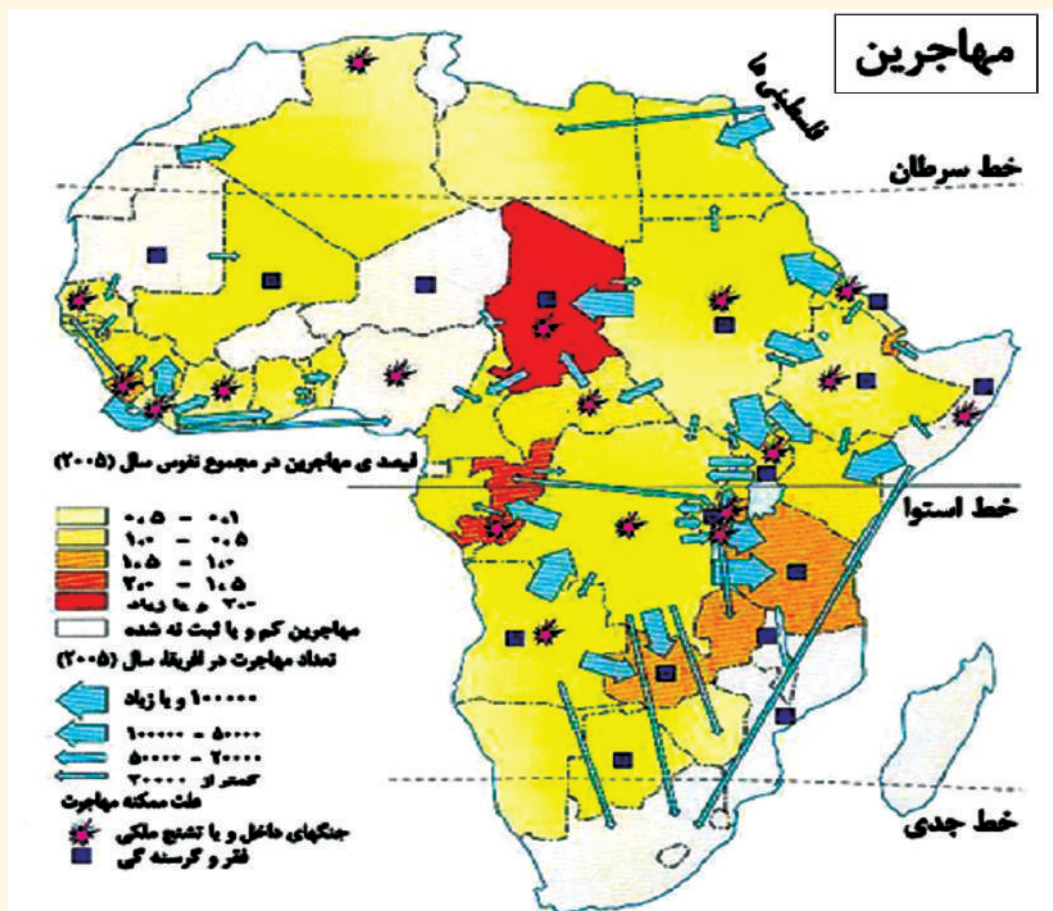
#### نفوس

قدیمی‌ترین آثار بشر در جهان، در قاره آفریقا در کشور تانزانیا دیده شده که تقریباً ۴/۵ میلیون سال قدمت دارد. در سال ۱۹۹۸ میلادی در براعظم آفریقا در حدود ۶۱۵ میلیون نفر زنده‌گی می‌کردند که ۱۲,۲٪ نفوس کل جهان را تشکیل می‌دهد. علت کم‌نفوس این قاره شرایط نامناسب زنده‌گی در صحراها و جنگلات انبوه، امراض ساری، جنگ‌های داخلی و کمبود مواد غذایی می‌باشد. تراکم نفوس در مناطق مختلف آفریقا از هم فرق دارد. در صحرای آفریقا تقریباً کسی زنده‌گی نمی‌کند و در مناطق سوانا و سب تروپیک که دارای زمین‌های حاصل‌خیز است تراکم نفوس زیاد می‌باشد؛ طور مثال: در قسمت پایینی وادی نیل تراکم نفوس به ۱۰۰ نفر در هر کیلومتر مربع می‌رسد. تراکم نفوس در سواحل دریا و ابجار نیز به مشاهده می‌رسد. علت کم‌نفوس بودن براعظم آفریقا چیست؟



## نژاد

به نقشه‌های ترکیب قومی و توزیع نفوس افریقا نگاه کنید. در شمال افریقا مردم عرب زنده گی می کنند که به زبان عربی صحبت می نمایند. تعداد زیاد آنان در شهرها امرا حیات دارند و مردم دهات آن به زراعت مصروف اند. مردم عرب این منطقه متشکل از دو قبیله به نام‌های حامی (Hami) و سامی (Sami) می باشند. چهره این مردم گندمی رنگ بوده و موی سیاه دارند. در شمال غرب افریقا قبایل بربر زنده گی می کنند که دارای رنگ سفید اند و در نسل با مردم اسپانیا و ایتالیا شباهت دارند. به همین سبب کشورهای مراکش، الجزایر و تونس را به نام کشورهای بربر یاد می کنند. در صحرای اعظم در قسمت‌های مرکزی و جنوبی افریقا مردم سیاه پوست زنده گی می کنند. که به نام سیاه‌های افریقایی یاد شده و  $\frac{2}{3}$  نفوس تمام افریقا را تشکیل می دهند، اما از نظر نژادی از هم فرق دارند. از این لحاظ به گروپ‌های جداگانه تقسیم شده اند.




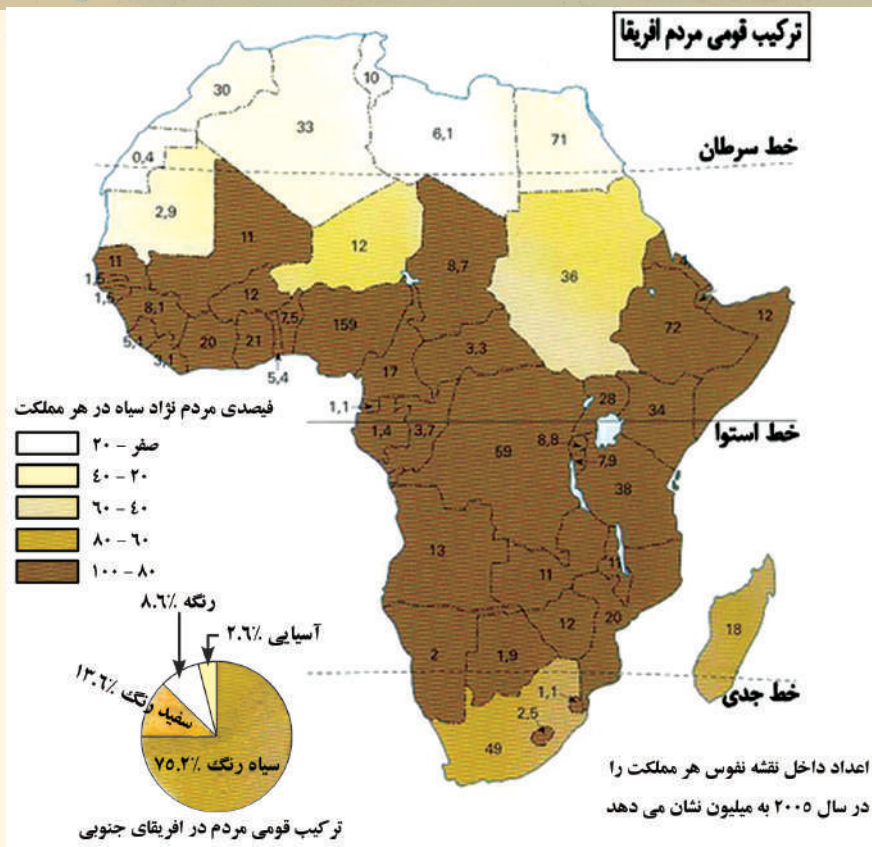
در افریقای مرکزی، جنوبی و صحرای اعظم مردم سیاه‌پوست زنده‌گی می‌کنند که از لحاظ قد، چهره و رنگ پوست از هم فرق دارند و به دو بخش سودانی و نگروه‌های بنتو تقسیم شده‌اند. در جنگل‌های استوایی افریقای مرکزی مردمان قبایل پیگمی زنده‌گی می‌نمایند که دارای قد‌های کوتاه‌اند. قد متوسط مردان شان به ۱۴۵ سانتی‌متر و از زنان شان به ۱۳۵ سانتی‌متر می‌رسد. رنگ پوست مردمان پیگمی چندان سیاه نیست. خانه‌ها و ضروریات مردم پیگمی از جنگلات تهیه می‌شود و خانه‌های این مردم به شکل قابل دید است؛ زیرا خانه‌های آن‌ها در میان شاخه‌ها و برگ‌های درختان پوشیده شده است. لباس پیگمی‌های پیر عبارت از یک کمربند است که در کمر بسته و گاهی هم برگ‌های درختان را به آن بسته می‌کنند. مردمان مهاجر سفیدپوست اروپایی که بعد از سال ۱۸۰۰ میلادی به افریقا آمدند به منظور عملی نمودن برنامه‌های استعماری خود قسمت‌های زیاد افریقا را تحت تسلط در آوردند، آن‌ها در افریقای جنوبی و زمبابوی زنده‌گی می‌کردند و بعداً در کینیا و یوگندا و دیگر کشورهای افریقا پراکنده شدند.

چهره نگروه‌های افریقا



چهره عرب‌های افریقای شمالی





### فعالیت داخل صنف

شاگردان به گروه‌ها تقسیم شوند و هر گروه روی علل و عوامل مهاجرت آفریقاییان بحث نموده و نتیجه مباحثه خود را به دیگران ارائه نمایند.

### سوال‌ها

- ۱- در شمال آفریقا کدام مردمان زنده‌گی می‌کنند و به کدام زبان صحبت می‌نمایند؟
- ۲- در شمال غرب آفریقا کدام قبایل زنده‌گی می‌کنند و به کدام نسل شباهت دارند؟
- ۳- در صحرای اعظم و قسمت‌های جنوبی و مرکزی براعظم آفریقا کدام مردمان زنده‌گی می‌کنند و به نام چه یاد می‌شوند؟
- ۴- چرا مردمان اروپایی به آفریقا مهاجرت کردند؟ هدف شان چه بود و در کدام ممالک آفریقایی امرار حیات می‌کردند؟

### فعالیت خارج از صنف

- نقشه ترکیب قومی مردم آفریقا را مطالعه نموده، سوال‌های زیر را جواب تحریری دهید:
- ۱- در براعظم آفریقا مردم نژاد سیاه به صورت عمومی در کدام بخش سکونت دارند؟
  - ۲- به اساس همین نقشه ممالک مصر، لیبیا و مراکش در سال ۲۰۰۵ م چند میلیون نفوس

## از دین و زبان افریقا چه می دانید؟



نقشه ممالک اسلامی قاره افریقا

داشتند؟

در براعظم افریقا کدام ادیان پیروان زیاد دارند؟

**دین:** به نقشه بالای صفحه نگاه کنید. در براعظم افریقا ادیان مختلف مانند اسلام، عیسوی و بودایی پیروان زیادی دارند که در همه کشورهای آن به صورت پراکنده زیست می نمایند. به صورت عموم در این براعظم ۲۳ کشور پیرو دین مقدس اسلام می باشند. و در دیگر کشورهای آن نیز مسلمانان با فیصدی های مختلف زنده گی می کنند.

**زبان:** نفوس براعظم افریقا از ملیت های جداگانه ترکیب شده که با زبان ها و لهجه های جداگانه تکلم می کنند و تعداد آن ها به ۷۰۰ لسان و ۳۰۰ لهجه یا زبان محلی می رسد؛ چون اکثریت ممالک افریقا تحت استعمار اروپایی ها قرار داشتند؛ بنابراین همان زبان استعماری خارجی را زبان رسمی خود قرار داده بودند. اکنون که این کشورها مستقل هم شده اند باز هم همان زبان خارجی به حیث زبان رسمی شان باقی مانده است که مهمترین آن ها زبان انگلیسی، اسپانوی، فرانسوی و پرتگالی می باشد.

در براعظم افریقا با زبان های گوناگون تکلم می شود؛ ولی به صورت عموم چهار گروه زبان در این قاره عمومیت دارد:

۱- زبان های سامی که شامل زبان های سامی، عربی، قبطی و امهری است.

- ۲- زبان‌های ساحلی یا سواحلی که شامل زبان‌های بانتو و نوعی زبان دیگر که محصول اختلاط زبان‌های محلی می‌باشد و تعداد آن‌ها بسیار زیاد است.
- ۳- زبان‌های محلی که تعداد آن‌ها زیاد است.
- ۴- زبان‌های اروپایی که در رأس آن‌ها زبان‌های فرانسوی و انگلیسی قرار دارد.
- لسان‌های رسمی ممالک آفریقایی را می‌توان در جدول زیر مطالعه کرد.

لسان رسمی	عربی	انگلیسی	فرانسوی	پرتگالی	سواحلی	آفریقایی
نام ممالک	مصر سودان مراکش تونس الجزایر لیبیا موریتانیا (صحرای غربی) ایرتیریا	نایجریا گانا گامبیا سیرالیون لایبیریا اوگندا زامبیا مالاوی زمبابوئی بوتسوانا کینیا نامبیا آفریقای جنوبی	سنگال گینه مالی ساحل عاج بورکینا فاسو توگو بنین نایجیر چاد (جمهوریت آفریقای مرکزی) (کانگو - کینشاسا) (کانگو - برازاویل) روندا گابون مدغاسکر	انگولا (گینه- بیسائو) کپ وردی (ساوتام و پرنسپی) موزمبیق	تانزانیا کینیا (و در یک بخش اوگندا)	آفریقای جنوبی

• همچنان کشورهای دیگری وجود دارند که لسان‌های رسمی دیگری دارند.

### فعالیت داخل صنف

شاگردان به گروه‌ها تقسیم شوند و هر گروه در مورد یکی از گروه‌های زبانی معلومات ارائه نمایند.

### سوال‌ها

- ۱- مسلمانان در کدام قسمت آفریقا بیشتر سکونت دارند؟
- ۲- در براعظم آفریقا چند کشور پیرو دین مقدس اسلام می‌باشد؟
- ۳- چرا آفریقایی‌ها زبان خارجی را به حیث زبان رسمی خود قرار داده‌اند؟
- ۴- زبان‌های محلی و زبان‌های اروپایی مروج در آفریقا را معرفی کنید.

### فعالیت خارج از صنف

شاگردان نقشه براعظم آفریقا را در کتابچه‌های خود رسم نمایند و ساحات ادیان مروج مردم آفریقا را در آن نشان دهند.



چیدن برگ‌های چای در کینیا

راجع به جغرافیای اقتصادی براعظم افریقا چه می‌دانید؟  
 ترقی و انکشاف در اقتصاد قاره افریقا نظر به براعظم‌های دیگر بعدتر، یعنی در اوایل قرن نوزده آغاز گردید و قبل از آن بسیار محدود بوده است.

اوضاع اقتصادی این قاره نیز رنگ‌ها و اشکال مختلفی دارد؛ چنانچه از ساده‌ترین پیشه‌ها و صنایع دستی ابتدایی تا مدرن‌ترین فابریکه‌های صنعتی را در آن می‌توان ملاحظه کرد یا در بخش ترانسپورت از طریق خیلی ساده و بسیط که به طور مستقیم انتقال آن توسط انسان‌ها صورت می‌گیرد تا مدرن‌ترین بندرهای بحری، خطوط آهن، شبکه‌های هوایی و میدان‌های مجلل را می‌توان در آن سراغ کرد.  
 براعظم افریقا از نظر منابع طبیعی قاره ثروتمند است. در این قاره معادن نفت، طلا، الماس، مس و جنگل‌های عظیم و فراوانی وجود دارد. اقتصاد و عایدات افریقا بیشتر بر پایه‌های زراعت و مالرداری استوار است. بنابراین بخش‌های مختلف اقتصاد براعظم افریقا را به طور ذیل مطالعه می‌نماییم:

### زراعت و مالرداری

حاصلات زراعتی این قاره جهان را بیشتر نباتات استوایی و تحت استوایی تشکیل می‌دهند؛ چنانچه کنجد و بته‌های چای در شرق افریقا، نباتات تیلی زیادتر در غرب منطقه سودان و قسمت علیای گینه،

ناریال در جزایر شرقی افریقا، ککاو در سواحل گینه و جزایر نزدیک آن، مپلی در افریقای غربی، پنبه در مصر، سودان و تانزانیا، کیله و اناناس در افریقای غربی و تقریباً در همه جزایر این ساحه، قهوه زیادت در حبشه و کینیا، انجیر، انگور و غیره میوه‌ها و سبزا در سواحل بحیره مدیترانه یافت می‌شود. در شمال براعظم افریقا در ساحل بحیره مدیترانه که دارای اقلیم مدیترانه‌یی است، زمستان آن معتدل و بارانی و تابستان آن گرم و خشک است جنگلات در آن کمتر و درختان همیشه‌بهار، زیتون، لیمو، گندم، جو، جواری و انگور حاصل خوب می‌دهد. در افریقای جنوبی دشت‌های علفزار به صورت للمی حاصل می‌دهد و از آن جمله حاصلات تنباکو و پنبه قابل یادآوری است. در بسیاری مناطق آن لوییا حاصلات عمده زراعتی را تشکیل می‌دهد.

گرچه اقلیم افریقا به طور عموم برای تربیه حیوانات مساعد نیست و مالرداری و پرورش حیوانات نیز در آن کمتر صورت می‌گیرد ولی با آن هم تربیه گوسفند و بز تا حدی قابل تذکر است. صید ماهی به خصوص در سواحل ممالک اطلس زیادت صورت می‌گیرد. انواع ماهیان قابل شکار در آنجا عبارت از: ساردین، تونیاک و مکریل می‌باشد. مناطق استوایی ۵ الی ۱۰ درجه عرض البلد شمالی و جنوبی خط استوا دارای اقلیم گرم و مرطوب می‌باشد که به همین دلیل در این مناطق جنگلات انبوهی وجود دارد.

### فعالیت داخل صنف

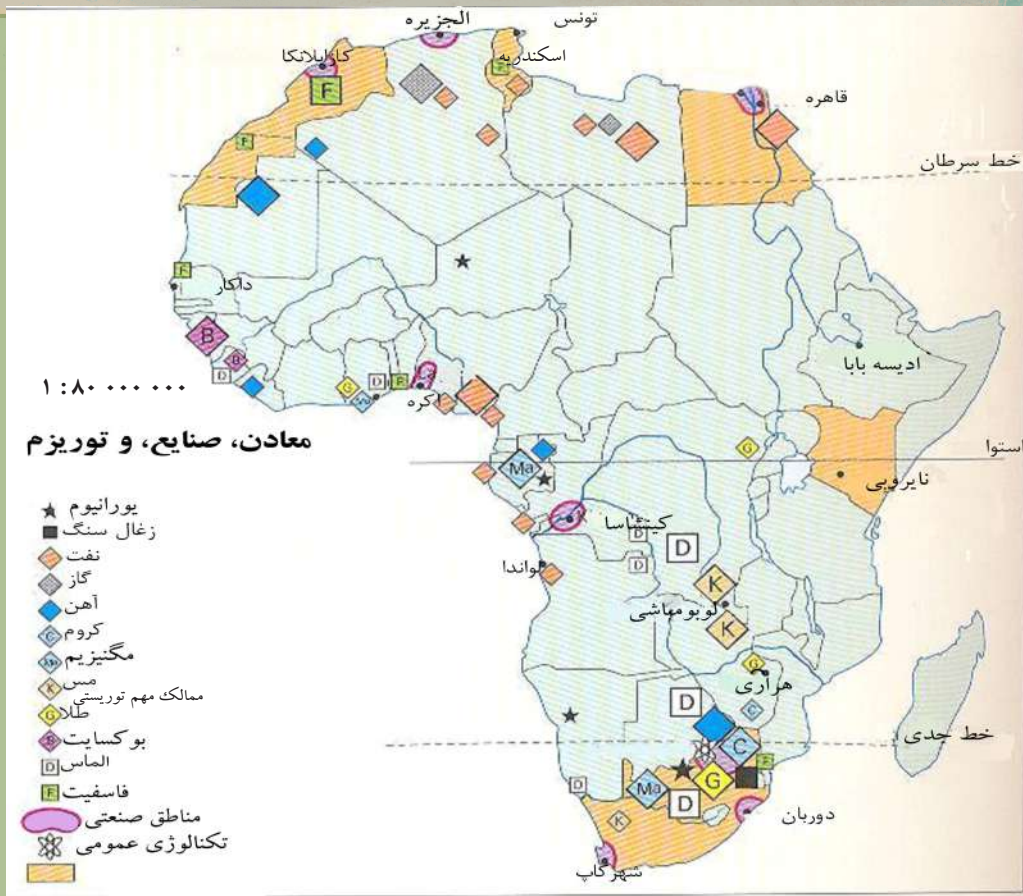
شاگردان به گروه‌ها تقسیم شوند و هر گروه راجع به علت عقب‌مانده گی قاره افریقا، وضع اقتصادی قاره افریقا و زراعت و مالرداری افریقا بحث نموده و نتیجه بحث خود را به دیگران ارائه نمایند.

### سوال‌ها

- ۱- راجع به اوضاع اقتصادی قاره افریقا معلومات دهید.
- ۲- انکشاف مالرداری در افریقا چگونه است؟
- ۳- انواع حیوانات و ماهیان قابل شکار افریقا را نام بگیرید.

### فعالیت خارج از صنف

راجع به محصولات مدیترانه‌یی قاره افریقا معلومات خود را بنویسید؛ همچنان بگویید که آیا در افغانستان نوع اقلیم مدیترانه‌یی وجود دارد؟ اگر دارد در کدام منطقه؟



نقشه معادن، صنایع و توزیع آفریقا

با توجه به نقشه بالا، کدام مواد معدنی و محصولات صنعتی در کدام مناطق آفریقا وجود دارد؟

براعظم آفریقا از نظر منابع طبیعی قاره‌ی ثروتمند است؛ اما استفاده کمتر از آن‌ها صورت گرفته است. آفریقای شمالی دارای ذخایر زیاد نفت و گاز می‌باشد و آفریقای جنوبی با داشتن ذخایر الماس، مقام اول را در جهان داراست و منبع بزرگ عایداتی آفریقا را تشکیل می‌دهد. الماس سخت‌ترین و قیمتی‌ترین منرال طبیعی است که به صورت عموم به رنگ زرد و سیاه دیده می‌شود و بعضاً به رنگ‌های سفید، آبی و سبز نیز می‌باشد. منرال مذکور بعد از صیقل شدن به نام بریلیانت (الماس تراشیده) یاد می‌شود. طلا از معادن مهم آفریقای جنوبی است؛ همچنان ذخایر زغال سنگ، کروم، منگنیز و یورانیوم نیز در آن ساحه موجود است. کشورهای زیر و زمبابوی دارای بهترین ذخایر مس استند و معادن آهن در لایبیریا و آفریقای جنوبی موجود است. به صورت عموم گفته می‌توانیم که براعظم آفریقا ۸۰ فیصد الماس، ۴۰ فیصد طلا، ۲۰ فیصد نقره، ۲۰ فیصد مس و ۱۴ فیصد قلعی جهان را تولید می‌کند. همچنان از منطقه مهم ترانسوال می‌توان نام برد که در آن کارخانه‌های صنعتی و



شهرهای عظیم متمرکز بوده و بیشترین جمعیت را در خود جای داده است. نواحی مرکزی افریقا دارای جنگلات انبوه و مناطق صحرایی دارای معادن فراوان است که تا حال مورد استفاده قرار نگرفته است. کشورهای افریقا کوشش دارند تا حجم تولیدات صنعتی را بالا ببرند. بعضی کشورهای افریقا به ساختن بندهای برق و بندهای زراعتی مشغول اند به طور مثال: بالای دریای نیل، بند اسوان در مصر و بند کریبا بالای دریای زامبزی در بین کشورهای زامبیا و زمبابوی و بند ولتا بالای دریای ولتا در کشور گانا قابل یادآوری است. محصولات زراعتی و معدنی قاره افریقا بیشتر به خارج صادر می شود. مواد اولیه خام برای کارخانه ها و مراکز صنعتی دیگر کشورهای جهان نیز در افریقا تولید می شود؛ زیرا در خود افریقا صنعت پیشرفت چندانی نکرده است. همچنان در افریقا عواید از منابع توریسم نیز به دست می آید. اهرام مصر و آثار باستانی سایر کشورهای قدیمی، سواحل زیبای شمال افریقا در کنار بحیره مدیترانه، آداب و رسوم مردم و نیز پارک های ملی معروف که در افریقا وجود دارد ارزش توریسم و جهان گردی دارد که سبب می شود مردم از آنجا دیدن کنند که بدون شک در اقتصاد مناطق و ممالک مربوطه نقش دارد.

### فعالیت داخل صنف

شاگردان به گروه ها تقسیم شوند هر گروه راجع به منابع و ذخایر طبیعی قاره افریقا بحث نموده، نتیجه بحث خود را به دیگران ارائه نمایند.

### سوال ها

- ۱- بندهای برق افریقا روی کدام دریاها ساخته شده اند؟
- ۲- افریقای شمالی و جنوبی را از نظر منابع طبیعی با هم مقایسه نمایید.
- ۳- کشورهایی را در افریقا نام ببرید که در آنها مس بیشتر یافت می شود.
- ۴- معادن آهن در کدام مناطق افریقا بیشتر به ملاحظه می رسند؟
- ۵- معادنی را که در قاره افریقا یافت می شوند نام بگیرید.

### فعالیت خارج از صنف

نقشه معادن، صنایع و توریسم افریقا را مطالعه نموده، سوال های ذیل را جواب دهید:

- ۱- یورانیوم در کدام ممالک افریقا وجود دارد؟ از آنها نام ببرید.
- ۲- نفت به طور عموم در کدام بخش های افریقا وجود دارد؟
- ۳- مناطق صنعتی افریقا را نام ببرید.
- ۴- ممالک مهم سیاحتی افریقا را نام ببرید.



ترانسپورت در لاگوس

راجع به مواصلات قارهٔ آفریقا و انکشاف بعدی آن چه می‌دانید؟

مواصلات در آفریقا سابقهٔ دیرینه داشته و به اشکال مختلف صورت می‌گرفت؛ اکنون تا حدودی به شکل بهتر و معاصرتر انکشاف یافته است. موجودیت جنگل‌های انبوه استوایی، بادهای تند صحرائی، با تلاق‌ها و صحراها موانعی را در این قاره به وجود آورده است. حمل و نقل مواد از طریق خشکه و در سواحل توسط کشتی‌ها صورت می‌گیرد. اولین رفت و آمد از غرب به شرق آفریقا در سال ۱۸۷۷م. توسط هری موتن ستنلی (Harry Mouton Stanly) صورت گرفت که در سه سال تکمیل گردید.

در اکثر این قسمت‌ها مواصلات و حمل‌نقل به شکل ابتدایی توسط شتر، مرکب و یا در مواضع صعب‌العبور با استفاده از انسان صورت می‌گیرد.

احداث شبکه‌های خطوط آهن از اوایل قرن بیست به خصوص از جنگ اول جهانی به بعد به طور بطی پیش رفته است؛ بنا برآن بیشتر از سرک‌ها در حمل و نقل کار گرفته می‌شود. طول مجموعی شبکه‌های خطوط آهن در آفریقا به هفتاد هزار کیلومتر رسیده و طویل‌ترین آن خطی است که به طول هشت هزار کیلومتر قاهره را به کپتاون در آفریقای جنوبی وصل می‌کند. خطوط آهن در کشورهای دیگر آفریقای مانند: مراکش، الجزایر، تونس و مصر انکشاف نموده است.

برعلاوه پایتخت‌ها و مراکز اکثر ممالک این براعظم و شهرهای مشهور و معروف آن با میدان‌های هوایی عصری مجهز می‌باشند که از این طریق به کشورهای پیشرفته صنعتی و دیگر کشورهای جهان ارتباط برقرار می‌نمایند.

ترانسپورت در شهر قاهره



### فعالیت داخل صنف

شاگردان به دو گروه تقسیم شوند. گروه اول راجع به اشکال ابتدایی مواصلات افریقا و گروه دوم راجع به اشکال پیش‌رفته مواصلات در افریقا بحث نموده و نتیجه بحث خود را به دیگران ارائه نمایند.

### سوال‌ها

- ۱- خطوط آهن در کدام کشورهای افریقای شمالی انکشاف نموده است؟
- ۲- راجع به شکل حمل و نقل ابتدایی معلومات دهید.

### فعالیت خارج از صنف

در مورد موانع و مشکلات راه‌های مواصلاتی در افریقا معلومات دهید.



دوربان مهمترین بندر بحری افریقای جنوبی

به نظر شما افریقا از طریق کدام آبناها و کانالها به بحر وصل می شود؟

حمل و نقل بحری و دریایی افریقا حایز اهمیت خوبی بوده و مهمترین راههای آبی (طبیعی و مصنوعی) که در افریقا ارتباط میان دو بحیره یا دو اقیانوس را برقرار می سازند از این قرار اند: کانال سویز (بین بحیره مدیترانه و بحیره سرخ که کار ساختمانی آن در سال ۱۸۵۶م. شروع و در سال ۱۸۶۹م. خاتمه یافت)، باب المندب (بین بحیره سرخ و خلیج عدن)، کانال موزمبیق (بین دو قسمت از بحر هند در غرب مدغاسکر) و آبناى جبل الطارق (بین بحیره مدیترانه و اقیانوس اطلس). از این راههای آبی، تنها کانال سویز مصنوعی است و بقیه آنها طبیعی می باشند.

با وجود مشکلات و موانع در براعظم افریقا و بنابر عدم مساعدت ساختمان اراضی، موجودیت جنگلات در ساحة کانگو و استوا، اقلیم بسیار گرم و سوزان صحرائی و استوایی که اکثر جاهای افریقا بدون استفاده قرار گرفته است با آن هم سهولتهایی در حمل و نقل اموال به وجود آمده است. مهمترین راه بحری در حوزه کانگو موقعیت دارد که تقریباً به طول یک هزار و پنج صد کیلومتر قابل استفاده می باشد. حوزه آبگیر آن در مناطق استوایی قرار دارد که در تمام سال آب فراوان و باران زیاد دارد. دریای نیل بند اسوان قابل استفاده کشتی های بحری بوده، از این دریا کشورهای

لاگوس پایتخت نایجریا و بندر بحری



مصر و سودان هر دو جهت حمل و نقل استفاده می‌نمایند؛ هکذا در دریا‌های نایجر، سنیگال و زامبزی نیز در بعضی اوقات سال که آب فراوان باشد کشتی‌رانی صورت می‌گیرد.

به نظر شما کانال سویز کدام بحیره‌ها را به هم وصل می‌نماید؟

امروز حمل و نقل توسط کشتی‌های بحری زیادتر در بنادر مدیترانه و بنادر افریقای جنوبی صورت می‌گیرد که از آن به جانب بازارهای امریکای جنوبی و آسترالیا مال‌التجاره بیشتر انتقال داده می‌شود. همچنین کانال سویز که ارتباط اروپا را با افریقای شرقی و جنوب‌شرقی تامین نموده، از ارزش خاص اقتصادی برخوردار است.

### فعالیت داخل صنف

با توجه به نقشه افریقا اگر قرار باشد که از خلیج عدن توسط کشتی به شهر ساحلی کشور مراکشه یعنی کازابلانکا مسافرت کنیم از کدام آبناها و کانال‌ها می‌گذریم؟

### سوال‌ها

- ۱- کدام کانال شمال شرق افریقا از اهمیت مهمی برخوردار می‌باشد؟
- ۲- آبناى جبل الطارق بین کدام اقیانوس و بحیره قرار دارد؟
- ۳- مواصلات سابقه براعظم افریقا و انکشاف بعدی آن را مقایسه نمایید.

### فعالیت خارج از صنف

یک کتاب، مجله و یا اخبار را که در مورد قاره افریقا معلومات داشته باشد، مطالعه نموده و یادداشت نام کتاب، سال طبع و غیره مشخصات آن را به استاد مضمون بدهید.

اگر امریکای شمالی و جنوبی را به صورت دو براعظم جداگانه در نظر بگیریم، افریقا پس از آسیا پهناورترین خشکۀ جهان است. اما اگر تمام امریکا به طور یک خشکۀ کلان در نظر گرفته شود، در آن صورت افریقا بعد از آسیا و امریکا سومین براعظم جهان به شمار می‌رود.

افریقا با داشتن بیش از ۳۰ میلیون کیلومتر مربع مساحت (به شمول جزایر مربوط آن) ۲۰,۳ فیصد مساحت زمین را در بر می‌گیرد که در آن بیش از ۱,۲۵ بلیون نفوس سکونت دارد.

شمالی‌ترین نقطه این قاره دماغه سفید (Cape Blanc) و دماغه بن (Cape Bon) در تونس بالای عرض البلد شمالی ۳۷ درجه و ۲۰ دقیقه و جنوبی‌ترین نقطه آن به نام دماغه اگولهاس (Cape Agulhas) در جمهوری افریقای جنوبی بالای عرض البلد جنوبی ۳۴ درجه و ۴۰ دقیقه واقع می‌باشد.

مشرقی‌ترین نقطه آن دماغه گاردافوی (Cape Guardafui) در سومالیا بالای طول البلد شرقی ۵۲ درجه و مغربی‌ترین نقطه آن دماغه سبز (Cape Verde) در مجاورت سنیگال است که بالای طول البلد غربی ۱۷ درجه واقع گردیده است. افریقا بزرگ‌ترین ساحه را در منطقه استوایی احاطه کرده است که  $\frac{2}{3}$  اراضی آن در شمال خط استوا و  $\frac{1}{3}$  آن در جنوب خط استوا قرار گرفته است.

این قاره طوری که از نام آن ظاهر می‌شود یک براعظم حاری‌وی بوده و خط استوا از وسط آن به طوری می‌گذرد که تقریباً شمالی‌ترین و جنوبی‌ترین نقاط از آن به عین فاصله قرار می‌گیرند.

در غرب افریقا بحر اتلانتیک و در شرق آن بحر هند موقعیت دارد. در شمال توسط بحیره مدیترانه از براعظم اروپا و در شمال شرق توسط کانال سویز و بحیره احمر از آسیا جدا شده است.

خشکۀ افریقا را می‌توانیم به افریقای غربی، شرقی، مرکزی، جنوبی و شمالی نیز تقسیم نماییم.

افریقا دارای کوه‌ها، صحراها و مناطق هموار است که مشهورترین آن‌ها کوه‌های اطلس در گوشه شمال غربی، کوه‌های جوان کیلیمانجارو (Kilimanjaro) در تانزانیا، کوه‌های کهن مانند اهاگر (Ahaggar) در جنوب شرق الجزایر، کوه‌های تبستی (Tibesti) در شمال غرب چاد و همچنان سطوح مرتفع حبشه قابل یادآوری می‌باشد.

مناطق پست و کم‌ارتفاع در افریقا کمتر وجود دارند. بعضی از این مناطق باتلاقی و دارای اقلیم غیر مناسب برای صحت است که در مناطق استوایی قرار دارد و صحراهای خشک و سوزان در دیگر نقاط آن عرض وجود می‌کنند. صحرای افریقا که صحرای بزرگ در جهان است تقریباً در  $\frac{1}{3}$  حصه براعظم افریقا توسعه یافته است. در سال‌های گذشته ساحه این صحرا به اساس خشک‌سالی نیز وسیع شده است.

در براعظم افریقا دریا‌های زیادی وجود دارند که مشهورترین آن‌ها دریا‌های نیل و کانگو می‌باشند. دریای نیل باعث ایجاد مدنیت کهن مصر گردیده و حال نیز در آبیاری مناطق زراعتی از ارزش خاص برخوردار می‌باشد.

افریقا نظر به موقعیتی که در کره زمین اتخاذ کرده است بعد از استرالیا گرمترین براعظم جهان به شمار می‌رود.

افریقا دارای بارنده‌گی بیشتر می‌باشد که در شمال و جنوب قسمت استوایی آن بارنده‌گی تنزلی می‌یابد.

در افریقا ۵۵ مملکت مستقل وجود دارد که در آن اقوام مختلف با کلتورهای متفاوت دیده می‌شوند.

در افریقای شمالی کلتور اسلامی مسلط است در حالی که در مناطق دیگر آن کلتورهای دیگر دیده می‌شود. اکثریت مردم افریقا در دهات سکونت دارند که به زراعت و مالداری مشغول‌اند.

اگر چه شرایط اقتصادی در افریقا بعد از سقوط استعمار در آن رو به بهبودی گذاشته؛ ولی متأسفانه هنوز هم نفوس و قوای تولیدی بشری در همه جا یکسان و به طور کافی گسترش نیافته است.

در افریقا جنگ‌های داخلی زیاد و خشک‌سالی باعث مهاجرت‌های داخلی و خارج از مرزها می‌گردد. همچنان یک تعداد زیاد از مردم افریقا از فقر و گرسنه‌گی رنج می‌برند و سطح زنده‌گی مردم آن پایین است.

شهرهای بزرگ افریقا لاگوس (Lagos) در نایجیریا (با داشتن ۹ میلیون نفوس)، کینشاسا (Kinshasa) در جمهوری کانگو (با داشتن ۸,۴ میلیون نفوس) و قاهره در مصر (با داشتن ۷,۹ میلیون نفوس) می‌باشد.

لسان‌های رسمی در افریقا عبارت‌اند از: عربی، انگلیسی، فرانسوی، پرتگالی، سواحلی افریقایی و غیره.

## جدول بعضی مشخصات جغرافیایی کشورهای مستقل قاره آفریقا

شماره	مملکت	عمومیات					فیصدی شغل نفوس در سکتورهای مختلف در سال ۲۰۰۱	
		مرکز	مساحت به کیلومتر مربع	تعداد نفوس در سال ۲۰۰۶	تراکم نفوس در فی کیلومتر مربع	زراعت	صنعت	خدمات
۱	انگولا	لواندا	۱,۲۴۶,۷۰۰	۱۲,۱۲۷,۰۷۱	۱۰	۷۴,۷	۸,۴	۱۶,۹
۲	ایتوییا	آدیس بابا	۱,۱۰۴,۳۰۰	۷۴,۷۷۷,۹۸۱	۶۸	۸۶,۰	۲,۰	۱۲,۰
۳	اریتریا	اسمره	۱۱۷,۶۰۰	۵,۰۲۸,۴۲۷	۴۲,۸	—	—	—
۴	افریقای جنوبی	پرتوریا	۱,۲۲۱,۰۳۷	۴۴,۱۸۷,۶۳۷	۳۶	۱۳,۷	۳۱,۸	۵۴,۵
۵	افریقای مرکزی	بانگی	۶۲۳,۰۰۰	۴,۳۰۳,۳۵۶	۷	۸۰,۵	۳,۰	۱۶,۵
۶	الجزایر	الجزیره	۲,۳۸۱,۷۴۱	۳۲,۹۳۰,۰۹۱	۱۴	۲۸,۳	۲۹,۸	۴۱,۹
۷	یوگاندا	کامپالا	۲۴۱,۰۳۸	۲۸,۱۹۵,۷۵۴	۱۱۷	۸۴,۳	۴,۶	۱۱,۱
۸	بنین	پرتونو	۱۱۲,۶۲۲	۷,۸۶۲,۹۴۴	۷۰	۶۳,۴	۸,۱	۲۸,۵
۹	بوتسوانا	گابرون	۵۸۱,۷۳۰	۱,۶۳۹,۸۳۳	۳	۴۶,۳	۲۰,۴	۳۳,۳
۱۰	بورکینافاسو	واگادوگو	۲۷۴,۰۰۰	۱۳,۹۰۲,۹۷۲	۵۱	۹۲,۴	۲,۰	۵,۶
۱۱	بوروندی	بوجومبوار	۲۷,۸۳۴	۸,۰۹۰,۰۶۸	۲۹۱	۹۱,۹	۲,۵	۵,۶
۱۲	تانزانیا	دارالسلام	۸۸۳,۷۴۹	۳۷,۴۴۵,۳۹۲	۴۲	۸۴,۴	۵	۱۰,۶
۱۳	توگو	لومه	۵۶,۷۸۵	۵,۵۶۸,۷۰۲	۹۸	۶۵,۶	۱۰,۰	۲۴,۴
۱۴	تونس	تونس	۱۶۳,۶۱۰	۱۰,۱۷۵,۰۱۴	۶۲	۲۸,۹	۳۲,۷	۳۸,۴
۱۵	جیبوتی	جیبوتی	۲۳,۲۰۰	۵۰۶,۲۲۱	۲۱,۸	—	—	—
۱۶	چاد	انجامنا	۱,۲۸۴,۰۰۰	۹,۹۴۴,۲۰۱	۸	۸۳,۲	۴,۳	۱۲,۵
۱۷	رواندا	کیگالی	۲۶,۳۳۸	۸,۶۴۸,۲۴۸	۳۲۸	۹۱,۹	۳,۶	۴,۵
۱۸	زامبیا	لوزاکا	۷۵۲,۶۱۸	۱۱,۵۰۲,۰۱۰	۱۵	۷۴,۸	۸,۵	۱۶,۸
۱۹	زیمبابوی	هراری	۳۹۰,۷۵۷	۱۲,۲۳۶,۸۰۵	۳۱	۶۸,۲	۸,۱	۲۳,۷
۲۰	سایوتومه و پرنسپ	سایوتومه	۹۶۴	۲۰۶,۱۷۸	۲۱۳,۹	—	—	—
۲۱	ساحل عاج	یاموسوکرو	۳۲۲,۴۶۳	۱۷,۶۵۴,۸۴۳	۵۵	۶۰,۰	۱۰,۰	۳۰,۰
۲۲	سنگال	داکار	۱۹۶,۷۲۲	۱۱,۹۸۷,۱۲۱	۶۱	۷۶,۸	۷,۴	۱۵,۸
۲۳	سوازیلند	مبابان	۱۷,۳۶۴	۱,۰۱۲۸۸۱۴	۶۵	—	—	—
۲۴	سودان <sup>(۱)</sup>	خرطوم	۲,۵۰۵,۸۱۳	۴۱,۲۳۶,۳۷۸	۱۶	۶۹,۸	۸,۶	۲۱,۶
۲۵	سومالیا	موگادیشو	۶۳۷,۶۵۷	۸,۸۶۳,۳۳۸	۱۴	۶۸,۰	۱۲,۰	۲۰,۰
۲۶	سیرالیون	فری تاون	۷۱,۷۴۰	۶,۰۰۵,۲۵۰	۸۴	۶۷,۷	۱۵,۴	۱۶,۹
۲۷	سیشل	ویکتوریا	۴۵۵	۸۲,۲۴۷	۱۸۰,۸	—	—	—

(۱) اگر چه سودان به دو حصه تقسیم شده است اما از طرف ملل متحد نقشه، مستند داده نشده است.

فیصدی شغل نفوس در سکتورهای مختلف در سال ۲۰۰۱			عمومیات				مملکت	شماره
خدمات	صنعت	زراعت	تراکم نفوس در فی کیلومتر مربع	تعداد نفوس در سال ۲۰۰۶	مساحت به کیلومتر مربع	مرکز		
—	—	—	۱.۵	۳۹۳,۸۳۱	۲۶۶,۰۰۰	العیون	۲۸	
۲۷,۶	۱۳,۰	۵۹,۴	۹۴	۲۲,۴۰۹,۵۱۷	۲۳۸,۵۳۳	اکرا	۲۹	
۱۲,۵	۸,۶	۶۹,۹	۳۶	۱۷,۳۴۰,۷۰۲	۴۷۵,۴۴۲	پایونده	۳۰	
۳۶,۶	۱۴,۸	۴۸,۶	۱۱	۳,۷۰۲,۳۱۴	۳۴۲,۰۰۰	برازویل	۳۱	
۱۸,۵	۱۳,۵	۶۸,۰	۲۷	۶۲,۶۶۰,۵۵۱	۲,۳۴۴,۸۵۸	کینشاسا	۳۲	
۱۳,۴	۷,۰	۷۹,۶	۶۰	۳۴,۷۰۷,۸۱۷	۵۸۰,۳۶۷	نایروبی	۳۳	
—	—	—	۳۲۷,۴	۷۳۱,۷۵۵	۲,۲۳۵	مورونی	۳۴	
—	—	—	۱۰۵,۹	۴۲۶,۹۹۸	۴۰,۳۳	پرایا	۳۵	
۴۲,۱	۱۵,۱	۵۱,۸	۵	۱,۴۲۴,۹۶۰	۲۶۷,۶۶۸	لیرویل	۳۶	
۹,۹	۸,۰	۸۲,۱	۱۴۵	۱,۶۴۱,۵۶۴	۱۱,۲۹۵	بانجول	۳۷	
۱۰,۸	۲,۱	۸۷,۲	۳۹	۹,۶۹۰,۲۲۲	۲۴۵,۸۵۷	کوناکری	۳۸	
—	—	—	۲۲	۶۱۶,۴۵۹	۲۸۰,۰۵۱	مالابو	۳۹	
—	—	—	۴۱,۶	۱۵۰,۳۰۱۸۲	۳۶,۱۲۵	یساو	۴۰	
—	—	—	۷۰,۱	۲,۱۲۸,۰۱۸۰	۳۰,۳۵۵	ماسرو	۴۱	
—	—	—	۲۹,۹	۳,۳۳۴,۵۸۷	۱۱۱,۳۶۹	مونرویا	۴۲	
۶۶,۳	۲۲,۱	۱۱,۶	۳	۵,۹۰۰,۷۵۴	۱,۷۵۹,۵۴۰	تریپولی	۴۳	
۱۵,۱	۶,۹	۷۸,۰	۳۲	۱۸,۵۹۵,۴۶۹	۵۸۷,۰۴۱	آنتاناناریوو	۴۴	
۸,۱	۵,۱	۸۶,۸	۱۱۰	۱۳۰,۱۳,۹۲۶	۱۱۸,۴۸۴	لیلونگوه	۴۵	
۱۲,۲	۲,۰	۸۵,۸	۹	۱۱,۷۱۶,۸۲۹	۱,۲۴۰,۱۹۲	باماکو	۴۶	
۳۰	۴۰	۳۰,۸	۷۹	۷۸,۸۸۷,۰۰۷	۱,۰۰۱,۴۴۹	قاهره	۴۷	
۵۹,۲	۳۴,۸	۶,۰	۷۴	۳۳,۲۴۱,۲۵۹	۴۴۶,۵۵۰	رباط	۴۸	
۳۴,۲	۱۰,۷	۵۵,۱	۳	۳,۱۷۷,۳۷۸	۱,۰۲۵,۵۲۰	نواکشوت	۴۹	
—	—	—	۶۲۴,۶	۱,۰۲۷۴,۱۸۹	۲,۰۴۰	پورت لوئیس	۵۰	
۹,۲	۸,۲	۸۲,۶	۲۵	۱۹,۶۸۶,۵۰۵	۸۰۱,۵۹۰	ماپوتو	۵۱	
۳۵,۰	۱۵,۷	۴۹,۳	۲	۲,۰۴۴,۱۴۷	۸۲۴,۲۹۲	ویندهوک	۵۲	
۶,۴	۳,۸	۸۹,۸	۱۰	۱۲,۵۲۵,۰۹۴	۱,۲۶۷,۰۰۰	نیامی	۵۳	
۴۹,۸	۶,۸	۴۳,۴	۱۴۳	۱۳۱,۸۵۹,۷۳۱	۹۲۳,۷۶۸	آبوجا	۵۴	
							۵۵	

منبع:

Wolters- Noordhoff, WN Atlas Productions, Groningen, the 2007 Netherlands



# آسترالیا



نقشه موقعیت آسترالیا

## اهداف کلی فصل

- از شاگردان انتظار می‌رود که با خواندن این فصل به اهداف علمی زیر دست یابند:
- آشنایی با موقعیت جغرافیایی قاره‌های آسترالیا، اقیانوسیه و قاره منجمد جنوبی (انتارکتیکا)
  - آشنایی با مهم‌ترین پستی و بلندی‌های قاره آسترالیا و اقیانوسیه.
  - آشنایی با وضعیت جغرافیای سیاسی قاره آسترالیا و اقیانوسیه.
  - آشنایی با جغرافیای بشری قاره آسترالیا و اقیانوسیه.
  - آشنایی با جغرافیای اقتصادی قاره آسترالیا و اقیانوسیه.
  - آشنایی با اکتشافات قاره منجمد جنوبی.
- از شاگردان انتظار می‌رود که با خواندن این فصل به اهداف مهارتی ذیل دست یابند:
- تشخیص موقعیت جغرافیایی قاره آسترالیا، اقیانوسیه و قاره منجمد جنوبی (انتارکتیکا)
  - تعیین مهم‌ترین کوه‌ها، دریاها و بحیره‌ها بر روی نقشه آسترالیا
  - تعیین مهم‌ترین کوه‌ها، دریاها و بحیره‌ها بر روی نقشه اقیانوسیه
  - تفسیر توزیع جغرافیایی نفوس در قاره آسترالیا
  - نشان دادن توزیع جغرافیایی نفوس بر روی نقشه آسترالیا
  - نشان دادن توزیع جغرافیایی نفوس بر روی نقشه اقیانوسیه
  - تعیین مهم‌ترین ثروت‌های معدنی بر روی نقشه آسترالیا و اقیانوسیه

## موقعیت استرالیا



نقشه موقعیت جغرافیایی استرالیا و نیوزیلاند

استرالیا در کدام بخش کره زمین موقعیت دارد؟

### حدود اربعه

براعظم کوچک استرالیا که از نظر بعضی یک جزیره کلان است، قسمت زیاد (تقریباً  $\frac{3}{4}$ ) حصه آن صحرا است. استرالیا بین خطوط ۱۲ درجه و ۴۳ درجه عرض البلد های جنوبی و ۱۱۵ و ۱۵۴ درجه طول البلد های شرقی موقعیت دارد.

در شمال استرالیا بحیره تیمور (Timor Sea)، بحیره ارافورا (Arafurasea)، خلیج کارپینتاریا (Gulf of Carpentaria) و آبناى تورس (Str. Torres) موقعیت دارد. در شرق آن بحیره کورل (Coral Sea) و بحیره تسمانیا (Tasmania Sea) و در جنوب آن آبناى باس (Str. Bass) و خلیج استرالیا موقعیت دارد. بحر هند در جنوب و غرب استرالیا قرار گرفته است. خط ساحلی مجموعی استرالیا به ۲۵,۷۶۰ کیلومتر می رسد. استرالیا چگونه و توسط کی کشف گردید؟

### کشف استرالیا

تقریباً ۵۰,۰۰۰ سال قبل مردمان اولی به استرالیا رفتند. انگلیسی ها از سال ۱۷۸۹ آن ها را به نام «ابورجینالس» (Aboriginals) یاد کردند که یک اصطلاح لاتینی است و برای باشندگان اصلی یا بومی استعمال می شود. این مردم از آسیای جنوب شرقی آمده

بودند. ۵۰,۰۰۰ سال پیش توسط یخبندان پل‌های خاکی که بین آسیا و استرالیا وجود داشت، از راه همین پل‌ها و راه‌ها مردمان و حیوانات می‌توانستند از آسیا به استرالیا بروند. این یک پروسهٔ چهل هزار ساله بود؛ بعدها که کرهٔ زمین گرم شد و یخبندان به ذوب شدن شروع کرد، سطح آب بحر بالا رفت و به این ترتیب استرالیا به شکل یک جزیره در آمد. در سال ۱۵۰ میلادی برای بار اول یونانی‌ها در مورد استرالیا نوشتند. آن‌ها این خشکه را به نام تیرا استرالیس (Terra Australis) و یا کنارهٔ جنوبی مسما نمودند. مردم زیادی علاقه‌مند آن شدند و در جستجوی این سرزمین ناآشنا برآمدند. در قرن شانزده و هفده پرتگالی‌ها، اسپانوی‌ها و هلندی‌ها علاقه‌مند تجارت به آسیا بودند. به اثر مسافرت‌ها و کشفیات زیاد بحری همان وقت بود که استرالیا هم توسط اروپایی‌ها کشف گردید. در سال ۱۶۰۶م. اولین کشتی هلندی‌ها در ساحل خلیج کارپنتاریا (Gulf of Carpentaria) در شمال استرالیا مقابل نیو گینه (New Guinea) لنگر انداخت. کپتان این کشتی ویلیم جانسن (Willem Janszoon) دوباره به (Java) برگشت.

در سال ۱۶۱۶م. یک کشتی دیگر هلندی به خلیج شارک (Shark) در غرب استرالیا رسید. در یک و نیم قرن بعدی مردمان مختلف هلندی، فرانسوی و انگلیسی به استرالیا که در آن زمان به نام نیو هالند New Holland مسما بود، مسافرت نمودند. اما در آن وقت آن قدر حس شناسایی بیشتر و یا مستعمره ساختن استرالیا وجود نداشت.

اولین بریتانیوی که به استرالیا رسید یک کپتان کشتی بود به نام ویلیم دامپیر (William Dampier) که در سال ۱۶۸۸م. به استرالیا رسید.

ابل تاسمان (۱۶۴۲میلادی) بحریمای هلندی و یکی از کاشفین قارهٔ استرالیا




در سال ۱۷۷۰م جیمز کوک انگلیسی اولین اروپایی بود که به سواحل شرقی استرالیا رسید و از طریق خلیج بوتانی (Botany) سدنی (Sydney) کنونی سواحل شرقی را پیمود و آن را به نام ولز نیو سوت ویلز (New South Wales) مسمی ساخت.

در آغاز سال ۱۸۰۰م. سدنی به مرکز تجارتی در حالت مبدل شدن بود؛ همچنان به خاطر کشف سایر نقاط استرالیا، تلاش‌هایی صورت می‌گرفت.

در حدود ۱۸۹۰م. این طرز تفکر که مستعمرات مختلف به یک مملکت وسیع فدرالی مبدل شود، شکل می‌گرفت که بالاخره در اول جنوری سال ۱۹۰۱م. سیستم ایالتی در استرالیا به وجود آمد و در حقیقت این روز روز استقلال استرالیا از انگلستان می‌باشد.

تصویر از یک کشتی بادبان‌دار



اما تا مدت طولانی استرالیا به گونه مستعمره انگلستان باقی ماند که آهسته آهسته به شکل یک مملکت مستقل عرض وجود کرد.

جیمز کوک (۱۷۷۰ میلادی)  
کپتان انگلیسی و یکی از کاشفین قاره استرالیا



### فعالیت داخل صنف

شاگردان به دو گروه تقسیم شوند. گروه اول موقعیت جغرافیایی استرالیا را به روی نقشه تثبیت نموده، نشان دهند و گروه دوم لست ممالک و اشخاصی را که در کشف استرالیا نقش داشتند، ترتیب و به دیگران ارائه نمایند.

### سوال‌ها

- ۱- استرالیا یک جزیره کلان است.
- ۲- استرالیا در شرق بحر هند موقعیت دارد.
- ۳- کشف استرالیا نتیجه مسافرت‌ها و کشفیات زیاد بحری بود که توسط اروپایی‌ها صورت گرفت.
- ۴- استرالیا استقلال خود را در سال ۱۹۰۱م. از انگلستان به دست آورد.

### فعالیت خارج از صنف

با استفاده از انترنت و یا کتابخانه راجع به کشفیات بحری و کشف استرالیا یک مقاله یک صفحه‌یی نوشته کنید.



وضع طبیعی استرالیا چگونه است؟

استرالیا که کوچک‌ترین قاره جهان است، همراه با جزایر آن به صورت کل در نیم کره جنوبی موقعیت دارد.

مملکت استرالیا را از نظر جغرافیایی می‌توان به چهار منطقه جداگانه تقسیم کرد:

- ۱- دشت‌های مرکزی که از آب زیرزمینی نسبتاً فراوانی برخوردار اند.
- ۲- فلات غربی که بیشتر بیابان است.
- ۳- جلگه ساحلی شرقی که در حقیقت دامنه‌های شرقی کوه‌های گریت دیوای دینگ (منبع بزرگ آب) است.
- ۴- ارتفاعات یا کوه‌های شرقی که به «گریت دیوای دینگ» معروف است.

جغرافیای طبیعی استرالیا را در چند بخش جداگانه به طور ذیل مطالعه می‌نماییم:

#### الف) کوه‌ها

کوه‌های استرالیا بیشتر در کدام قسمت‌ها واقع شده است؟

در شرق استرالیا کوه‌های مشهوری وجود دارد به نام گریت دیوای دینگ (Great Dividing) که بیش از ۳۰۰۰ کیلومتر طول دارد. این سلسله‌جبال از جزیره تسمانیا (Tasmania) در جنوب

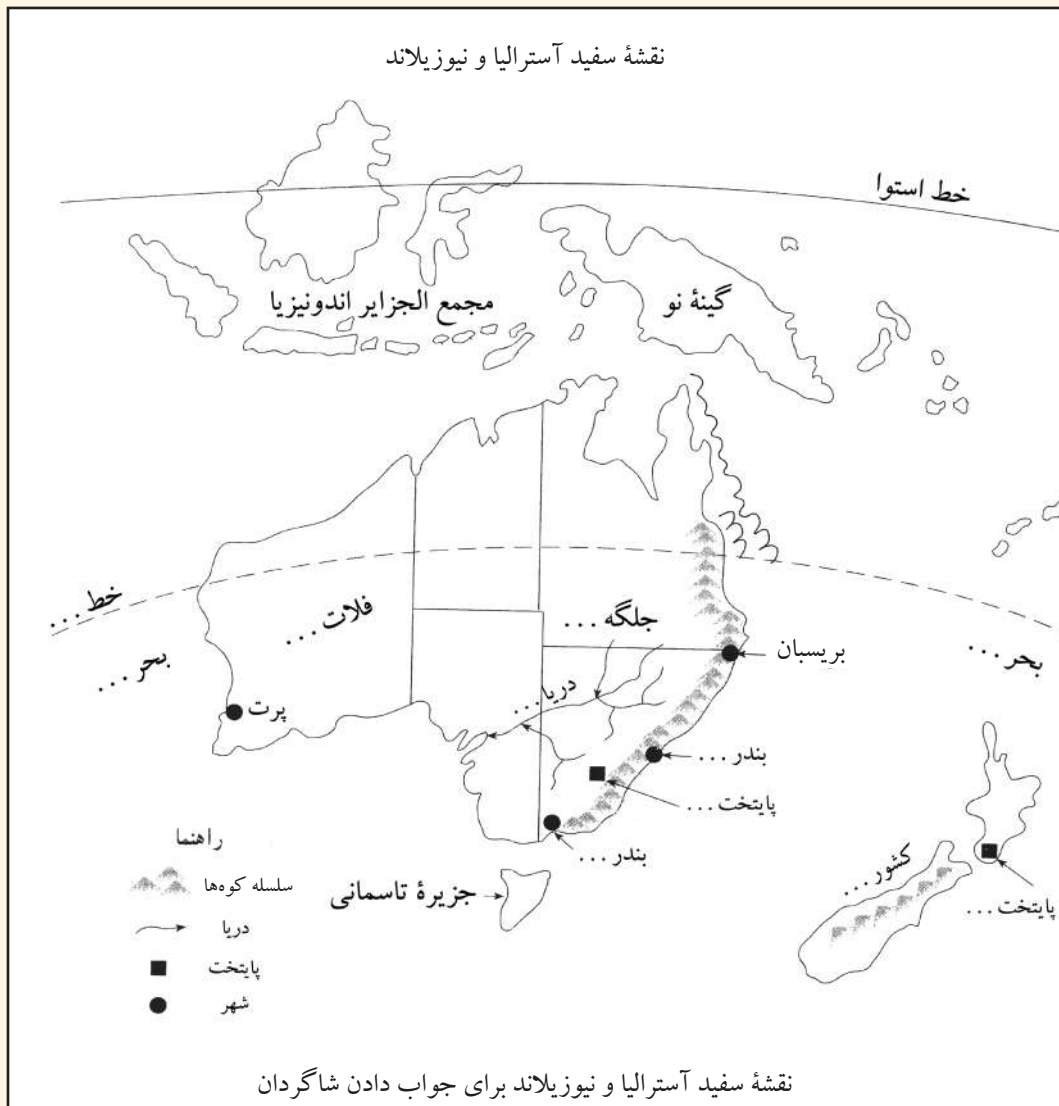
شروع شده و تا به شبه جزیره کپ یورک (Cape York) در شمال امتداد یافته است. این سلسله کوه که کوه‌هایی با ارتفاع متوسط و سطوح مرتفع دارد، توسط دریاها قطع گردیده است. کوه‌های متذکره دامنه‌های خود را به طرف سواحل شرقی و به طرف غرب تا مناطق هموار گسترش داده اند. از کوه‌های گریت دیوای دینگ دریا‌های زیاد خُرد و بزرگ سرچشمه گرفته و به اقیانوس آرام می‌ریزند.

سلسله کوه‌های دیگر استرالیا به نام آلپ استرالیایی (Australian Alps) مشهور است که در حقیقت جزء کوه‌های (دیوای دینگ) محسوب می‌شوند. این کوه‌ها که در جنوب شرق استرالیا موقعیت دارند، سطوح مرتفع را در مناطق نیو سوت ویلز (New South Wales) و شرق منطقه ویکتوریا (Victoria) تشکیل نموده‌اند. بلندترین قله این کوه‌ها کوسیوسکو (Kosciusko) است که ۲۲۳۱ متر ارتفاع دارد.

کوه‌هایی که منبع آبی مناطق شرقی استرالیا بوده و پوشیده از جنگل‌های متراکم است.



کوه‌های آلپ استرالیایی، مناطق خوبی برای تفریح و استراحت دارند و همچنان منابع خوب آبی را تشکیل نموده‌اند. در این منطقه باغ‌های ملی زیاد وجود دارند و برای سپورت‌های زمستانی (بازی‌های اسکای) یگانه منطقه در استرالیا محسوب می‌شود؛ همچنان کوه‌های فلیندرز (Flinders) نیز یک شاخه‌یی از کوه‌های دیوای دینگ بزرگ است که در استرالیای جنوبی موقعیت دارد.





در ساحات مرکزی استرالیا کوه‌های مک‌دونل (Macdonnell) و کوه‌های موسگراو (Musgrave) قابل یادآوری می‌باشند. در غرب استرالیا نیز کوه‌های مشهوری وجود دارند که به نام هامرسلی (Hamersley) یاد می‌شوند و بلندترین قله آن‌ها بروس (Bruce) است که بیش از ۱۲۰۰ می باشد. در شمال استرالیا سطوح مرتفع مشهور قرار داشته که به نام‌های کیمبرلی (Kimberley Plateau) و ارنیم (Arnhem Land) مشهور اند. ارتفاع آن‌ها از ۸۰۰ متر تجاوز نمی‌کند.

### فعالیت داخل صنف

- شاگردان به گروه‌ها تقسیم شوند و هر گروه یکی از فعالیت‌های ذیل را انجام داده و نتیجه فعالیت خود را به دیگران ارائه نمایند:
- ۱- چهار منطقه جداگانه استرالیا را از نظر جغرافیایی بر روی نقشه‌ها تثبیت نموده و نشان دهند.
  - ۲- شاخه‌های کوه‌های گریت دیوای دینگک را نام برده و بر روی نقشه نشان دهند.
  - ۳- اهمیت اقتصادی کوه‌های آلپ استرالیایی را توضیح نمایند.
  - ۴- کوه‌هایی را که در غرب و شمال استرالیا موقعیت دارند، نام برده و بر روی نقشه نشان دهند.

### سوال‌ها

- ۱- استرالیا را به چند و کدام مناطق جغرافیایی می‌توان تقسیم کرد؟
- ۲- مقصد ما از باغ‌های ملی چه است؟
- ۳- کوه‌های استرالیا در حیات اقتصادی و اجتماعی مردم چه نقشی می‌تواند داشته باشد؟
- ۴- به نظر شما کوه‌ها در استرالیا چه مشکلات و چه سهولت‌هایی را به مردم آن مملکت فراهم نموده است؟

### فعالیت خارج از صنف

نقشه سفید استرالیا و نیوزیلاند را کاپی و یا در کتابچه‌های تان رسم نمایید و جاهای خالی آن را پر کنید.



به نظر شما چرا در استرالیا دریاهای متعددی وجود دارند؟

به سبب وجود ارتفاعات متعدد در این جزیره بزرگ و موقعیت خاص جغرافیایی که از هر طرف توسط اقیانوس‌ها محصور است، بارنده گی در این جزیره فراوان است؛ به همین جهت دریاهای متعددی در آن جریان دارد که اکثر آنها به اقیانوس آرام و یا اقیانوس هند می‌ریزند.

دریاهای مشهور استرالیا عبارتند از:

دریاهای دارلینگ (Darling)، موری (Murray) و لچ لن (Lachlan). که از نواحی شرقی کوه‌های دیوای دینگ بزرگ سرچشمه گرفته، بالاخره به خلیج بزرگ استرالیا می‌ریزند. بزرگ‌ترین سیستم دریاهای استرالیا سیستم موری-دارلینگ می‌باشد. دریای موری با وجود آن‌که، کوتاه‌تر از دارلینگ است از مهمترین دریاهای این سیستم به شمار می‌رود؛ زیرا نسبت به دارلینگ به مراتب سیراب‌تر است.

طول دریای موری به ۲۵۷۰ کیلومتر و طول دریای دارلینگ به ۲۷۳۰ کیلومتر می‌رسد. مساحت حوزه آبخیز این دریاها به ۱۸۷۲ هزار کیلومتر مربع می‌رسد. دومین شاخه بزرگ را مورامیدجی (Murrumbidgee) که طول آن به ۱۶۹۰ کیلومتر می‌رسد تشکیل می‌دهد.

تمام دریاهایی که شامل سیستم موری-دارلینگ بوده غیر منظم است. آب این دریاها بیشتر در اثر باران‌ها و تا حدودی در اثر ذوب برف‌های آلپ استرالیا به وجود می‌آید. به همین علت دبت آبی اعظمی در تابستان می‌باشد؛ یعنی زمانی که سطح آب در دریاهای موری و دارلینگ بالا می‌رود، به دشت هموار سرازیر شده و گاهی باعث تخریبات نیز می‌گردد. در این هنگام دریاها با خود مقدار زیادی مواد مخروباتی و پارچه‌های سنگ را انتقال می‌دهد که امور کشتی‌رانی را با مشکل مواجه



می‌سازد. دریا‌های سیستم موری - دارلینگ دارای اهمیت اقتصادی نیز می‌باشد؛ زیرا از آب آن‌ها در آبیاری زمین‌ها استفاده به عمل می‌آید. دریا‌های مهم در سمت شمال و شمال شرق عبارت از میشل (Mitchell) و فلیندرز (Flinders) است که از شمال شرق کوه گریت دیوای دینگ سرچشمه می‌گیرد و به خلیج کارپنتاریا می‌ریزد. همچنین قابل یادآوری است که دریا‌های ویکتوریا (Victoria) و دلی (Daly) که در شمال استرالیا جریان دارند و به بحیره تیمور می‌ریزند.

تمام حصص استرالیای غربی از نگاه داشتن آب، فقیر بوده، تنها نقاط دور افتاده آن و به خصوص دامنه‌های مرطوب با برجسته گی‌ها، دارای شبکه مترکم رودها می‌باشد که در فصل‌های بارانی مملو از آب می‌گردند.



بیشتر اوقات سال این رودها خشک می‌باشد؛ زیرا حتی در نقاط دور افتاده این ساحه خشک‌سالی تا ۳۰۰ روز در سال ادامه می‌یابد. منابع آب‌های سطحی استرالیا گذشته از آن‌که قسمت زیاد آن شور می‌باشد احتیاج مردم را مرفوع نمی‌سازد؛ اما استرالیا دارای منابع آب‌های زیرزمینی زیاد می‌باشد.

در این قاره حوزه‌های متعدد برای بهره‌برداری آب‌های زیرزمینی مورد مطالعه قرار گرفته‌اند که آب‌های مورد ضرورت صنایع و چراگاه‌ها را تهیه می‌دارند. این آب‌ها به علت منرالیزه شدن شدید برای نوشیدن و آبیاری کشت‌زارها کمتر مساعد می‌باشد. بزرگ‌ترین حوزه آب‌های زیرزمینی در جهان حوزه بزرگی است که از خلیج کارپنتاریا تا حوزه دارلینگ گسترش یافته است. در مجموع در استرالیا در حدود ۶۵۰۰ چاه آب‌های زیرزمینی موجود است.

### فعالیت داخل صنف

شاگردان به گروه‌ها تقسیم شوند و راجع به این که چرا دریا‌های استرالیا رژیم غیر ثابت دارند بحث نموده و نتیجه بحث خود را به دیگران ارائه نمایند.

### سوال‌ها

- ۱- آیا آب‌های زیرزمینی در استرالیا مشکلات مردم را مرفوع می‌سازند؟
- ۲- دریا‌هایی را که در شمال و شمال شرق استرالیا وجود دارند نام بگیرید.
- ۳- جریان اعظمی آب دریا‌های استرالیا در کدام فصل سال زیادتر است؟
- ۴- چرا سیستم دریا‌های موری - دارلینگ غیر منظم می‌باشد؟
- ۵- دریا‌های موری - دارلینگ چه مفاد اقتصادی دارند؟

### فعالیت خارج صنف

نقشه قاره استرالیا را ترسیم نموده و در آن دریا‌های آن‌را به رنگ مخصوص نشانی نموده، به دیگران ارائه نمایید.



### بزرگ‌ترین جهیل نمک‌دار آسترالیا کدام است؟

به جز از آسترالیا در سایر جزایر اقیانوسیه، جهیل‌های مهم وجود ندارد؛ زیرا شرایط ساختمان طبیعی این جزایر طوری است که زمینه را برای ایجاد جهیل‌ها فراهم نکرده است. یکی از جهیل‌های مهم آسترالیا جهیل ایر (Eyre) است که بزرگ‌ترین جهیل نمک‌دار در آسترالیا می‌باشد. این جهیل در شمال غرب ایالت جنوب آسترالیا در جنوب صحرای سیمپسون (Simpson) موقعیت دارد.

جهیل ایر از دو بخش تشکیل شده که یکی جهیل بزرگ ایر شمالی و دیگری جهیل کوچک ایر جنوبی می‌باشد و توسط یک کانال طبیعی با هم وصل گردیده اند. بخش زیاد جهیل ایر در ساحه پارک ملی جهیل ایر قرار گرفته است.

عمیق‌ترین نقطه آسترالیا (تقریباً ۱۵ متر پایین از سطح بحر) نیز در همین جهیل موقعیت دارد. در جنوب جهیل ایر جهیل‌های دیگری به نام‌های تورنس (Torrense) و گایردنر (Gairdner) وجود دارد که سطح زمین، یعنی بستر آن‌ها نیز توسط نمک پوشیده شده است. گاهی اوقات به علت گرمای شدید آب این جهیل‌ها تبخیر شده و خشک می‌گردند.

جهیل‌های دیگر آسترالیا که در جنوب غرب و غرب آسترالیا موقعیت دارند عبارت اند از: کارنگی

(Carnegie)، بارلی (Barlee)، مور (Moore) و غیره.



### فعالیت داخل صنف

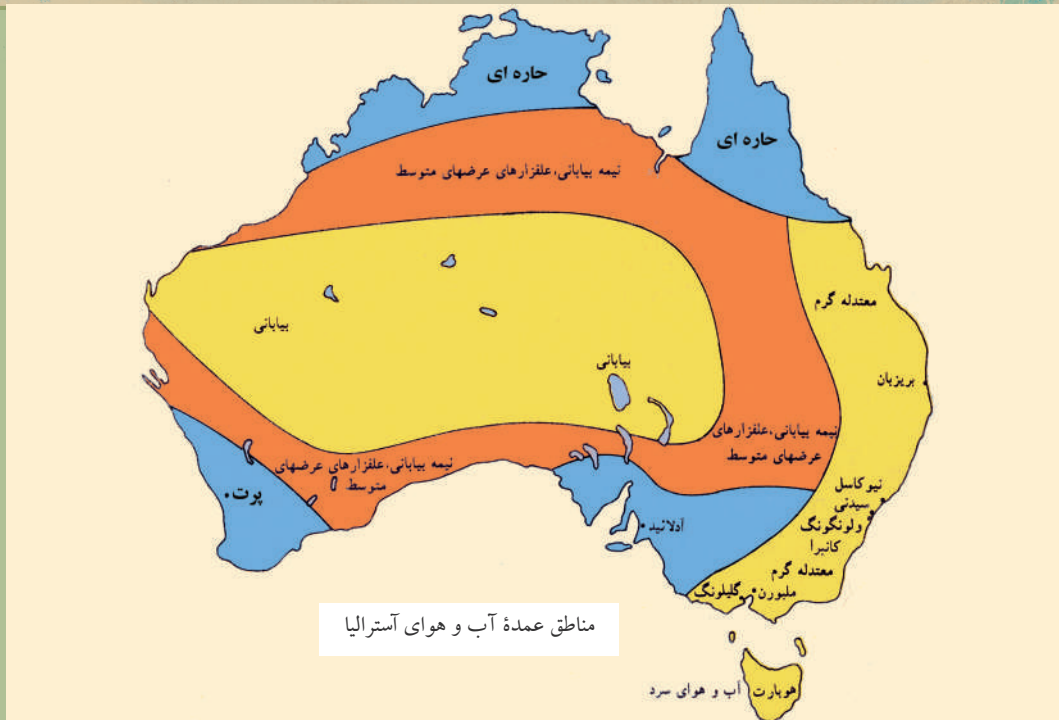
به نقشه صفحه ۵۵ نگاه کنید و موقعیت جهیل‌هایی را که از آن‌ها نام بردیم بر روی نقشه تثبیت و نشان دهید.

### سوال‌ها

- ۱- پایین‌ترین نقطهٔ استرالیا در کدام جهیل موقعیت دارد؟
- ۲- جهیل‌های مهم استرالیا را نام ببرید.
- ۳- چگونه سطح زمین یا بستر بعضی از جهیل‌های استرالیا توسط نمک پوشیده شده است؟

### فعالیت خارج از صنف

جهیل‌های استرالیا را با جهیل‌های افریقا مقایسه نموده، اختلافات و مشابهت‌های آن‌ها را در چند سطر بنویسید.



به نقشه بالا نگاه کنید. اقلیم استرالیا چگونه است.

تغییر فصل در استرالیا به خاطر صورت می گیرد که در اول جدی شعاع آفتاب بالای دایره جدی (عرض البلد  $23\frac{1}{2}$  درجه جنوبی) عمود می تابد؛ بنابراین تابستان نیم کره جنوبی آغاز می شود. چون استرالیا در نیم کره جنوبی قرار دارد روزهای تابستانی در آنجا به ملاحظه می رسد و برعکس در نیم کره شمالی روزهای زمستانی می باشد که این موضوع تابع میلان محور زمین می باشد؛ اگر در نیم کره شمالی تابستان باشد در نیم کره جنوبی زمستان است.

یکی از مهمترین اوصاف اقلیم استرالیا فراوانی روزهای آفتابی در آنجا است. روی هم رفته استرالیا یک کشور گرم محسوب می گردد. خط جدی از میان آن می گذرد و دارای تابستان های گرم و زمستان های معتدل می باشد. بخش زیادی از استرالیا دارای اقلیم تحت استوایی (سب تروپیک) و یک بخش شمالی آن دارای اقلیم استوایی است. تقریباً دو سوم مساحت استرالیا آنچنان خشک است که قابل کشت و زراعت نمی باشد. شمال استرالیا در تابستان دارای باران های موسمی می باشد اما در جنوب این کشور بادهای باران آور، بادهای غربی استند که در طول زمستان می وزند. در برخی نواحی استرالیا بارنده گی بسیار کم است و ممکن است باعث به وجود آمدن خشک سالی

شود. حدود  $\frac{3}{4}$  حصه آسترالیا سالانه باران کمتر از ۲۵۰ میلی‌متر دارند که در این مناطق زراعت بسیار کم است. کمتر از  $\frac{1}{3}$  حصه آسترالیا که بیشتر قسمت‌های کوهستانی استند سالانه در حدود ۵۰۰ میلی‌متر باران دارند.

آسترالیا را از لحاظ آب و هوا می‌توان به چندین منطقه تقسیم بندی کرد:

۱- آب و هوای حاره‌یی با تابستان

مرطوب در شمال.

۲- آب و هوای معتدل گرم بایک

فصل خشک در منطقه کویزلند.

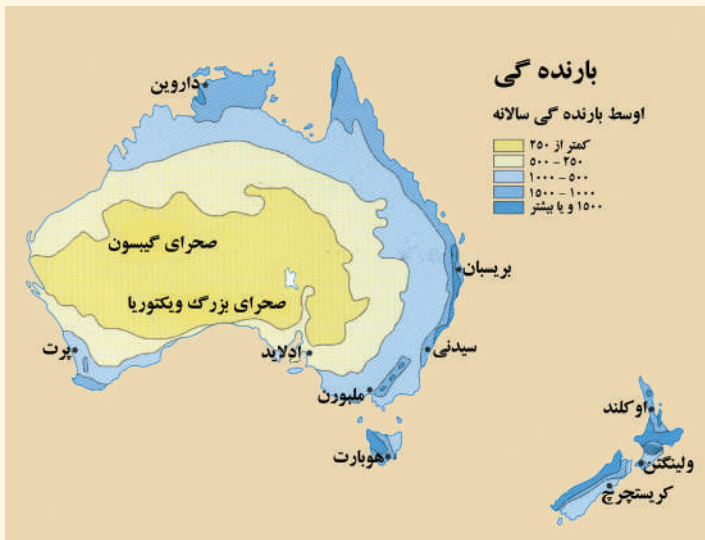
۳- آب و هوای مرطوب و معتدل

گرم در حاشیه ولز جنوبی و ویکتوریا.

باید یاد آور شد که ساحات

زیادی از مناطق مرکزی و غربی

آسترالیا اقلیم صحرائی دارند.



### فعالیت داخل صنف

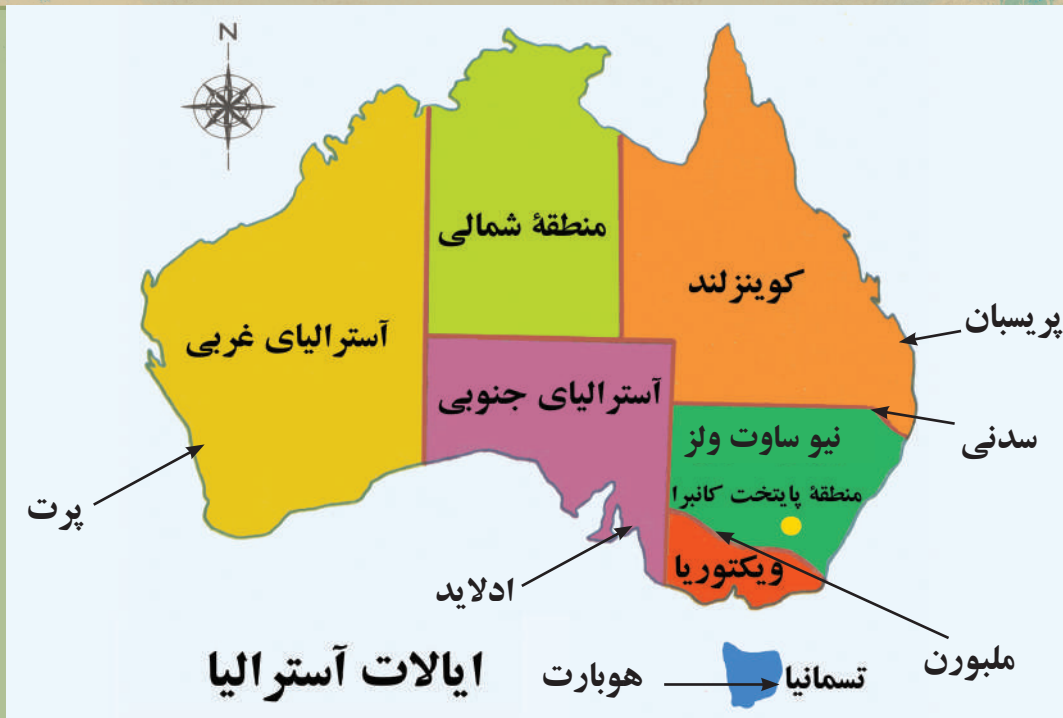
به نقشه آب و هوای آسترالیا نگاه کنید و مناطق مختلف اقلیمی را در آن تثبیت، نموده نشان دهید.

### سوال‌ها

- ۱- کدام مناطق آسترالیا دارای اقلیم صحرائی می‌باشند؟
- ۲- کدام مناطق آسترالیا به طور اوسط سالانه بارنده گی زیاد دارند؟
- ۳- چرا آب و هوای آسترالیا گرم است؟

### فعالیت خارج از صنف

در مورد این که چرا فصل‌های سال در آسترالیا معکوس فصل‌های سال در نیم‌کره شمالی است، معلومات جمع‌آوری نموده و ارائه نمایید.



استرالیا چگونه اداره می‌شود؟

استرالیا دولت فدرالی شاهی مشروطه یا شاهی پارلمانی است که ملکه انگلستان به گونه تشریفاتی در راس دولت آن قرار دارد؛ اما در حقیقت استرالیا یک دولت فدرالی است که هفت پارلمان ایالتی دارد و هر پارلمان امور مربوط به آن ایالت را انجام می‌دهد و یک پارلمان ملی و مشترک در مرکز استرالیا، یعنی شهر کانبرا است که امور کل مملکت را انجام می‌دهد. این نوع حکومت شبیه حکومت فدرالی ایالات متحده آمریکا و کانادا می‌باشد.

لسان رسمی این کشور انگلیسی و پایتخت آن شهر کانبرا است. اکثریت مردم این مملکت پیرو دین عیسوی هستند.

اگر به نقشه سیاسی استرالیا نگاه کنید، می‌بینید که استرالیا به شش ایالت و دو منطقه تقسیم گردید است که عبارت اند از:

۱- نیوساوت ولز (New South Wales) (ولز جدید جنوبی) که در آن دو شهر بزرگ استرالیا یعنی سدنی (Sydney) که مرکز همین ایالت است و کانبرا (Canberra) که پایتخت استرالیا است موقعیت دارد. شهر سدنی بزرگ‌ترین شهر استرالیا و مهم‌ترین بندر و مرکز مالی این کشور است.



- ۲- ایالت ویکتوریا (Victoria) که مرکز آن ملبورن (Melborne) است.
  - ۳- کوینزلند که مرکز آن بریسان (Brisban) است.
  - ۴- آسترالیای جنوبی که مرکز آن شهر ادلاید (Adelaid) می‌باشد.
  - ۵- آسترالیای غربی که مرکز آن شهر پرت (Perth) است.
  - ۶- تسمانیا که مرکز آن هوبارت است و یک جزیره یی است که در جنوب ولز جدید جنوبی موقعیت دارد. دو منطقه مستقل عبارت اند از منطقه پایتخت (کانبرا) و منطقه شمالی.
- حکومت آسترالیا در سال ۱۹۰۱ میلادی استقلال خود را کسب نموده است. پارلمان فدرالی آسترالیا شامل ولسی جرگه با داشتن ۱۴۸ عضو و مجلس سنا (Senate) با داشتن ۷۶ عضو است.

تصویری از شهرهای ملبورن و سدنی



### فعالیت داخل صنف

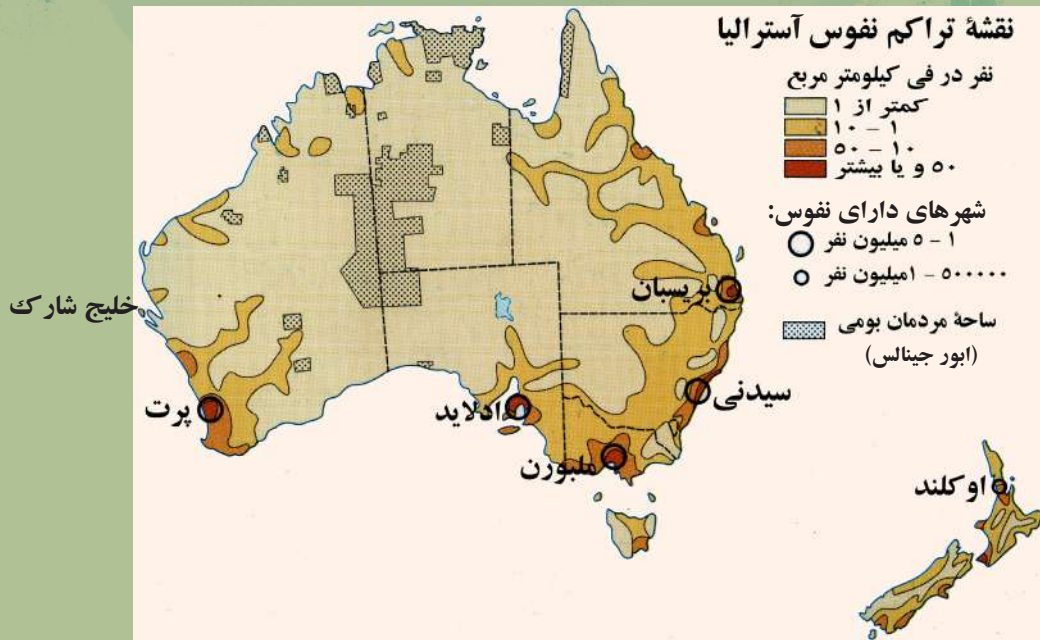
شاگردان به گروه‌ها تقسیم گردند و راجع به طرز حکومت آسترالیا بحث نموده؛ سپس نماینده هر گروه نتیجه بحث خود را برای هم‌صنفان خود بیان نماید.

### سوال‌ها

- ۱- آسترالیا به چند ایالت تقسیم گردیده است؟ آن‌ها را نام ببرید.
- ۲- آسترالیا در کدام سال و از کدام مملکت استقلال سیاسی خود را به دست آورد؟
- ۳- طرز حکومت آسترالیا چگونه است؟
- ۴- پایتخت آسترالیا در کدام بخش موقعیت دارد؟

### فعالیت خارج از صنف

در کتابچه‌های تان نقشه سیاسی آسترالیا را رسم نموده و نام ایالت‌های آن را در ساحة مربوطه آن بنویسید



در مورد نژاد و نفوس آسترالیا چه می‌دانید؟

در این بخش، نخست به نفوس و نژاد و بعد با دین و زبان مردم آسترالیا آشنا می‌شوید. نخستین ساکنان آسترالیا را بومیانی تشکیل می‌دادند که از جنوب شرق آسیا به آنجا مهاجرت کرده بودند. هنگامی که اروپایی‌ها بعد از سال ۱۸۳۰ وارد آسترالیا شدند، کمتر از نیم میلیون افراد بومی در این قاره زنده گی می‌کردند. افراد بومی آسترالیا دارای پوست تیره بوده که به ۵۵۰ قبیله تقسیم شده بودند و هر قبیله از چندین طایفه تشکیل گردیده بود.

با شروع اکتشافات سفیدپوستان اروپایی که دو صد سال قبل صورت گرفت و وقوع جنگ بین آنان و بومیان آسترالیا تعداد نفوس بومیان آسترالیا تقریباً به ۶۰۰۰۰ نفر می‌رسید؛ اما اکنون رشد نفوس آن‌ها به اساس شرایط بهتر زنده گی بار دیگر افزایش یافته و تعداد آن‌ها زیاد شده است.

تا سال ۱۹۲۰ نفوس آسترالیا به ۵ میلیون نفر می‌رسید. مهاجران غیر انگلیسی نیز بر نفوس آسترالیا افزودند و در سال ۱۹۴۵ جمعیت آن به ۷٫۵ میلیون نفر رسید، در حالی که فقط نیمی از آن‌ها انگلیسی بودند. مهاجران جدید آسترالیا از کشورهای آلمان، هالند، ایتالیا، پولند و غیره کشورها وارد شده‌اند. در آسترالیا در سال ۲۰۰۸ میلادی بیش از ۲۰ میلیون نفر زنده گی می‌کردند که تراکم نفوس آن به طور اوسط در فی کیلومتر مربع به ۳ نفر می‌رسید.

آسترالیا یکی از کشورهای بومی است که اکثریت نفوس آن در شهرها زنده گی می کنند. حدود ۸۵٪ نفوس آسترالیا در چند مرکز مهم متراکم بوده، در حالی که مناطق وسیعی از دهات و قریه جات آن، خالی از مردم استند. تقریباً بیش از شش میلیون نفوس آسترالیا در دو شهر بزرگ سدنی و ملبورن زنده گی می کنند. قسمی که پیشتر یادآور شدیم علاوه بر مردم بومی در حدود بیش از ۹۰٪ مردم آسترالیا را سفیدپوستان اروپایی به خصوص انگلیسی ها، تقریباً ۷٪ را آسیاییان و در حدود ۱٪ را بومیان و غیره تشکیل می دهند. علاوه بر آن در این جا نژاد «دورگه» یا مختلط که از سفیدپوستان و افراد بومی تشکیل شده است قابل یادآوری می باشد.

تصویری از اطفال بومی آسترالیایی



### فعالیت داخل صنف

- به نقشه تراکم نفوس آسترالیا نگاه کنید و سوالات زیر را جواب دهید:
- ۱- به صورت کل در کدام قسمت آسترالیا تراکم نفوس زیاد است؟
  - ۲- به نظر شما چرا در آنجا تراکم نفوس بیشتر است؟

### سوالها

- ۱- بومیان آسترالیا از کجا وارد آسترالیا شدند و فعلاً تعداد آنها به چند نفر می رسد؟
- ۲- اکثریت نفوس فعلی آسترالیا را کدام مردم تشکیل می دهند؟
- ۳- مساحت و نفوس آسترالیا را با افغانستان مقایسه کنید و نظر خود را در مورد آن بگویید.

### فعالیت خارج از صنف

راجع به مشخصات نفوس بومیان آسترالیایی و مهاجرین سفیدپوست اروپایی معلومات تهیه کنید و به هم صنفان تان توضیح دهید.



کدام دین در استرالیا پیروان بیشتری دارد؟

در استرالیا اکثریت مردم عیسوی اند. غیر از دین عیسوی پیروان کیش های ابتدایی، بت پرستی و غیره نیز در جزایر اقیانوسیه و استرالیا دیده می شوند. پیروان دین اسلام هم در آنجا وجود دارند که در اقلیت اند. و تعدادی از یهودیان نیز در این قاره سکونت دارند.

زبان رسمی استرالیا زبان انگلیسی است. در استرالیا و جزایر دیگر اقیانوسیه زبان های مختلفی وجود دارند که گاه این زبان ها از یک ریشه استند و گاه به کلی از هم متمایز. باید یادآور شد که اقامت طولانی انگلیس ها در جزایر عمده این قاره؛ به خصوص در استرالیا و نیوزیلاند سبب شده که لسان انگلیسی در اقیانوسیه؛ به ویژه در استرالیا و نیوزیلاند عمومیت پیدا کند در میان همه زبان های بومی اقیانوسیه «پولینزی» صحبت کننده گان بیشتری دارد.

جدول معلومات اضافی در مورد ادیان و پیروان آنها در آسترالیا

پيروان به فيصدي	دين
۶۸	عیسویت
۲,۱	بودیزم
۱,۷	اسلام
۰,۴	هندوییزم
۲۷,۸	غيره کیش‌ها

### فعالیت داخل صنف

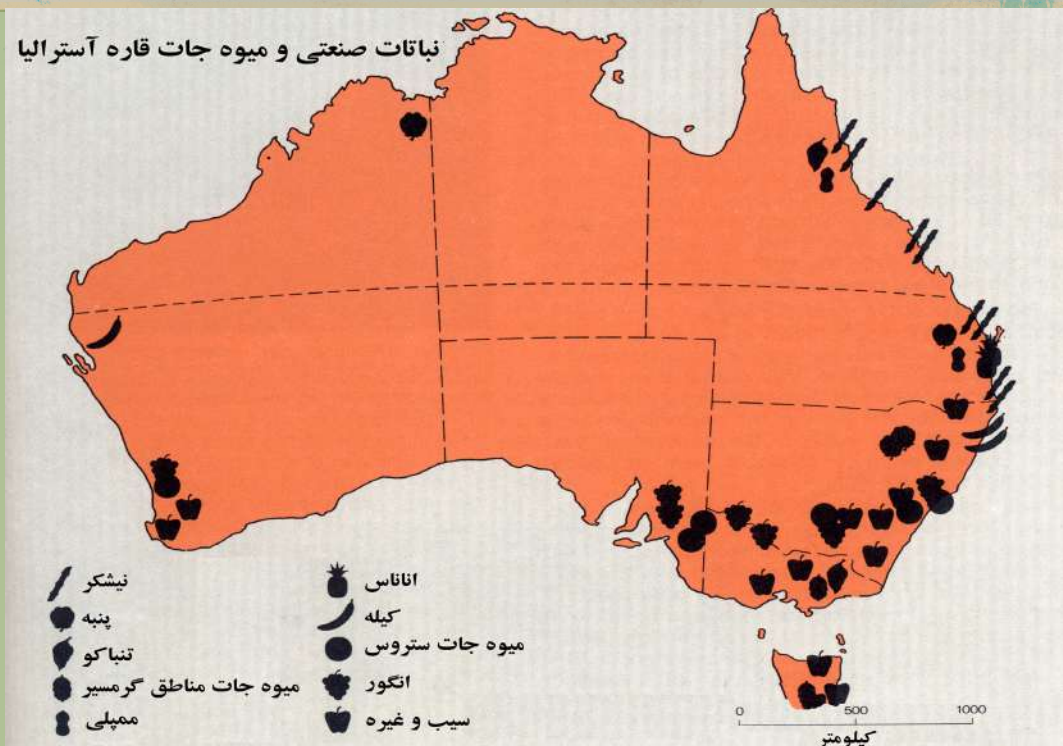
شاگردان به دو گروه تقسیم شوند، گروه اول راجع به ادیان و گروه دوم راجع به زبان‌ها در آسترالیا بحث کنند و نتیجه بحث خود را به سایر هم‌صنفان بیان کنند.

### سوال‌ها

- ۱- لسان رسمی آسترالیا کدام است و به نظر شما چرا این لسان به صفت لسان رسمی تعیین شده است؟
- ۲- با استفاده از نقشه ادیان در آسترالیا، بگویید که کدام دین در آسترالیا پیروان بیشتری دارد و چرا؟
- ۳- به نظر شما پیروان دین اسلام در آسترالیا در اصل از کدام ممالک اسلامی به آنجا مهاجر شده‌اند؟

### فعالیت خارج صنف

به کمک اقارب و دوستان تان در مورد افغان‌های مهاجر در آسترالیا معلومات حاصل نمایید که افغان‌ها و دیگر مسلمانان چه امکاناتی برای ادای فرایض دینی خود در آنجا دارند؟



علایم پیشرفت اقتصادی استرالیا را در چه می‌بینید؟

استرالیا با داشتن کلتور غربی مملکتی است که دارای سیستم اقتصاد بازار آزاد بوده و کشوری پیشرفته است. عواید سالانه فی نفر آن به طور اوسط بیش از ۲۳ هزار دالر امریکایی می‌باشد. علایم سریع پیشرفت اقتصادی این مملکت در این است که از یک حالت زراعتی به سرعت در حال صنعتی شدن است. به این معنا که در سال ۱۹۷۵ تقریباً ۱۵٪ نفوس آن در بخش زراعت مصروف بودند که در حال حاضر این رقم به ۳٪ می‌رسد. از باقی‌مانده نفوس فعال این کشور ۲۶ فیصد در صنعت و ۷۱ فیصد در بخش خدمات مصروف هستند.

با وجود محدودیت زمین‌های زراعتی و آب، استرالیا از لحاظ مواد غذایی زراعتی، مملکت خود کفا است؛ چنان که نفوس کم و مناطق با آب و هوای مختلف به خود کفایی این کشور کمک کرده است. زرع گندم ۶۰٪ مزارع استرالیا را به خود اختصاص داده است و منطقه کشت آن جلگه‌های غرب سلسله کوه‌های مرتفع شرقی در ویکتوریا و نیوساوت ویلز است. همچنان زیتون و انگور در قلمرو آب و هوای مدیترانه‌یی در جنوب غرب و در بعضی حصص جنوب شرقی و محصولات زراعتی نواحی معتدل مانند جواری، شفتالو، سیب و ناک از سواحل جنوب شرقی جزیره تسمانیا به دست می‌آید.

مالداری در استرالیا نسبت به زارعت بیشتر رشد کرده است؛ چنانچه سال‌های متمادی بنیاد اقتصادی استرالیا به مال‌داری استوار بود. وجود علفچرها و چمنزارهای وسیع طبیعی که در حدود ۳۴٪ از مجموع مساحت استرالیا را پوشانده اند، سبب توسعه و رواج کامل مالداری در این جزیره بزرگ شده است.


مناطق حوالی دریا‌های موری و دارلینگ در جنوب شرق، ساحهٔ علفچرهای مناسب برای نگهداری حیوانات می‌باشد. این مناطق بعد به مرکز پرورش گوسفند توسعه یافت و هنوز در حدود ۱۷۵ میلیون گوسفند در نیو ساوت ویلز یافت می‌شود؛ سپس مراکز نگهداری حیوانات، به نواحی کوینزلند انتقال یافته است. به اثر کمبود آب، پرورش گوسفند به طرف غرب کاهش یافته و در مقابل نگهداری گاو افزایش می‌یابد.



مالداری از فعالیت‌های مهم اقتصادی استرالیا است

آسترالیا یکی از بزرگ‌ترین تولیدکننده گان و صادرکننده گان پشم در جهان است که محصولات آن به کشورهای جاپان، آلمان و فرانسه صادر می‌گردد؛ همچنین آسترالیا یکی از صادرکننده گان مهم گوشت است چنانچه صادرات گوشت آن به ایالات متحده آمریکا، انگلستان، جاپان و کانادا صورت می‌گردد.

تصویر یک مزرعه در آسترالیا





قند نیز از اقلام عمده صادراتی این کشور به حساب می‌آید. همچنین این کشور از جمله بزرگ‌ترین صادرکننده گان گندم نیز در جهان شناخته می‌شود که محصولات گندم آن به ممالکی چون روسیه، چین و شرق میانه صادر می‌گردد.

تصویر محصولات انگور در استرالیا



### فعالیت داخل صنف

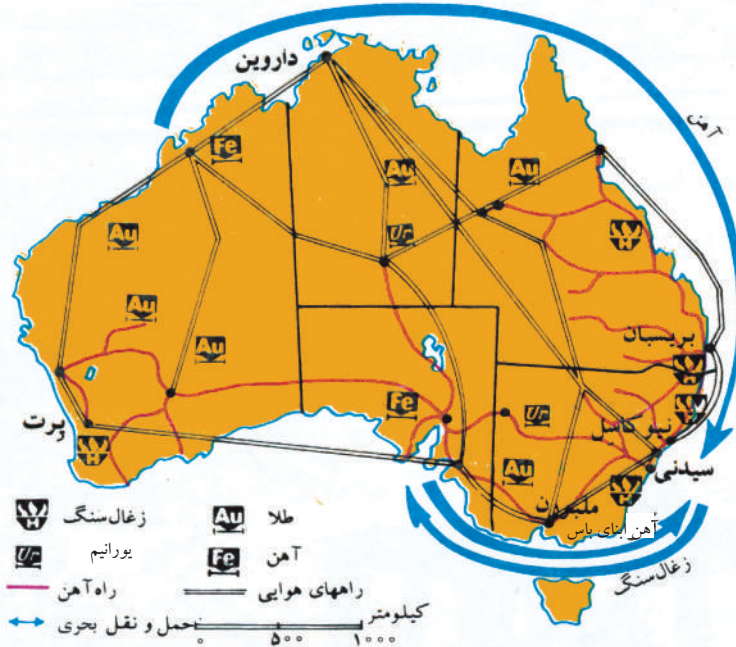
شاگردان به گروه‌ها تقسیم شوند و هر گروه با استفاده از نقشه استرالیا ساحات علفچر و مناطق زراعتی آن را نام برده و بر روی نقشه نشان دهند.

### سوال‌ها

- ۱- چرا مالرداری در استرالیا بیشتر رشد کرده است؟
- ۲- کدام نوع محصولات زراعتی در نواحی معتدل یافت می‌شوند؟ نواحی متذکره را بررسی کنید.
- ۳- مهمترین محصولات زراعتی و مالرداری استرالیا را نام ببرید.

### فعالیت خارج از صنف


در مورد عوامل پیشرفت اقتصادی استرالیا معلومات جمع‌آوری و ارائه دهید.



معادن و راه‌های مواصلاتی استرالیا

وضع معادن و صنایع در استرالیا چگونه است؟

تصویری از صنایع استرالیا



استرالیا یکی از کشورهای تولیدکننده و صادرکننده عمده مواد معدنی محسوب می‌گردد.

در سال ۱۸۵۱ موجودیت طلا در استرالیا توجه انگلیس‌ها و غیره ممالک اروپایی را به خود معطوف ساخت و تعداد زیادی از آنها به استرالیا مهاجرت کردند.

این کشور دومین کشور تولیدکننده آهن و همچنین بزرگ‌ترین تولیدکننده بوکسیت در جهان است که برای تولید المونیم مورد استفاده قرار می‌گیرد. سایر مواد معدنی‌یی که در استرالیا استخراج می‌شوند عبارت‌اند از: طلا، نکل، مس، سرب و یورانیم. استرالیا بعد از ایالات متحده آمریکا دومین ذخایر بزرگ یورانیم جهان را در اختیار دارد.

مهمترین منطقه نفتی استرالیا در آبناى باس (Bass Strait) قرار دارد که بین جزایر تسمانی و ویکتوریا واقع است. این کشور می‌تواند یک بخش احتیاجات نفتی خود را از داخل تأمین کند. در همین ساحه تولیدات گاز طبیعی نیز صورت می‌گیرد. استرالیا یکی از کشورهای صادرکننده زغال سنگ نیز است. از جنگ جهانی دوم به بعد بعد از سال ۱۹۵۰ صنایع استرالیا به پیشرفت‌های بزرگی نایل شده است. در سال (۱۹۹۹م.) سهم صنایع در تولیدات داخلی این کشور به ۲۶ فیصد رسیده است. صنایع قدیمی این کشور بر پایه محصولات حیوانی بنا شده بود؛ اما در حال حاضر افزایش سریع در صنعت کالاهای استهلاکی و صنایع ثقیل استرالیا دیده می‌شود؛ به طور مثال ظرف ۳۰ سال اخیر تولید فولاد این کشور به ۶ برابر افزایش یافته است. صنایع آهن و فولاد نیز به طور عمده در نیو ساوت ویلز مستقر شده است؛ علاوه بر فولاد، صنایع ساختمانی کاغذسازی، صنایع عمده دیگر آن شامل مواد غذایی، کیمیاوی و منسوجات است. صنایع استرالیا بیشتر در نواحی بی‌متمرکز استند که امکانات اولیه برای ایجاد صنعت موجود بوده است و به خصوص در نواحی بی‌که بازارهای وسیع خرید و مصرف در آنجاها وجود دارد. صادرات استرالیا علاوه بر گندم، گوشت و پشم که پیشتر یادآور شدیم، زغال سنگ، طلا و ماشین‌آلات را نیز شامل می‌شود که به ارزش مجموعی ۶۹ میلیارد دلار به کشورهای جاپان، اتحادیه اروپا، ایالات متحده آمریکا، چین و غیره ممالک آسیایی صادر گردیده بود.

واردات استرالیا زیاده‌تر ماشین‌آلات، وسایل ترانسپورتی، کامپیوتر، وسایل مخابراتی، سامان‌آلات دفاتر، تیل خاک و محصولات پترولی است که به ارزش ۷۷ میلیارد دلار در سال ۲۰۰۰ میلادی از اتحادیه اروپا، ایالات متحده آمریکا، جاپان و غیره ممالک آسیایی وارد گردیده بود.

### فعالیت داخل صنف


شاگردان به دو گروه تقسیم شوند. گروه اول با استفاده از متن و نقشه درس راجع به معادن و گروه دوم پیرامون صنایع استرالیا بحث نموده و نتیجه مباحثات شان را به همدیگر خود ارائه نمایند.

### سوال‌ها

- به نقشه معادن و صنایع استرالیا نگاه کنید و سوال‌های زیر را جواب دهید:
- ۱- یورانیم در کدام ایالات استرالیا وجود دارند؟
  - ۲- معادن آهن زیاده‌تر در کدام بخش استرالیا قرار دارد؟
  - ۳- نواحی صنعتی استرالیا به طور عمده در کجا واقع هستند؟

### فعالیت خارج از صنف

در مورد واردات و صادرات استرالیا معلومات جمع‌آوری و ارائه نمایید.



یک ایستگاه راه آهن در جلگه‌های مرکزی استرالیا

ترانسپورت زمینی، آبی و هوایی استرالیا در کدام سطح است؟

حمل و نقل در استرالیا با مشکل فاصله و تراکم نامساوی نفوس رو به رو است؛ از سوی دیگر وجود بیابان‌های وسیع و وسعت زیاد کشور نتوانسته است تا مانع احداث شبکه‌های وسیع در این سرزمین گردد.

اولین خط ریل در سال (۱۸۵۴م.) میان ملبورن و پورت-ملبورن کشیده شده است. در استرالیا در حدود ۴۰ هزار کیلومتر راه آهن (خط ریل) و بیش از ۹۰۰ هزار کیلومتر شاهراه‌ها و راه‌های موتررو وجود دارد. بیشتر این راه‌ها در نواحی شرقی، جنوب شرقی، جنوبی و جنوب غربی استرالیا احداث شده اند.

شاخه شرقی راه آهن این کشور که از شمال به جنوب امتداد یافته شهرهای بریسبان، سدنی و ملبورن را به یکدیگر وصل می‌کند. این راه آهن در جنوب به سمت غرب امتداد یافته و پس از گذشتن از ادلاید به بندر پرت در جنوب غرب استرالیا منتهی می‌شود.

قسمت عمده دریا‌های استرالیا به سبب جریان تند آن‌ها برای راه آبی داخلی استفاده نمی‌شود؛ اما از جهیل‌های واقع در جنوب استرالیا و تا حدودی از دریاها به منظور حمل و نقل استفاده صورت

می‌گیرد. آسترالیا دارای ۵۲ بندر کشتی‌رانی است که از آن جمله سدنی، ملبورن، نیوکاسل، ادلاید، بریسبان، هوبارت و غیره قابل یادآوری می‌باشند.

بنادر آسترالیا نه تنها برای حمل و نقل مواد از طریق راه‌های آبی به جهان خارج اهمیت دارند؛ بلکه در داخل آسترالیا نیز برای حمل و نقل بین ایالات مختلف آن قابل استفاده می‌باشند.

راه‌های هوایی آسترالیا بعد از جنگ دوم جهانی توسعه بیشتری یافته است. ترانسپورت هوایی در آسترالیا میان شهرهای از هم دورافتاده قابل اهمیت زیاد بوده و پیشرفت خوبی کرده است.

تمام شهرهای بزرگ دارای میدان‌های هوایی می‌باشند. در این کشور ۴۴۱ میدان هوایی خرد و بزرگ وجود دارد که از خدمات لازم برخوردار هستند.

### فعالیت داخل صنف

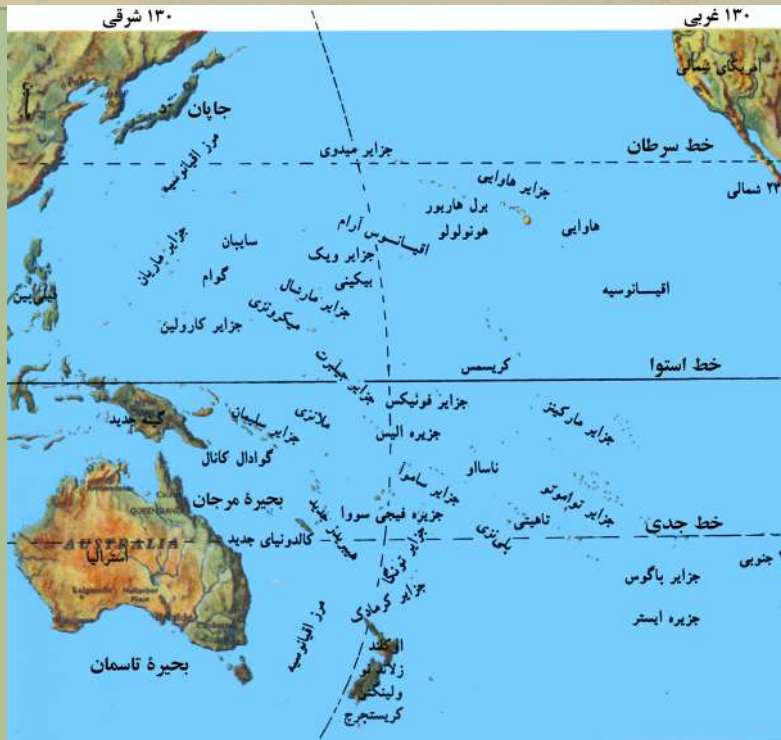
شاگردان به سه گروه تقسیم شوند و در مورد راه‌های مواصلاتی زمینی، آبی و هوایی آسترالیا بحث نموده و نتیجه بحث خویش را به سایر هم‌صنفان شان ارائه نمایند.

### سوال‌ها

- ۱- آسترالیا دارای چند نوع راه‌های مواصلاتی می‌باشد؟ آن‌ها را نام ببرید.
- ۲- به نظر شما کدام نوع ترانسپورت در آسترالیا پیشرفت خوبی کرده است؟
- ۳- به نظر شما حمل و نقل مواد توسط کدام نوع ترانسپورت ارزان تمام می‌شود و چرا؟

### فعالیت خارج از صنف

در باره مواصلات آسترالیا با استفاده از اینترنت و یا کتابخانه یک مقاله یک صفحه‌یی بنویسید.



نقشه براعظم استرالیا و اقیانوسیه

جزایر اقیانوسیه در کدام بحر موقعیت دارند؟

اقیانوسیه نام جزایر متعدد است که در اقیانوس آرام موقعیت دارند. اگر چه بحر آرام به تنهایی یک سوم مساحت کره زمین را به خود اختصاص داده؛ ولی جزایر اقیانوسیه کمتر از ۱۳۰۰۰۰۰ کیلومتر مربع مساحت دارند.

جزیره گینه جدید (Papua New Guinea) حدود ۶۰ فیصد و نیوزیلاند (New Zealand) ۲۰ فیصد مساحت اقیانوسیه را به خود اختصاص داده‌اند و ۲۰ فیصد باقی‌مانده مربوط به سایر جزایر است.

جزایر اقیانوسیه را از لحاظ جغرافیایی به سه گروه زیر تقسیم کرده‌اند: ملانزی (Melanesia) که در شمال و شرق استرالیا و در جنوب خط استوا قرار گرفته‌اند و به معنای جزایر سیاهان می‌باشد که گینه جدید نیز از جمله این جزایر است. در شمال خط استوا، شرق فیلیپین و جنوب جاپان جزایر دیگری قرار دارند که به آن‌ها میکرونزی (Micronesia) یا جزایر کوچک می‌گویند.

در نواحی مرکزی اقیانوس آرام جزایر متعدد دیگری قرار گرفته‌اند که به نام پلی‌نزی (Polynesia) یا «جزایر بسیار» مسما‌اند. از جمله این جزایر، هاوایی در شمال و نیوزیلاند در جنوب قابل یادآوری می‌باشند.

اقیانوسیه تحت تاثیر عرض جغرافیایی و بحر، آب و هوای گرم و بحری دارد. میزان رطوبت و حرارت

در اقیانوسیه بیشتر بوده و در تمام طول سال یک‌سان است. گمان می‌رود که ساکنان اولیه اقیانوسیه هزاران سال قبل از آسیا به آنجا مهاجرت کرده‌اند. برای رسیدن به جزایر اقیانوسیه، مهاجرین اولیه از کشتی‌های کوچک استفاده کرده و در جاهایی که ساختن پل امکان‌پذیر بوده پل احداث کرده‌اند. در طول چندین قرن کم‌کم مردم در جزایر مختلف ساکن شدند. در سال‌های ۱۷۰۰ و ۱۸۰۰ میلادی کاشفین اروپایی از تعداد بسیاری از جزایر اقیانوسیه بازدید کردند و تفاوت ظاهری مردم ملانزی، پلی‌نزی و میکرونزی توجه آنان را به خود جلب کرد.



یک بومی از باشنده‌گان ساموآ در حال یاد دادن صید ماهی به فرزندش

ساکنان این جزایر معمولاً زبان‌ها، ادیان، آداب و رسوم متفاوت دارند. مردم که در هر یک از سه منطقه فوق‌زنده‌گی می‌کنند متعلق به نژادهای مختلف‌اند و حتا گفته می‌شود که برخی ساکنان ملانزی از سیاهان مهاجر افریقایی و هندی می‌باشند.

علاوه بر این مهاجرت‌هایی بین جزایر صورت گرفته که اروپایی‌ها و آسیایی‌ها نیز در مهاجرت خود با بومیان مختلط شده‌اند.

ملانزی‌ها کوتاه‌قدترین مردم اقیانوسیه بوده و پوست تیره دارند.

میکرونزی‌ها قد بلندتر و پوست روشن‌تر از ملانزی‌ها دارند.

پلی‌نزی‌ها نسبت به دیگران بلندترین قد را دارند و در میان سه نژاد یاد شده دارای روشن‌ترین پوست‌اند.

### فعالیت داخل صنف

شاگردان به سه گروه تقسیم شوند. گروه اول جزایر ملانزی، گروه دوم جزایر پلی‌نزی و گروه سوم جزایر میکرونزی را بر روی نقشه تثبیت نموده و نشان دهند.

### سوال‌ها

- ۱- سه جزیره بزرگ اقیانوسیه را نام ببرید.
- ۲- مردم جزایر اقیانوسیه از لحاظ نژادی به چند گروه تقسیم شده‌اند؟ نام‌های آن‌ها را بگویید.

### فعالیت خارج از صنف

از روی نقشه اقیانوسیه جزایر عمده آن را لست کنید.



ناریال مهمترین محصول اقیانوسیه است

وضع زراعتی در جزایر اقیانوسیه چگونه است؟

مهمترین محصولات زراعتی جزایر اقیانوسیه ناریال است. کیله و میوه درخت نان، نیز از جمله محصولات درختی این جزایر اند. کاکاو، مرچ و قهوه نیز از تولیدات عمده زراعتی آن به شمار می‌روند و زنده گی مردم از طریق زراعت پیش برده می‌شود. در اقیانوسیه زراعت عنعنوی رواج دارد و زمین‌ها توسط خانواده‌ها زرع می‌شوند. در بسیاری جزایر حق کشت و ماهی‌گیری خانواده‌ها حفظ شده است. در حال حاضر



درخت نان

قسمت اعظم مزارع جزایر اقیانوسیه در اختیار اروپایی‌ها قرار دارد؛ ولی برخی دهقانان مالک زمین‌های خود می‌باشند. در برخی قریه‌ها زمین‌های زراعتی متعلق به تمام ساکنان یک قریه است و همه در آن شریک‌اند. پیشرفته‌ترین مملکت زراعتی اقیانوسیه نیوزیلاند است. یگانه محصول صادراتی همه جزایر کوپرا (Copra) مغز ناریال است. از روغن ناریال نیز برای تهیه روغن نباتی و صابون استفاده می‌شود



تصویری از صنایع ابتدایی کشتی سازی



و مازاد آن به کشورهای مختلف جهان صادر می شود. صادرات کپله نیز در این جزایر از اهمیت خاص برخوردار است.

ذخایر فاسفیت جزایر میکرونزیا و ملانزی را به اتمام است. از این معادن سالانه ۲,۶ میلیون تن فاسفیت بهره برداری شده است.

ثروتمندترین جزیره از لحاظ مواد معدنی کالدونیای جدید است که مواد معدنی و فلزاتی چون نکل، کروم، آهن، کوبالت، منگنیز، طلا و مس که از جمله تولیدات فلزی اقیانوسیه اند ۹۰ فیصد صادرات آن را تشکیل می دهند.

مهمترین صنایع اقیانوسیه بنیاد محصولات زراعتی دارد. صنایع تهیه روغن ناریل، صابون، شکر و کنسروسازی از این جمله اند. در جزایر

سلیمان، گینه جدید و ساموای غربی کارخانه های اره کشتی برای استفاده چوب های نجاری احداث شده است. در جزایر میکرونزیا و پلی نزی رشد صنعت بسیار ناچیز است و مردم آن اغلب به کارهای دستی مشغول اند.

تصویری از ترانسپورت بحری



کشتی های کوچک پارویی وسیله عنعنوی حمل و نقل منطقه اقیانوسیه است و مردم دهات از آن برای مسافرت های کوتاه و حمل نقل کالاها استفاده می کنند. برای مسافرت های دور از کشتی های بادبانی و یا موتوردار استفاده می گردد.

در حال حاضر مردم اقیانوسیه برای ارتباط خود با یکدیگر و یا ارتباط با سایر ممالک جهان وابسته گی زیاد به کشتی و پروازهای هوایی دارند.

### فعالیت داخل صنف



در باره تولیدات زراعتی جزایر اقیانوسیه در گروه های دو نفری مباحثه کنید و نتیجه بحث تان را به هم صنفان بیان کنید.

### سوال ها

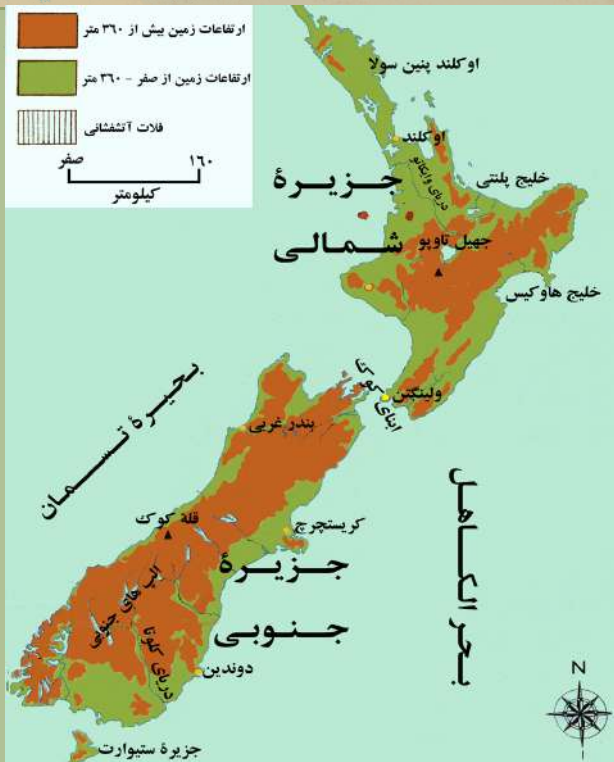


- ۱- تولیدات عمده زراعتی جزایر اقیانوسیه کدام ها اند؟
- ۲- مهمترین مواد معدنی جزایر اقیانوسیه را نام ببرید.
- ۳- اساس صنایع جزایر اقیانوسیه را کدام مواد تشکیل می دهند؟

### فعالیت خارج از صنف



در باره حمل و نقل در جزایر اقیانوسیه، امکانات و موانع مواصلاتی معلومات تهیه و ارائه نمایید.



نیوزیلاند، کشور مشهور اقیانوسیه چگونه مشخصات جغرافیایی دارد؟

نیوزیلاند کشوری مربوط اقیانوسیه است که در جنوب غرب بحرالکاھل به فاصله ۱۶۰۰ کیلومتر در شرق آسترالیا موقعیت دارد.

این کشور دو جزیره اصلی به نام‌های جزیره شمالی و جزیره جنوبی و جزایر متعدد کوچک دیگری دارد. بحیره تسمانیا این سرزمین را از آسترالیا جدا نموده است. جزیره جنوبی وسعت بیشتری دارد و آبناي کوک (Cook Strait) این دو جزیره را از یکدیگر جدا کرده است.

تقریباً سه بر چهار حصه مساحت نیوزیلاند را کوه‌ها و تپه‌ها پوشانیده است. که مهمترین آنها آلپ‌های جنوبی (South Alps) نام دارند و در جهت شمال شرقی - جنوب غربی در امتداد بحیره کشیده شده اند. بلندترین قله آلپ‌های جنوبی قله کوک است که بیش از ۳۷۰۰ متر ارتفاع دارد.

چون نیوزیلاند وسعت زیاد ندارد، دریاھای طولانی هم در آن دیده نمی‌شوند. دریاھای وایکاتو (Waikato) و کلوتا (Clutha) از دریاھای مشهور این کشور اند. اکثر دریاھای نیوزیلاند کوتاه بوده و دارای سرعت زیاد می‌باشند؛ به همین سبب برای تولید و تأمین برق بسیار مناسب می‌باشند. از دریاھای این کشور در آبیاری نیز استفاده می‌شود.

برخلاف آسترالیا، نیوزیلاند مملکت پرباران است و به طور عموم آب و هوای معتدل و مرطوب

بحری دارد.

وضع بشری و اقتصادی نیوزیلاند چگونه است؟


نیوزیلاند بیش از ۲۷۰ هزار کیلومتر مربع مساحت دارد. این کشور در سال ۲۰۰۶ م. بیش از چهار میلیون نفر نفوس داشت. تراکم نفوس آن در هر کیلومتر مربع به ۱۵ نفر می‌رسد. ۷۰ فیصد مردم این مملکت اروپایی اصلی هستند که زیادتر آنان از مملکت انگلستان به نیوزیلاند مهاجر شده‌اند. مردم در سر تا سر این کشور زنده‌گی می‌کنند و در حدود سه میلیون آن در جزیره شمالی و یک میلیون آن در جزیره جنوبی مستقر هستند. شهر مهم نیوزیلاند اوکلند (Auckland) است که در آن تراکم نفوس زیاد بوده و در حدود یک میلیون نفوس دارد.

شهر ولینگتن پایتخت نیوزیلاند



ولینگتن که مرکز نیوزیلاند است بیش از ۳۰۰ هزار نفر نفوس دارد. نیوزیلاند یک مملکت عصری و پیشرفته صنعتی است. اکثریت زمین‌های این مملکت کوهستانی است و بخش زیاد خاک آن در جلگه‌های ساحلی قابل زرع می‌باشد که در آن به طور عموم گندم، جو، جودر و علوفه برای حیوانات کشت می‌شود. آب و هوای مناسب، چمنزارهای وسیع و استفاده از فنون جدید در پیشرفت زراعت این کشور کمک کرده و زراعت بعد از مالداری در درجه دوم قرار دارد. پرورش حیوانات؛ به خصوص گوسفند در اقتصاد این مملکت اهمیت خاص دارد.

محیط مساعد طبیعی، مالداری را در نیوزیلاند گسترش داده است.



مواد عمده معدنی این مملکت فلزات است که از آن جمله طلا از صادرات مهم این کشور در سال‌های اول مهاجرت سفیدپوستان بوده و زغال سنگ نیز در این مملکت یافت می‌شود. صنعت نیوزیلاند بر پایه تولید مواد غذایی، صنعت کاغذ، چوب و مصارف محلی استوار است، که در آن از منابع آبی فراوان دریاها و برق استفاده می‌شود و در حدود ۱۸ فیصد عاید ملی را تشکیل می‌دهد.

استفاده از نیروی برق آبی



### فعالیت داخل صنف

شاگردان با استفاده از نقشه نیوزیلاند، تصویرها و متن درس، نکات عمده درس را جمع‌آوری نموده و در صنف بیان نمایند.

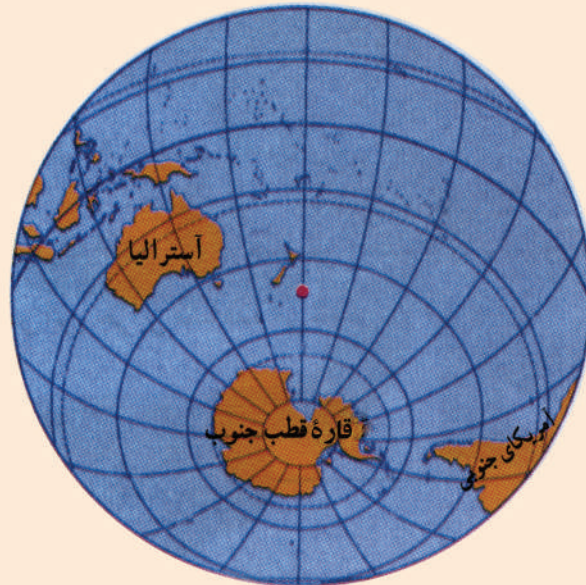
### سوال‌ها

- ۱- نیوزیلاند از چند جزیره بزرگ تشکیل شده و چه نام دارند؟
- ۲- تعداد زیاد نفوس نیوزیلاند در کدام جزیره سکونت دارند؟
- ۳- پدافار عمده زراعتی، معدنی و صنعتی نیوزیلاند را نام ببرید.

### فعالیت خارج صنف

با استفاده از نقشه موقعیت نیوزیلاند را به اساس خطوط طول البلد و عرض البلد تثبیت نموده، و بنویسید.

## انتارکتیکا (قطب جنوب)



موقعیت قاره آسترالیا، جزایر اقیانوسیه و انتارکتیکا در نیم کره جنوبی

نقشه انتارکتیکا

انتارکتیکا چگونه کشف شد؟

انتارکتیکا قاره‌یی است که بخش زیادی از آن در جنوب دایره قطب جنوبی موقعیت دارد و توسط سه بحر یعنی بحر آرام، بحر اتلانتیک و بحر هند احاطه شده است. به خاطر آبی که در دورادور انتارکتیکا وجود دارد بعضاً آن را به نام بحر منجمد جنوبی نیز یاد کرده اند.

انتارکتیکا بعد از آسیا، افریقا، امریکای شمالی و امریکای جنوبی چهارمین براعظم بزرگ جهان است که در حدود ۱۴ میلیون کیلومتر مربع مساحت دارد.

این قاره یکی از دورافتاده ترین و منزوی ترین خشک‌های جهان است که قطعات بزرگ یخ آن را به محاصره خود در آورده است.

بیش از ۲۰۰ سال قبل تصور می‌شد که قاره انتارکتیکا سرزمین مسکونی و خوش آب و هوایی است، اما در سال (۱۷۶۸م.) یک افسر نیروی بحری انگلیس به نام جیمز کوک (James Cook) بعد از آن که توانست به زحمت خود را به حوالی این قاره برساند، گزارش داد که حتا هیچ حیوانی نیز در این یخبندان قادر به ادامه زنده گی نیست. ۵۰ سال بعد در سال (۱۸۱۸م.) یک بحر پیمای امریکایی به نام ناتانیل پالمر (Nathaniel Palmer) از امریکای جنوبی (ارجنتاین) موفق شد خود را به نزدیک ترین نقطه قطب جنوب (انتارکتیکا) برساند.

در سال (۱۹۱۱ م.) یک مسابقه به خاطر کشف انتارکتیکا بین دو گروه اکتشافی صورت گرفت که یک هیأت انگلیسی به ریاست یک افسر نیروی بحری انگلستان به نام روبرت فالکن سکاوت

(Robert Falcon Scott) و یک هیأت نارویژی به ریاست یک دریانورد نارویژی به نام روالد آموندسن (Roald Amundsen) در این رقابت شرکت کردند.

تصویری از حیوانات قطبی



برنده این مسابقه هیأت نارویژی بود که بعد از گذشتادن ۹۹ روز مسافرت در روز ۱۴ دسمبر سال ۱۹۱۱ میلادی با طی نمودن ۲۹۹۳ کیلومتر به نقطه قطب جنوب رسید و بیرق برافراشته نارویژی را در آنجا به یادگار گذاشت؛ بعداً کاپیتان سکات در ۱۷ جنوری ۱۹۱۲ (یک ماه بعد) به آنجا رسید.

اعضای هیأت نارویژی به سلامت بازگشتند اما اعضای هیأت انگلیسی در بازگشت دچار برف و یخبندان شدند و همه آنان جان سپردند. در محلی که اجساد آنان کشف شده است به یادبود مکتشف انتارکتیکا یک مرکز تحقیقاتی ایجاد شده که به نام آن دو «آموندسن - سکات» نامگذاری شده است.

وضع طبیعی انتارکتیکا چگونه است؟

انتارکتیکا قاره غیر مسکونی، دست نخورده و پوشیده از یخ است.

این بر اعظم دشت پهناور و مسطح نیست بلکه سطوح مرتفعی است که از یخ و برف پوشیده شده است. در این قاره سلسله کوه‌های متعددی چه در حواشی و چه در مرکز قطب وجود دارد. انتارکتیکا مرتفع‌ترین قاره زمین است که ارتفاع متوسط آن از سطح بحر ۱۸۳۰ متر می‌باشد.

قطب جنوب، هوای بسیار سرد دارد که در زمستان تا منفی ۸۹ درجه سانتی‌گراد می‌رسد. هیچ گیاهی در این قاره قادر به رشد و نمو نیست فقط در بعضی بخش‌های این قاره نباتات از یک نوع گل سنگ می‌روید و در آب‌های حاشیه قطب جنوب انواعی از حیوانات بحری نیز زنده گی می‌کنند.

در بخش کوچکی که تحقیقات برای کشف معادن صورت گرفته نشان می‌دهند که در انتارکتیکا ذخایر قابل ملاحظه آهن، زغال سنگ، نفت، گاز و سایر مواد معدنی وجود دارد که برای استخراج آن‌ها به سبب مصارف گراف و سنگین فعلاً دلچسپی وجود ندارد.

### فعالیت داخل صنف

شاگردان به دو گروه تقسیم شوند؛ گروه اول راجع به کشف قاره انتارکتیکا و گروه دوم راجع به این که چرا این قاره تاکنون غیر مسکونی است بحث و مشاجره نمایند و نتیجه بحث خویش را به سایر هم‌صنفان شان ارائه کنند.

### سوال‌ها

- ۱- انتارکتیکا در کجا موقعیت دارد و توسط کدام بحرها احاطه شده است؟
- ۲- کاشفین انتارکتیکا را نام ببرید.
- ۳- آب و هوای قطب جنوب چگونه است؟
- ۴- در مورد معادن پیش‌بینی شده در قاره انتارکتیکا معلومات دهید.

### فعالیت خارج از صنف

اشکال داده شده در درس سی و یکم را توضیح نموده و نظرتان را درباره آن‌ها در چند سطر بنویسید.

## خلاصه فصل دوم

قاره استرالیا در حقیقت یک جزیره بزرگ است که در نیم کره جنوبی در آب‌های بحر آرام و بحر هند قرار گرفته است.

تقریباً ۵۰۰۰۰ هزار سال پیش مردمان اولی به استرالیا رفتند. مردمان بومی این سرزمین به نام ابورجینالس (Aboriginals) یاد می‌شوند.

این قاره در قرن شانزده و هفده به اثر مسافرت‌ها و کشفیات زیاد بحری اروپایی‌ها کشف گردید. کوه‌های مشهور این قاره گریت دیوای دینگ (Great Dividing) است که در شرق آن از شمال تا به جنوب امتداد یافته است و منابع مهم آبی را نیز تشکیل می‌دهد.

مهمترین دریای استرالیا موری (Murray) است که سه شاخه دارد؛ از نواحی کوه‌های دیوای دینگ سرچشمه می‌گیرد و به خلیج بزرگ استرالیا می‌ریزد. ایر (Eyre) از بزرگ‌ترین جهیل‌های نمک‌دار در استرالیا است، که عمیق‌ترین نقطه استرالیا نیز در همین جهیل موقعیت دارد.

بخش زیاد استرالیا اقلیم تحت استوایی و یک بخش شمال آن اقلیم استوایی دارد. تقریباً دو سوم استرالیا خشک است که قابل کشت و زراعت نمی‌باشد.

استرالیا دولت فدرالی است که به شش ایالت و دو منطقه تقسیم گردیده و مرکز آن شهر کانبرا است. اکثریت مردم استرالیا سفیدپوستان اروپایی و عیسوی اند که به لسان انگلیسی تکلم می‌کنند. استرالیا یک کشور پیشرفته است که اکثریت مردم آن در بخش خدمات مشغول اند. صادرات عمده این مملکت پشم، گوشت، گندم، زغال سنگ، طلا و ماشین‌آلات و واردات آن وسایل ترانسپورتی، ماشین‌آلات، وسایل مخابراتی و محصولات پترولی است. استرالیا دارای تمام انواع حمل و نقل و مواصلات پیشرفته می‌باشد.

اقیانوسیه دارای جزایر متعدد است که کلان‌ترین جزیره آن جزیره پاپوا گینه جدید Papua New Guine است. مردم این جزایر معمولاً زبان‌ها، ادیان و آداب و رسوم متفاوت دارند. مهمترین محصول زراعتی جزایر اقیانوسیه ناریال است.

نیوزیلاند از کشورهای مشهور اقیانوسیه است که یک مملکت عصری و پیشرفته صنعتی است.

انتارکتیکا (قطب جنوب) قاره‌یی غیر مسکونی، دست‌نخورده و پوشیده از یخ است. نقطه مرکزی این قاره توسط یک هیأت نارویژی و انگلیسی در سال ۱۹۱۱ میلادی کشف گردید. انتارکتیکا به دلیل سردی هوا و شرایط نامناسب طبیعی فعلاً قابل سکونت نبوده و از منابع طبیعی آن نیز استفاده صورت نمی‌گیرد.

جدول بعضی مشخصات جغرافیایی کشورهای مستقل اقیانوسی

شماره	مملکت	مرکز	مساحت به کیلومتر مربع	تعداد نفوس در سال ۲۰۰۸	تراکم نفوس در فی کیلومتر مربع
۱	پاپوا نیوگینه	پورت مورسی	۴۶۲۸۴۰	۵۹۳۱۷۶۴	۱۲/۸
۲	پالائو	کورو	۴۵۹	۲۱۰۹۳	۴۶
۳	توتکا	نوکو آلوفا	۷۴۷	۱۱۹۰۰۹	۱۵۹/۳
۴	تووالو	واپاکو	۲۴	۱۰۴۰۰	۴۰۷/۷
۵	تیمور شرقی	دیلی	۱۴۸۷۴	۱۱۰۸۷۷۷	۷۴/۵
۶	زیلاند نو	ولینگتن	۲۷۰۵۳۴	۴۱۷۳۴۶۰	۱۵/۴
۷	ساموآ	آپیا	۲۸۳۱	۲۱۷۰۸۳	۷۶/۷
۸	جزایر سلیمان	هونبارا	۲۸۸۹۶	۵۸۱۳۱۸	۲۰/۱
۹	فیجی	سووا	۱۸۲۷۴	۸۵۰۰۰۰	۴۶/۷۹
۱۰	کیریباتی	تاراوا-جنوبی	۷۲۶	۱۱۰۳۵۶	۱۵۲
۱۱	جزایر مارشال	ماجورو	۱۸۱	۶۳۱۷۴	۳۴۹
۱۲	میکرونزی	پالیکیر	۷۰۲	۱۰۷۶۶۵	۱۵۳
۱۳	نانورو	یارن	۲۱	۱۳۷۷۰	۶۵۵/۷
۱۴	وانواتو	بندر ویلا	۱۲۱۸۹	۲۱۵۴۴۶	۱۷/۷



## اصطلاحات

اپارتاید: برخورد جداگانه و فرق بین مردم سیاه و سفید که از سال ۱۹۴۸ میلادی در کشور آفریقای جنوبی شکل قانونی داشت.

اقلیم استوایی: ساحه اقلیمی که در اطراف خط استوا قرار دارد و شامل ساحه اقلیم جنگل‌های بارانی استوایی و سوانا می‌شود.

اقلیم ساحه جنگل‌های بارانی: اقلیمی که در تمام سال همراه با باران می‌باشد.

اقلیم خشک: ساحه اقلیمی که شامل اقلیم ستپ و اقلیم صحرایی می‌باشد.

اقلیم سرد: ساحه اقلیمی که دارای اقلیم توندرا، اقلیم برفی و اقلیم کوه‌های بلند می‌باشد.

اقلیم ستپ: اقلیم خشک که در تابستان زمان کوتاه باران دارد.

اقلیم مدیترانه‌یی: اقلیمی است که تابستان آن گرم و خشک و زمستان آن ملایم و بارانی می‌باشد.

بادهای تجارتی (Trade Winds): بادهای تجارتی بین عرض‌البلدهای ۳۰,۵ درجه نصف کره شمال و جنوبی به وجود آمده از شمال شرق به استقامت جنوب غرب به حرکت می‌افتد اما در نصف کره جنوبی سمت حرکت آنها از جنوب شرق به استقامت شمال غرب صورت می‌گیرد. بادهای تجارتی در قرن ۱۵ و ۱۶ اهمیت زیادی داشت و به کمک همین بادهای تجارتی بود که مال‌التجاره ممالک شمال و جنوب با یکدیگر تبادل می‌گردید.

بارنده گی: باران، برف و ژاله که از اثر ابر می‌بارد، بارنده گی است.

بازی‌های سکی: یک نوع از سپورت زمستانی است که در کوه‌های پر از برف صورت می‌گیرد.

بومیان: مردمانی که به عنوان نخستین باشندگان یک سرزمین شناخته شده باشند.

پارک ملی (National Park): ساحه ارزشمند طبیعی بسته که حداقل ده‌هزار هکتار باشد و توسط دولت محافظت و نگهداری گردد.

تبخیر: تغییر حالت فیزیکی مایع به بخار.

تراکم: اوسط افراد ساکن در هر کیلومتر مربع.

تجارت: خرید و فروش مواد و محصولات.

توپوگرافی: توپوگرافی از دو کلمه یونانی یعنی «توپو» به معنای مکان و «گرافی» به مفهوم ترسیم یا تشریح اقتباس شده، که ترسیم یا نمایش ساختارهای موجود هر منطقه اعم از طبیعی یا مصنوعی را توپوگرافی می‌نامند.

توریزم: مردمی که امکانات سفر دارند و وقت فراغت خود را در یک ساحه دیگر می‌گذرانند به نام توریستان یا جهانگردان یاد می‌شوند. ممالکی که ساحات خوب توریستی دارند و سبب جذب توریستان می‌شوند عاید زیاد به دست می‌آورند.

جغرافیای اقتصادی: جغرافیایی که در باره تولید، توزیع و مصرف مواد گوناگون بحث می‌کند.

جغرافیای بشری: فعالیت‌های بشری، توزیع جغرافیایی نفوس و جوامع بشری را در ارتباط با محیط زیست مطالعه می‌نماید.

جغرافیای طبیعی: عوارض و پدیده‌های زمین را مورد بررسی قرار می‌دهد.

جغرافیای سیاسی: بخش از جغرافیا است که دربارهٔ حدود و سرحدات کشورها، روابط داخلی و بین‌المللی، تشکیلات اداری و اجتماعی و امثال آن‌ها بحث می‌کند.

جغرافیای مواصلاتی: شاخه‌یی از جغرافیه است که دربارهٔ راه‌های خشکه، آبی و هوایی بحث می‌کند.

جنگل‌های استوایی: جنگل مناطق استوایی که میان ۷ درجهٔ عرض البلد شمالی و ۷ درجهٔ عرض البلد جنوبی واقع شده و دارای هوای گرم و مرطوب، بوده و فاقد فصل خشک و بی‌باران است.

دبت (Debit): مقدار آب که در یک زمان معین از نقطهٔ معینی از دریا عبور می‌کند و در اندازه‌گیری حجم آب دریا از آن استفاده می‌کنند.

دلتا (Delta): دهانهٔ دریا یا منطقه‌یی از مواد رسوبی واقع در دهانهٔ یک دریا که موجب هموار شدن زمین و شاخه شاخه شدن دریا می‌گردد.

دهن یا مصب دریا: جایی است که دریا به بحیره یا بحر می‌ریزد و به هم وصل می‌شوند.

زبان: وسیلهٔ صوتی منظمی است که انسان برای ایجاد ارتباط با هم‌نوع خود به کار می‌برد.

ساحهٔ تکتونیک: ساحه‌یی است در قشر زمین که در آنجا اشکال گوناگون ساختمانی مانند بلندی‌ها، پستی‌ها، چین‌ها، درز و ترک‌ها و غیره تشکیل شده باشد.

ستپ: ساحات دارای اقلیم نیمه‌خشک که نباتات گیاهی و اشجار به صورت پراکنده و یا قطعه‌قطعه در آن سراغ می‌شود.

صادرات: ارسال محصولات غرض فروش به ممالک خارجی.

صنعت: تغییر شکل و ساختن مواد یا محصولات؛ به خصوص توسط ماشین.

عواید ناخالص ملی: ارزش تمام محصولاتی می‌باشد که در یک مملکت در بخش‌های مختلف در یک سال تولید می‌گردد.

کانال: حفر خشکه به منظور ارتباط دو بحیره یا بحر توسط انسان برای تسهیلات حمل و نقل؛ ممکن است بین دو دریا نیز کانال حفر شود و دو منطقه را با هم وصل کند.

کشفیات بحری: سفرهای بحری توسط کشتی به خاطر کشف مناطق ناشناخته.

کلتور: تمام رسوم و عنعنات آموخته شده توسط یک گروه مردم که به سمبول‌ها، قهرمان‌ها، رواج‌ها، و ارزش‌ها شناخته می‌شوند.

مهاجرت: حرکت و جابه‌جایی مردم در داخل کشور و یا خارج از مرزها. مهاجرت‌های داخلی و خارجی به سبب عوامل گوناگون اقتصادی، سیاسی و طبیعی.

نژاد: گروهی از مردم که از نظر اصالت و وراثت طبیعی دارای خصوصیات یکسان باشند، یعنی از حیث مشخصات قیافه، کوتاهی و بلندی قد، رنگ چشم، مو و پوست با هم شباهت داشته باشند.

واردات: خرید مواد و محصولات از ممالک خارجی و آوردن آن‌ها به داخل کشور.